



公考通

2016 年江苏公务员考试《行测》真题 A 类

(网友回忆版)

公考通网校

www.chinaexam.org



公考通 APP 微信公众平台

第一部分 常识判断

(共 20 题, 参考时限 15 分钟)

根据题目要求, 在四个选项中选出一个最恰当的答案。

1. 党的十八届五中全会通过了《中共中央关于制定国民经济和社会发展第十三个五年规划的建议》, 下列对于该建议的理解正确的是 ()
 - A. 《“十三五”规划建议》是针对“两个一百年”奋斗目标收官阶段提出的战略蓝图
 - B. 《“十三五”规划建议》充分论述了继续坚持我国改革开放以来发展方式的必要性
 - C. 《“十三五”规划建议》针对社会主要矛盾的新变化提出了经济社会发展的新方针
 - D. 《“十三五”规划建议》提出并阐释了我国经济社会发展的“五大发展理念”
2. 2015 年 11 月 30 日, 国际货币基金组织宣布将人民币纳入特别提款权 (SDR) 货币篮子, 以下说法正确的是 ()
 - A. 中国以后的外汇储备都将以 SDR 计价
 - B. 中国居民可直接用 SDR 进行海外购物
 - C. 人民币已经获得世界货币的地位
 - D. 人民币可在世界任何地方自由兑换
3. 下列关于“三严三实”专题教育的说法, 正确的是 ()
 - A. “三严三实”专题教育是加强党的组织建设的根本途径
 - B. “三严三实”专题教育的对象为全体党员干部
 - C. “三严三实”的重要论述由习近平总书记于 2014 年在江苏调研时首次提出
 - D. “三严三实”专题教育是党的群众路线教育实践活动的延展和深化
4. 法国作家雨果说: “最大的决心会产生最高的智慧。”下列与这句话蕴含相似哲理的是 ()
 - A. 入山问樵, 入水问渔
 - B. 巧妇难为无米之炊
 - C. 只要有信心, 黄土变成金
 - D. 劈柴不照纹, 累死劈柴人
5. 下列景色按春夏秋冬顺序排列正确的是 ()
 - ① 稻花香里说丰年, 听取蛙声一片
 - ② 棠梨叶落胭脂色, 荞麦花开白雪香
 - ③ 碧玉妆成一树高, 万条垂下绿丝绦
 - ④ 山舞银蛇, 原驰蜡象, 欲与天公试比高
 - A. ①③②④

B. ②①④③

C. ③①②④

D. ④③②①

6. 《茉莉花》被称为“流传到海外的第一首中国民歌”。下列关于这首民歌的说法，正确的是（ ）

A. 《茉莉花》的发源地在浙江湖州一带

B. 《茉莉花》由波斯商人通过丝绸之路传到欧洲

C. 最早记录《茉莉花》的西方著作是《马可波罗游记》

D. 《茉莉花》因歌剧《图兰朵》将其作为主题音乐而风靡欧洲

7. “一带一路”是我国当前大力推进的国家经济发展重要战略，下列关于“一带一路”战略说法正确的是（ ）

A. 2013年是“一带一路”战略全面实施的开局之年

B. “一带一路”战略承载了丝绸之路沿途各国共同繁荣的梦想

C. 助推“一带一路”建设的加速器是边境地区的互联互通

D. 推进“一带一路”建设的重要依托是边境地区的和平稳定

8. 预计表明，2020年到2050年，我国60岁以上人口占比将从19.3%上升到38.6%。下列说法错误的是（ ）

A. 我国家庭人口的抚养比逐渐减小

B. 我国的老龄化社会问题将日益严峻

C. 推动我国经济发展的人口红利逐步消退

D. 养老保险的支付压力将会越来越大

9. 资本国际化是指资本越出一国的范围在国际间运动和增值。下列未能体现资本国际化的是（ ）

A. 某集团以数十亿美元收购国外企业

B. 某公司撤出伦敦股市的资金转投芝加哥商品期货市场

C. 两个国家的农产品贸易集团签署相互持股的协议

D. 各国消费者通过电商购买境外的商品和劳务

10. 如果你规划“重走长征路”的活动路线，下列不应列入活动路线的地方是（ ）

A. 江西瑞金

B. 湖南岳阳

C. 贵州遵义

D. 四川阿坝

11. 下列对诗句“收拾金瓯一片，分田分地真忙”的理解，错误的是（ ）

- A. 该诗句的创作背景是第二次国内革命战争时期
- B. “分田分地”的实质是确立农民个体所有的土地制度
- C. 该诗句描述的景象发生在闽西地区
- D. 当时苏维埃政权的基本任务是“打土豪，分田地”
12. 高铁列车的车窗和车门在运行过程中必须完全密闭。对此，下列解释最准确的是（ ）
- A. 减少高铁列车运行的能源消耗
- B. 保持高铁列车车厢内部的安静
- C. 避免车速过快形成空气压强差
- D. 确保高铁列车车厢内部的整洁
13. 发生火灾时不匍匐前进难以逃生，关于其原因，下列说法错误的是（ ）
- A. 低处有残留的新鲜空气
- B. 有毒有害气体集中于高处
- C. 浓烟自下而上扩散
- D. 低处视野比较清晰
14. 下列诗句与描写的景点对应正确的是（ ）
- A. 会当凌绝顶，一览众山小——安徽黄山
- B. 水光潋滟晴方好，山色空蒙雨亦奇——杭州西湖
- C. 二十四桥明月夜，玉人何处教吹箫——北京昆明湖
- D. 飞流直下三千尺，疑是银河落九天——贵州黄果树瀑布
15. 我国山脉众多，给自然与人文地理环境带来深刻影响。对此，下列说法错误的是（ ）
- A. 秦岭山脉是我国南北方的重要地理分界线
- B. 祁连山脉融雪是河西走廊绿洲农业的主要水源
- C. 喜马拉雅山脉是世界上最年轻最高大的山脉
- D. 阴山山脉是传统上重要的农业与林业的分界
16. 下列对司法俗语的说明错误的是（ ）
- A. 案结事了——司法解决的根本性
- B. 有告必理——司法解决的普遍性
- C. 不告不理——司法活动的被动性
- D. 一事不再理——司法程序的终结性
17. 返乡大学生陈某利用互联网销售家乡的土特农产品，取得了较好的收益，为了更好地发展当地的互联网经济，他准备发起成立本县电商协会。该协会的合法登记机关应是（ ）

- A. 县公安局
- B. 县工商局
- C. 县民政局
- D. 县经信局

18. 村民王某提出宅基地使用申请，乡政府审核后报县土地主管部门审批，获得批准。县水利主管部门巡查时发现王某的房屋建在泄洪区，便责令王某停止建设，并自行拆除已建部分。王某不服水利部门的处罚。下列关于本案的说法，正确的是（ ）

- A. 法院应将乡政府列为共同被告
- B. 法院应将县土地主管部门列为第三人
- C. 法院应判决县土地部门赔偿王某的损失
- D. 法院应告知王某先复议，不服后方可起诉

19. 17 岁的刘某在工厂打工，每月工资 3000 元。某日，刘某外出忘关水龙头导致租住屋浸水，房东要求赔偿遭拒，遂将其诉至法院。下列关于本案的说法正确的是（ ）

- A. 法院应判决刘某独立承担赔偿责任，因其是完全行为能力人
- B. 法院应判决刘某承担主要赔偿责任，因其是限制行为能力人
- C. 法院应判决刘某家长承担赔偿责任，因刘某是无民事行为能力人
- D. 法院应判决刘某家长承担连带赔偿责任，因为刘某是部分行为能力人

20. 某地方政府为推进绿色发展准备采取一系列措施，下列措施中最合理的是（ ）

- A. 向辖区内钢铁厂提供能耗补贴
- B. 对过度包装、浪费和过度消费采取惩罚性措施
- C. 规定居民只能购买新能源汽车
- D. 向公众推出环境质量实时监控信息平台

第二部分 言语理解与表达

（共 35 题，参考时限 30 分钟）

一、片段阅读。每道题包含一段文字，要求你从四个选项中选出最恰当的一项，你的选择必须与题干要求相符合。

21. 从特定意义上说，决策的过程就是抢抓机遇，将可能性变为现实的过程。机遇从来都是公正的，机遇一旦到来，就看谁能审时度势，及早地发现它，抓住它；能否抓住它，又关键看谁具有立断立行的智慧和勇气。凡是决策，没有不存在风险的，若想等到有百分之百的把握再拍板，恐怕时机早已逝去。

这段文字主要说明（ ）

- A. 应该掌握时机果断决策以免错失机遇
- B. 决策者的智慧和勇气是决策成败的关键
- C. 有了充分的把握再决策已丧失最好的时机
- D. 决策者主要考虑如何将可能性变为现实

22. 实际上，实地调研、田野考察，应该成为一切社会科学普遍运用的最基本的研究方法之一。遗憾的是，有些学科在迅速发展它的逻辑分析工具和数学描述语言的同时，在很大程度上抛弃了这个优秀的传统，研究者仅仅依赖那些来自统计年鉴的数据，进行逻辑推理和计量建模，而忽视了直接从真实世界获得鲜活的理论灵感和真实数据。

这段文字主要讨论“社会科学”的（ ）

- A. 分析工具 B. 数据处理
- C. 优秀传统 D. 研究方法

23. 风是地球上空的传送带，它将大陆的沙尘吹向海洋，又将海洋的水汽吹向大陆。沙尘和水汽相遇，便能结合为云，最终化为降水。可见沙尘不仅在土壤的分布和补充上扮演着重要的角色，而且在全球的水循环上也扮演着重要的角色。可以说，_____。

填入划横线部分最恰当的一句是（ ）

- A. 决定全球生态的平衡因子是沙尘
- B. 风使得全球生态达到了平衡状态
- C. 全球生态的平衡因子取决于风向
- D. 沙尘也是决定全球生态的平衡因子

24. 内容产业包括三个层次：信息、知识和智慧。报业更多是生产信息，而出版业主要集中在知识和智慧层面，生产信息的必然先于生产知识和智慧的受到互联网的冲击。其实原先不少报纸有在知识层面生产的传统，但近年来，报纸的这一特色日益褪色。如果报纸不能从知识层面生产信息，只是在海量信息层面做文章，竞争不过新媒体是自然而然的。

这段文字重在说明（ ）

- A. 报业竞争不过新媒体是毋庸置疑的事情
- B. 报业相比出版业更早受到互联网的冲击
- C. 互联网的海量信息是其取胜的关键武器
- D. 今天报业欲生存应多在知识层面生产信息

25. 在这位演员死后的几周内，很多关于精神疾病和抑郁症的讨论纷纷见诸报端，包括演员自杀的各种猜测也走进了人们的视野。继而，舆论开始转向了对精神疾病和治疗进展的讨论。是的，社会确实需要鼓励开展这种话题的讨论。然而，有多少讨论是聚焦抑郁症患者每天必须面对的精神困扰？似乎更多的讨论集中在精神疾病的悲剧结局上，而不是及时进行干预，似乎抑郁症患者

的死亡比他们的生命更容易引起讨论，这种状况亟需改变。

下列说法不符合文意的是（ ）

- A. 抑郁症患者的精神状况更值得关注
- B. 对抑郁症患者的精神困扰讨论不够
- C. 舆论应减少对精神疾病话题的讨论
- D. 舆论过度关注精神疾病患者的自杀原因

26. 一张照片中的场景是这样的：夜幕降临，各种灯光开始勾勒出城市的轮廓，高低错落的楼宇林立，道路上车流的灯光划出流光溢彩的轨迹。如果时空真的能够穿越，让古人穿越到这里，他们一定不会对眼前的景色陌生，因为古人喜欢将楼阁依水依河而建，喜欢登楼观水，这道路不就是高楼峡谷中蜿蜒流淌的河流吗？

根据文意，这张照片拍摄的角度是（ ）

- A. 仰视 B. 俯视 C. 平视 D. 侧视

27. 每天，体内的钙会通过汗液、尿液等途径排出，维持钙的平衡就需要补充一些钙。对于儿童，骨骼生长需要钙的沉积，需要的钙就比排出的要多。再考虑到人体对钙的吸收效率，欧美国家推荐的标准是青少年每天 1300 毫克，成人每天 1000 毫克，老年人则是 1200 毫克，而婴幼儿，学龄前儿童根据年龄会低一些。

下列不符合文意的是（ ）

- A. 青少年需要更多的钙帮助骨骼生长
- B. 不同的人吸收钙的效率是有差别的
- C. 随着年龄的增长，钙的需求量也不断增加
- D. 人每天会有一定的钙从身体里流失

28. 立法者希望通过法律文本语言向社会传递其价值立场，而要准确理解和严格的遵守法律语言背后的价值立场，就需要对法律文本语言进行解释。以一般的、抽象的形式表达出来的法条最终需要适用于特殊的具体个案，法官需要解决的一个前提性问题就在于，该具体情形是否属于一般性规定所涵摄的范围，而回答这一问题的过程本身就是一个解释的过程。

这段文字着重强调的是（ ）

- A. 法律解释的必要性
- B. 法律文本应通俗易懂
- C. 法官应准确理解法条
- D. 法条适用个案需具体化

29. 网络用语从一开始就不是交际语言。文字和语言的性质是不一样的，语言本质上是用声音符

号做物质外壳的，文字则是用来记录有声语言的。世界上大多数语言并没有文字，这些语言也就不会有网络用语。文字有记录，保存语言的功能，并能远距离传送，网络主要利用文字来实现即时的远距离交流，文字有这样的优点，但是它不能取代语言。

根据文意，网络用语之所以不是交际语言，是因为（ ）

- A. 网络用语本质上是用文字符号记载的语言
- B. 网络语言主要用来实现即时的远距离交流
- C. 文字虽能远距离传送但不能取代交际语言
- D. 网络即使再发达也不可能不用交际语言

30. 中国传统节日基本上是按天人和谐的精神设立，按时令顺序相继排列的，与大自然的节律相适应。“节”是天地时气的交合之处，是“天”“地”日月的节奏，那么也应当是“人”的节奏，它区隔出一年生活周期中的各个阶段，展现出一年生活中各个阶段的涵义，有如生命成长过程中的各个阶段，是连通自然节律与人生节律的“节点”。

下列说法与文意不符的是（ ）

- A. 中国传统节日的主导观念是天人合一
- B. 中国传统节日的“节”有多重涵义
- C. 中国传统节日可以对应人生不同阶段
- D. 中国传统节日犹如自然与人生的标记

31. 现代神经学普遍认为决定情商的机制在人的大脑里，神经学家做了大量的实验来探索情商的神经机制。智商方面的研究发现，智商高的人解决问题的时候大脑的活动量反而低，这表明他们大脑的应用效率很高。而类似的情商研究也发现，当试图解决与情感相关的问题时，情商高的人的脑电波活动力量也略低一些，显示出和智商类似的机制。

下列说法与文意最相符的是（ ）

- A. 情商高的人脑电波活动量比一般人低
- B. 脑电波活动量较高的人智商相对比较低
- C. 情商高的人大脑应用效率相对比较高
- D. 智商高的人大脑机制与情商高的人相同

32. ①同一，是因为所有的现代人都是大约二十万年前从同一个人群繁衍下来的

②分布各地的各个所谓种族也彼此杂居，通婚

③遗传学家们早就意识到，人类的生物学特征是既同一又多样的

④因此，将人类划分为几个种族，只有社会，文化意义，没有生物学意义

⑤处于这个连续谱带两端的群体，比如东亚人，北欧人，南非人，他们的特征差异是明显的，但

是中间还存在着大量的难以划分的族群

⑥因此人类身体特征的变异，并不具有明显的界限，而是一条连续的谱带

将以上 6 个句子重新排列语序正确的是（ ）

A. ③①②⑥⑤④ B. ③①⑥②④⑤

C. ⑥⑤②①③④ D. ⑥①②④⑤③

33. 相较于传统外贸，跨境电子商务的优势非常明显，跨境电商不仅具有压缩中间环节，降低中小企业发展成本，增加就业等传统优势，还有重塑国际产业链，促进外贸方式转型，增强国际竞争力等作用，对于中国制造发展将带来极大利好。围绕跨境电商，我国正在形成一条从营销到支付、物流和金融服务的非常清晰完整的链条和支撑体系，为中小企业走出去提供了可能。

这段文字重在说明（ ）

A. 跨境电商较传统对外贸易有明显优势

B. 跨境电商将为中国制造发展带来机遇

C. 跨境电商为我国企业走出去提供支持

D. 跨境电商能有效促进外贸方式的转型

34. 蓝藻本身没有多少危害，就怕蓝藻上浮形成水华。蓝藻形成水华时，一方面将严重抑制浮游植物利用光合作用产生氧气，另一方面也阻隔空气中的氧进入水体，导致水体中溶解氧严重不足，造成生态失衡。长期以来人们对水资源的不合理开发与利用，导致大量含有氮、磷营养元素的污染物质不断排入海洋、江河、湖泊和水库等水体，造成严重的水体富营养化状态，为蓝藻的爆发提供了得天独厚的条件。

这段话意在强调（ ）

A. 谨防蓝藻上浮形成水华阻隔氧气进入水体

B. 蓝藻爆发会影响生态平衡以及水资源开发

C. 治理水体污染是控制蓝藻爆发的根本措施

D. 适当引种蓝藻吸收氮、磷元素以优化水环境

35. 一些科学家认为，户外活动和近视关联证据并不充分，大部分流行病学研究都是根据问卷调查估算孩子们呆在室外的时间。来自加州大学伯克利分校的验光师克里斯汀·怀尔索耶表示，这种数据的可靠性有待商榷。在一项关于可穿戴光传感器的小规模实验中，她发现人们往往会错误估计自己呆在户外的时间。

下列说法符合文意的是（ ）

A. 流行病学研究中问卷调查方法往往是不科学的

B. 人们对自己户外活动时间的估算可能存在偏差

- C. 户外活动时间长短和是否近视之间不存在关联
- D. 可穿戴光传感器试验主要用于记录户外活动时间

二、文章阅读。阅读下面文章，回答问题。本题共有 5 道题，每道题提供四个选项，要求你从中选出最恰当的一项，你的选择必须与要求相符合。

为什么要保护自然？近年来，关于这个问题的争论实质上已经变成两种观点之间的辩论。一些人认为保护自然是为了自然本身，即自然的内在价值；另一些人则认为保护自然是为了人类自己的利益，即自然的使用价值。

自然使用价值的支持者们认为，为了本身的利益而保护自然并不能有效阻止物种灭绝的趋势，自然环境的保护应当通过和产业界合作产生最大化的影响，通过让人们更直接地关注和生活紧密相关的问题（如食品和饮用水安全），进一步扩大人们对环境保护的支持；而内在价值的倡导者们则坚持认为，关于保护自然的伦理道德论据已然充分，和产业界合作会将环境保护工作出卖给环境问题的始作俑者，况且社会已经非常关注环境保护了。

然而不幸的是，这一开始时尚且理性温和的辩论，逐渐沦为一场在大学、研究机构、环境保护组织、学术会议以至媒体中广泛进行的尖酸刻薄的个人论战。这种情况可能在扼杀有益的言论，影响环境保护的经费筹措并使实践层面的环保工作停滞不前。

另一个问题的存在有一点，那就是争论由少数人主导，且几乎都是男性。这说明了一个更大的问题：性别和文化的偏见，也在不断阻碍实际的环境保护工作开展。

环境保护时常会遇到现实世界中各种观点和价值观的挑战。为了处理和吸纳这些观点和价值观，在描绘这一领域的未来时，需要科学家和实践工作者更加包容的态度以及处理环境问题更加包容的方式。

在对环境保护科学家的科研训练中，应当更加精确地描绘这一领域悠久的、全球的、共同参与的历史进程，介绍数个世纪以来人类珍爱自然，保护自然的各种方法，还需要在会议和媒体上举办更多的论坛，让人们听到不同性别、不同文化背景的环境领域科学家和实践工作者的声音。同时，要动员环保科学家及实践工作者积极参与媒体的相关活动，使得媒体报道能够反应全面真实的观点，而非少数人的一家之言，环境保护组织和科学家们应当欢迎所有的环境保护执行机构，无论是公司，政府机关，还是宗教组织，有志之士，无论有功利目的的，还是纯公益的，和衷共济地将环境保护工作推向前进。不要让环境保护停留在学理辩论的层面，而是对工作的有效性进行严格的评价，从而建立起能容纳不同性别、不同文化、不同年龄、不同价值观的环境保护规范。

36. 填入文章中画横线处最恰当的一项是（ ）

- A. 迫在眉睫 B. 雪上加霜
- C. 不寒而栗 D. 不吐不快

37. 下列选项中，不属于两派争论的问题是（ ）

- A. 是否可以筹措经费而与产业界合作
- B. 是否应当进一步强化环保的社会关注
- C. 是否需要进一步加大吸引民众的力度
- D. 是否为改变性别失衡而鼓励女性参与

38. 文中所说“将环境保护工作出卖给环境问题的始作俑者”，“始作俑者”指的是（ ）

- A. 制造了环境问题的企业
- B. 各类自然环境的破坏者
- C. 自然使用价值的支持者
- D. 自然内在价值的倡导者

39. 文中作者担心的最主要问题是（ ）

- A. 倡导者们在保护环境的目的问题上存在分歧
- B. 观点不同者之间的争论逐渐演变为相互攻击
- C. 不正确的沟通方式影响实际的环境保护工作
- D. 恶性争论可能会导致有创建性的观点被遮蔽

40. 下列选项中，属于作者为改变自然保护现状提出的对策是（ ）

- A. 对公众进行科普宣传，让其了解环境保护的历史和各种工作方法
- B. 通过会议和媒体举办论坛，倾听来自不同性别、不同文化的公众声音
- C. 环境保护组织和科学家们应接纳所有环境保护执行机构共同参与
- D. 鼓励专业人士进一步展开论争，以提升环境保护认识的理论高度

三、选词填空。从题后所给的四个选项中选出最符合文意的一项。

41. 盯着名利干事，难免_____，欲速则不达；盯着责任干事，“不闻掌声”而_____，才能最终赢得掌声。

依次填入画横线处最恰当的一项是（ ）

- A. 斤斤计较 心无二用
- B. 急公好义 心怀大局
- C. 患得患失 心胸开阔
- D. 急功近利 心无旁骛

42. 当你打开书想在书中找到平静的时候，最初的几页是很难读进去的，最初的几页读完后，你就会觉得好书真像是一堵墙，把街面上的_____还有喧嚣的声音阻拦在了外边。你似乎可以在里闻到花香，听到鸟鸣，大自然仿佛又回到了你的身边。

依次填入画横线处最恰当的一项是（ ）

- A. 车水马龙 白纸黑字
- B. 纸醉金迷 字里行间
- C. 灯红酒绿 语言文字
- D. 红男绿女 字字句句

43. 今天,专业的_____让我们谁都无法补齐所有的_____,互联网使得合作的成本越来越低。与其花精力治愈自己的_____,不如花时间和精力把自己的优势发挥出来。

依次填入画横线处最恰当的一项是（ ）

- A. 划分 短处 痼疾
- B. 细分 短板 顽疾
- C. 细化 缺陷 弊病
- D. 分工 缺点 陈疾

44. 苏轼也擅长书法,他_____颜真卿,但能_____,与蔡襄、黄庭坚、米芾并称宋代四大家。

依次填入画横线处最恰当的一项是（ ）

- A. 效法 别开生面
- B. 模仿 独树一帜
- C. 取法 不落窠臼
- D. 仿照 匠心独运

45. 法律的道德化和道德的法律化是永不停歇的过程,法律规范与道德规范之间也并非_____,而是互动互补,_____。

依次填入画横线处最恰当的一项是（ ）

- A. 壁垒森严 浑然天成
- B. 格格不入 相辅相成
- C. 非此即彼 水乳交融
- D. 泾渭分明 浑然一体

46. 在全面深化改革的进程中,谋事不实,蓝图再好也不过是_____;创业不实,梦想再美也只是黄粱一梦;做人不实,立身之本必定_____。

依次填入画横线处最恰当的一项是（ ）

- A. 缘木求鱼 空中阁楼
- B. 画饼充饥 荡然无存
- C. 纸上谈兵 一无是处

D. 闭门造车 子虚乌有

47. 传统出版社的竞争优势在于，历史和传统使其在内容创新和版权拥有方面有着深厚的_____，这是一个不断累积叠加的过程，不可能_____。

依次填入画横线处最恰当的一项是（ ）

A. 资本 一步登天

B. 实力 一挥而成

C. 资源 一日千里

D. 积淀 一蹴而成

48. 洁净是茶室的必要条件，比方说茶室里最幽暗的角落，纵使客人根本_____，主人也必须拭抹得_____。可是仲夏之际，从一株百合花上无意滴落在地板上的水珠，却应任其留存，它暗示着水一般的纯净与清爽。

依次填入画横线处最恰当的一项是（ ）

A. 无暇顾及 一尘不染

B. 不以为然 一干二净

C. 视而不见 洁白无瑕

D. 熟视无睹 纤尘不染

49. 生命在进化过程中要经历自然选择，也就是达尔文提出的“适者生存”。病毒感染对于生命来说就是一种选择压力，在病毒面前_____的个体会被淘汰掉，病毒因而成了生物进化的强大驱动力，它们_____和保留下免疫力强大的个体，由此推动生命的_____。

依次填入画横线处最恰当的一项是（ ）

A. 娇生惯养 挑选 进化

B. 弱不禁风 筛选 演化

C. 节节败退 精选 进展

D. 不堪一击 甄选 延续

50. 在战争年代，军人的职责在于保家卫国，不惧_____，永远冲在第一线。在和平年代，军人的血性和担当就体现在这些见义勇为的_____之中，平凡之中彰显伟大，这种为了人民生死不顾的正义感更能显出军人的_____和温柔情怀。

依次填入画横线处最恰当的一项是（ ）

A. 舍生忘死 英雄气概 大义凛然

B. 马革裹尸 点点滴滴 大智大勇

C. 粉身碎骨 一言一行 男儿本色

D. 艰难险阻 一举一动 英勇无敌

51. 每个时代都有自己的流行语，网络热词则是互联网时代最普遍的副产品。与以往不同，网络热词的更替速度令人_____，“来得快，去得更快”成为网络热词的集体_____。

依次填入画横线处最恰当的一项是（ ）

A. 目不暇接 宿愿

B. 不堪重负 命运

C. 顾此失彼 结局

D. 眼花缭乱 宿命

52. 在创业大潮席卷下，创业领域呈现出一派_____的景象，创投机构扎堆，创业项目井喷，创业者更是受到社会热烈关注，其中不少人成了_____的创业明星。在资金和各路人马_____的同时，也出现了一些浮夸和造假的现象。

依次填入画横线处最恰当的一项是（ ）

A. 生机勃勃 炙手可热 抢滩

B. 热火朝天 万众瞩目 搏杀

C. 欣欣向荣 你争我抢 杀入

D. 万马奔腾 家喻户晓 争抢

53. 社会的和谐，是以人与人之间的爱即仁爱为_____基础的，也是以执政者怀抱民本思想，执政为民、惠及民生为基础的。可以说，正是传统仁爱思想和民本思想的有力_____，才确保了中华民族 5000 年历史的_____。

依次填入画横线处最恰当的一项是（ ）

A. 思想 维护 革故鼎新

B. 情感 维系 绵延不绝

C. 精神 维持 历久弥新

D. 理论 维稳 山高水长

54. 大数据以量取胜，孤立的单个数据几乎没有商品价值，故而多数被记录主体容易_____自己的数据产权。但是一个个数据_____，便是宝藏。而大型数据集的处理使用，须借助复杂的分析算式与大功率计算机，普通人和小公司_____。

依次填入画横线处最恰当的一项是（ ）

A. 忽视 集腋成裘 难以问津

B. 忽略 积少成多 难以为继

C. 遗忘 日积月累 望而却步

D. 遗弃 接踵而至 望洋兴叹

55. 要解决我国食品安全有效供给不足的问题, 单纯依赖孤立的政府监管机制是不可行的。必须充分发挥而不是_____市场治理的作用, 挖掘政府监管与市场治理内在关联的_____, 激发政府监管与市场的协同优势, 食品安全的政府监管才能_____。

依次填入画横线处最恰当的一项是 ()

- A. 压制 互动性 准确到位
- B. 抑制 互助性 有理有据
- C. 替代 互补性 事半功倍
- D. 取代 互通性 水到渠成

第三部分 数量关系

(共 15 题, 参考时限 15 分钟)

一、数字推理。给出一个数列, 缺少其中一项, 要求你仔细观察数列的排列规律, 从四个选项中, 选择最合适的一项, 使之符合原数列的排列规律。

56. $\frac{1}{3}, \frac{1}{3}, 1, 5, 35, ()$

- A. 315 B. 215 C. 115 D. 96

57. $\frac{1}{5}, \frac{3}{7}, \frac{7}{11}, \frac{13}{19}, \frac{3}{5}, ()$

- A. $\frac{11}{47}$ B. $\frac{21}{37}$ C. $\frac{31}{67}$ D. $\frac{31}{47}$

58. 4.2, 5.2, 8.4, 17.8, 44.22, ()

- A. 125.62 B. 85.26 C. 99.44 D. 125.64

59. 2, 3, 4, $3\sqrt{3}, \sqrt{46}, ()$

- A. 81 B. $2\sqrt{5}$ C. $3\sqrt{5}$ D. 9

60. 2, 7, 14, 25, 38, ()

- A. 54 B. 55 C. 57 D. 58

二、数学运算。通过运算, 选择最合适的一项。

61. 已知 A、B 两地相距 600 千米。甲、乙两车同时从 A、B 两地相向而行, 3 小时相遇。若甲的速度是乙的 1.5 倍, 则甲的速度是 ()

- A. 80 千米/小时 B. 90 千米/小时 C. 100 千米/小时 D. 120 千米/小时

62. 某班有 38 名学生，一次数学测验共有两道题，答对第一题的有 26 人，答对第二题的有 24 人，两题都答对的有 17 人，则两题都答错的人数是（ ）

A. 3 B. 5 C. 6 D. 7

63. 甲、乙、丙三人共同完成一项工程，他们的工作效率之比是 5:4:6。先由甲、乙两人合做 6 天，再由乙单独做 9 天，完成全部工程的 60%。若剩下的工程由丙单独完成，则丙所需要的天数是（ ）

A. 9 B. 11 C. 10 D. 15

64. 有 A、B、C 三支试管，分别装有 10 克、20 克、30 克的水。现将某种盐溶液 10 克倒入 A 管均匀混合，并取出 10 克溶液倒入 B 管均匀混合，再从 B 管中取出 10 克溶液倒入 C 管。若这时 C 管中溶液浓度为 2.5%，则原盐溶液的浓度是（ ）

A. 60% B. 55% C. 50% D. 45%

65. 某志愿服务小组购买一批牛奶到一敬老院慰问老人。如果送给每位老人 4 盒牛奶，那么还剩 28 盒；如果送给每位老人 5 盒，那么最后一位老人又不足 4 盒，则该敬老院的老人人数至少是（ ）

A. 27 B. 29 C. 30 D. 33

66. 小王以每股 10 元的相同价格买入 A 和 B 两只股票共 1000 股。此后 A 股先跌 5% 再涨 5%，B 股票先涨 5% 再跌 5%。若在此期间小王没有再买卖过这两只股票，则现在这 1000 股股票的市值是（ ）

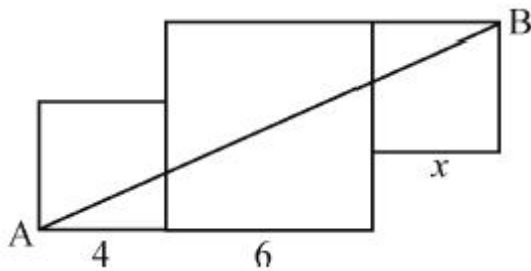
A. 10250 元 B. 9975 元 C. 10000 元 D. 9750 元

67. 小明、小红、小桃三人定期到某棋馆学围棋，小明每隔 3 天去一次，小红每隔 4 天去一次，小桃每隔 5 天去一次。若 2016 年 2 月 10 日三人恰好在棋馆相遇，则下次三人在棋馆相遇的日期是（ ）

A. 2016 年 4 月 8 日 B. 2016 年 4 月 11 日

C. 2016 年 4 月 9 日 D. 2016 年 4 月 10 日

68. 下图是由三个边长分别为 4、6、x 的正方形所组成的图形，直线 AB 将它分成面积相等的两部分，则 x 的值是（ ）

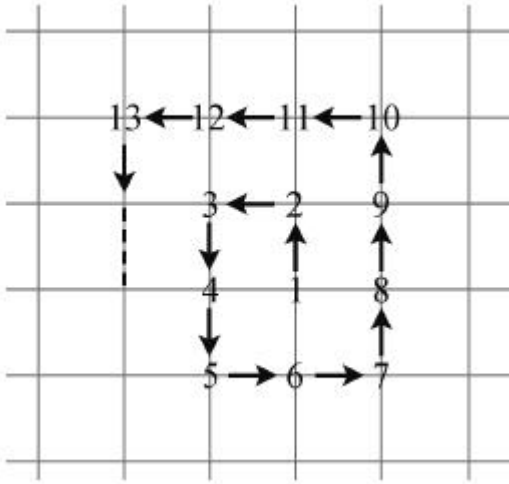


A. 3 或 5 B. 2 或 4 C. 1 或 3 D. 1 或 6

69. 一辆公交车从甲地开往乙地需经过三个红绿灯路口，在这三个路口遇到红灯的概率分别是 0.4、0.5、0.6，则该车从甲地开往乙地遇到红灯的概率是（ ）

A. 0.12 B. 0.50 C. 0.88 D. 0.89

70. 从1开始的自然数在正方形网格内按如图所示规律排列，第1个转弯数是2，第2个转弯数是3，第3个转弯数是5，第4个转弯数是7，第5个转弯数是10，……则第22个转弯数是（ ）



A. 123 B. 131 C. 132 D. 133

第四部分 判断推理

（共45题，参考时限40分钟）

一、类比推理。本部分共10题，包括三种类型的题目。

（一）先给出一组有某种关系的词或词组，请你从四个选项中选出正确的一项，使其关系与题干给出的词或词组的关系最为相似。

71. 上山：山上

A. 上海：海上

B. 回收：收回

C. 工人：人工

D. 下台：台下

72. 舞蹈：天鹅

A. 歌唱：黄莺

B. 春燕：呢喃

C. 读书：学生

D. 采莲：江南

73. 静如处子：动如脱兔

A. 顺手牵羊：守株待兔

B. 胆小如鼠：胆大包天

C. 杀鸡儆猴：惩前毖后

D. 呆若木鸡：愚不可及

74. 冠军：亚军

A. 热带：亚热带

B. 芝麻：亚麻

C. 奥运会：亚运会

D. 亚健康：健康

75. 茶杯：杯盖：杯底

A. 树林：树梢：树根

B. 文章：文件：标题

C. 苹果：果核：果皮

D. 茶叶：春茶：秋茶

76. 火车：轨道：行驶

A. 电脑：键盘：上网

B. 相机：镜头：拍照

C. 飞机：机场：飞行

D. 油轮：江海：航行

(二) 请从四个选项中选出正确的一项，使得该项的两个词或词组依次代入题干的括号中，能够最大限度地满足题干所表达的类比关系。

77. 驾驶 之于 () 相当于 讲课 之于 ()

A. 司机教师

B. 网络教室

C. 汽车学生

D. 麦克风 导航仪

78. 时间 之于 () 相当于 () 之于 密度

A. 数量 质量

B. 流水 磐石

C. 速度 体积

D. 日晷 天平

(三) 请从四个选项中选出正确的一项，使其特征或规律与题干给出的一串符号的特征或规律最为相似。

79. #&#□¥¥□&&

- A. &#&#¥¥□□
- B. □¥□&##& ¥¥
- C. ¥#¥#□□&#&
- D. &#&□¥#¥□□


悠悠嘻嘎嘻吱吱嘻

- A. 嘻嘻悠吱悠嘻吱嘎
- B. 悠悠嘻悠嘻嘎嘎吱
- C. 嘻嘻吱悠吱嘎嘎吱
- D. 吱吱悠嘻悠嘻嘻嘎

二、图形推理。本部分共 10 题，包括三种类型的题目。

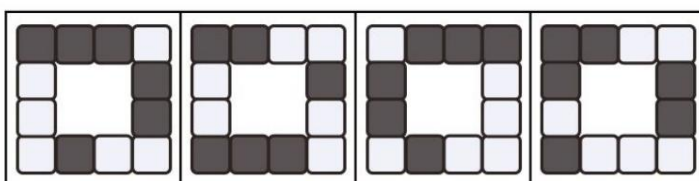
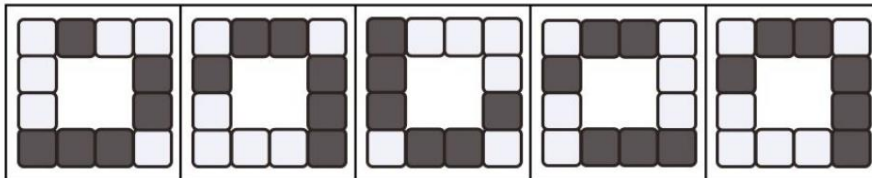
(一) 每道题在左边的题干中给出一套图形，其中包括五个图，这五个图呈现一定的规律性。在右边给出一套图形，其中有四个图，从中选出唯一的一项作为保持左边五个图规律性的第六个图。

81.



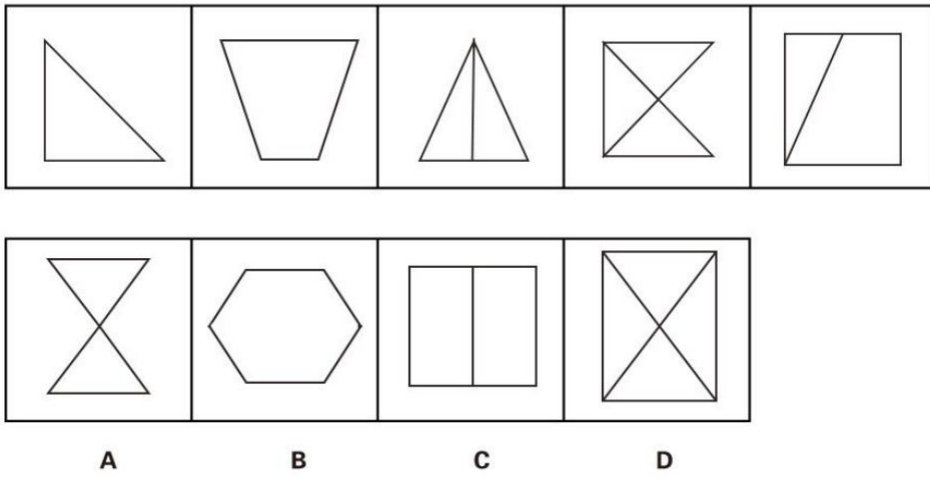
A B C D

82.

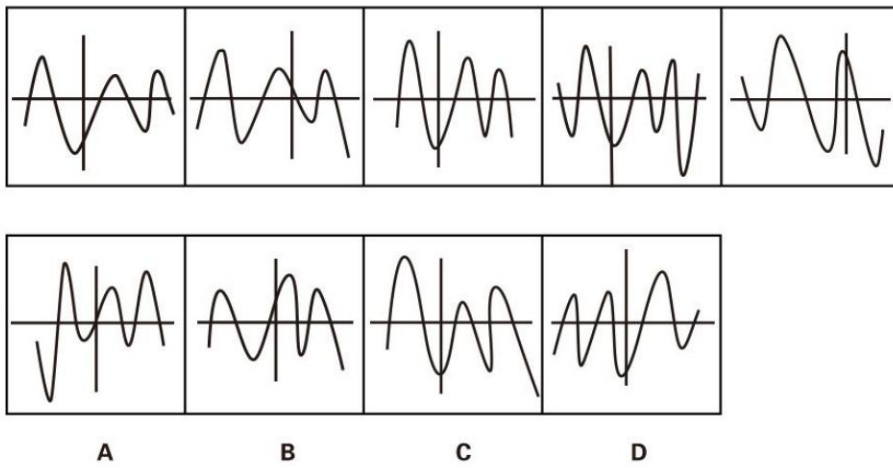


A B C D

83.

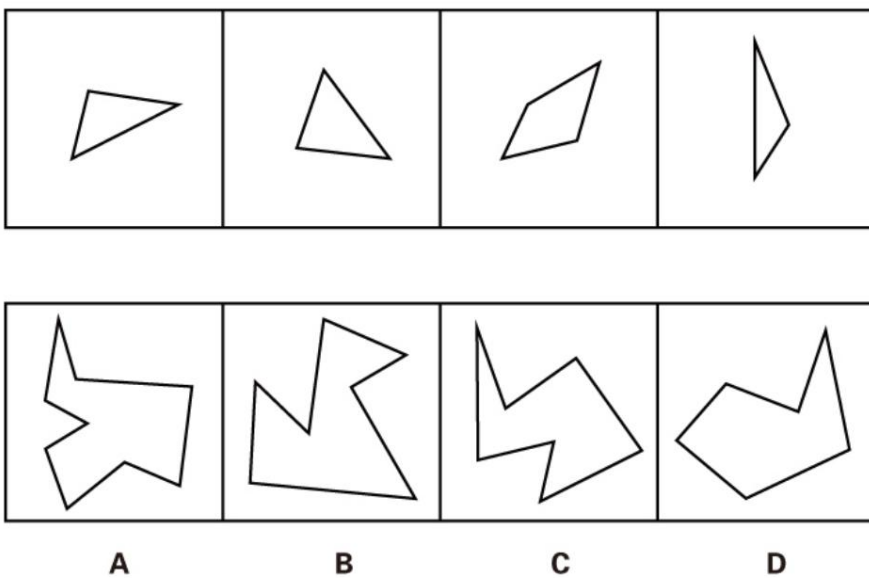


84.

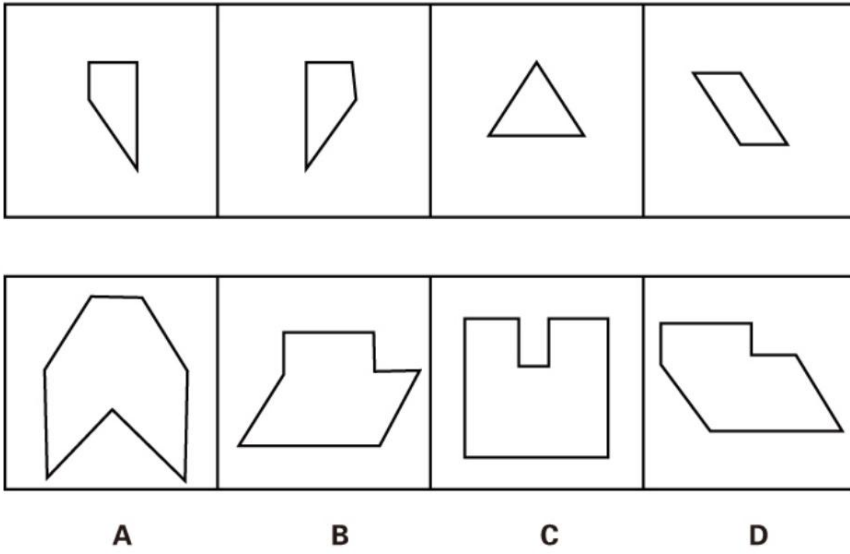


(二) 右边四个图形中，只有一个是 由左边的四个图形拼合（只能通过上、下、左、右平移）而成的，请把它找出来。

85.

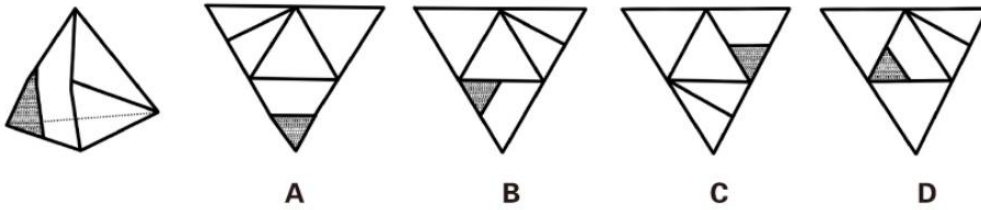


86.

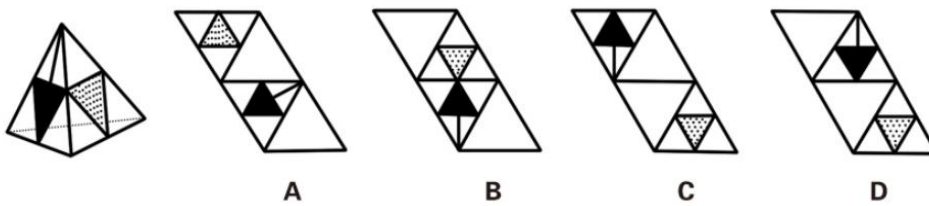


(三) 所给图形可以由下列哪项外表面展开图折叠而成? 请把它找出来。

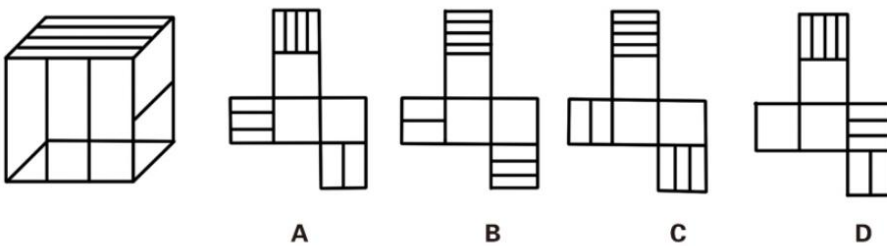
87.



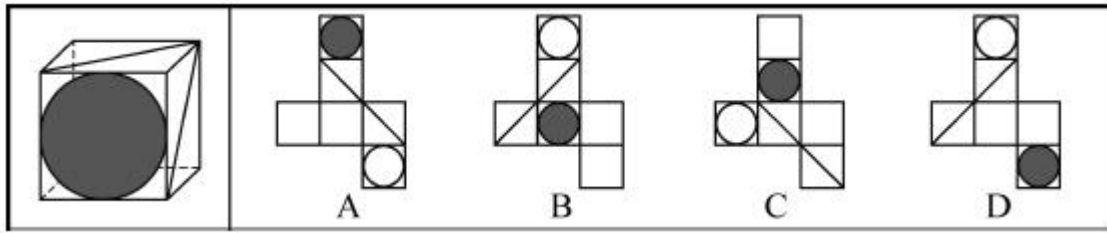
88.



89.



90.



三、逻辑判断。每道题给出一段陈述，这段陈述假设是正确的、不容置疑的。请你根据这段陈述，选择一个答案。注意：正确的答案不需要任何附加说明即可以根据陈述必然推出。

91. 与传统的“汗水型”经济不同，创新是一种主要依靠人类智慧的创造性劳动。由于投入多、风险大、周期长、见效慢，创新并非是每个人自觉的行动，它需要强大的动力支持。如果有人可以通过资源炒作暴富，或者可以借权钱交易腐败发财，那么人们创新就不会有真正的动力。

根据以上概述，可以得出以下哪项（ ）

- A. 如果有人可以通过土地资源炒作暴富，就有人可以凭借权钱交易腐败发财
- B. 如果没有人可以通过权钱交易腐败发财，人们创新就会有真正的动力
- C. 如果人们创新没有真正的动力，那么就有人可以通过土地资源炒作暴富
- D. 如果人们创新具有真正的动力，那么没有人可以凭借权钱交易腐败发财

92. 某学院共有 42 名员工，他们或者做教学科研工作，或者做行政工作。在该学院中，教授都不担任行政工作，而 30 岁以下的年轻博士都在做行政工作，学院中有不少人是从海外招聘来的，他们都具有博士学位。李明是该学院最年轻的教授，他只有 29 岁。

根据以上陈述，可以得出以下哪项（ ）

- A. 该学院从海外招聘来的博士大多是教授
- B. 该学院从海外招聘来的博士都不做行政工作
- C. 该学院教授大多是 30 岁以上的海外博士
- D. 该学院有的教授不是从海外招聘来的

93. 经理：小张，这星期你怎么上班总是迟到？

小张：经理，不要只盯着我哟！小李有时比我到的还要晚！

以下哪项的对话方式与上述最为不同（ ）

- A. 丈夫：老婆，你有没有觉得最近你特别爱发火？妻子：你什么意思！你有没有觉得最近你特别爱唠叨？
- B. 乘客：师傅，开车时你怎么还打手机啊？司机：你乱嚷什么！把我惹火了，一车人的安全你负责？
- C. 老师：小明，你最近上课怎么老不注意听课？学生：老师，我注意听讲但是听不懂！听不懂我怎么听？

D. 顾客：老板，你们卖的馄饨里怎么有股怪味呢？老板：你是何居心！你是哪家馄饨店派来的捣蛋鬼？

94. 据报道，与国外相比，中国河流的抗生素浓度较高，测量浓度最高达 7560 纳克/升，平均也有 303 纳克/升，而意大利为 9 纳克/升，美国为 120 纳克/升，德国为 20 纳克/升。对此，有专家认为不足为虑。因为绝大多数抗生素对于致病细菌的最小抑制浓度都在 10000 纳克/升以上，目前中国江河和土壤中检测的抗生素浓度都小于各种抗生素对病菌的最小抑制浓度。

以下哪项是上述专家所作论断的假设（ ）

- A. 抗生素浓度如果低于其对病菌的最小抑制浓度，病菌就不会产生抗药性
- B. 很多病人就诊后，必须要使用更多的新一代抗生素才能控制感染和病情
- C. 细菌如果具有抗药性，因细菌感染而导致的疾病就很难用抗生素治愈
- D. 通过环境摄入的残留抗生素浓度高一些可能反而有利于维护人体健康

95. 甲、乙、丙、丁、戊 5 支球队进行小组单循环赛。比赛规定，每队胜一场得 3 分，平一场得 1 分，负一场得 0 分；积分前两名出线。比赛结束后发现，没有积分相同的球队，乙队胜了 3 场，另一场负于甲队。

根据以上信息，可得出以下哪项（ ）

- A. 甲队一定出线 B. 乙队一定出线
- C. 丙队一定出线 D. 戊队一定出线

96. 俄国作家肖洛霍夫讲过一个故事：一个兔子没命地狂奔，路上遇到了狼。狼说：“你跑那么急干嘛？”兔子说：“他们要逮住我，给我钉掌。”狼说：“他们要逮住钉掌的是骆驼，而不是你。”兔子说：“他们要是逮住我钉了掌，你看我还怎么证明自己不是骆驼。”

在这个故事中，兔子最担心的是（ ）

- A. 只要是骆驼，都要被钉掌
- B. 即使不是骆驼，也可能会钉掌
- C. 如果被钉了掌，就一定是骆驼
- D. 如果没有被钉掌，就不会是骆驼

97. 荷兰画家梵·高在一家精神病院里创作了著名的绘画作品《星空》。这幅画作中的“漩涡”引起了人们长期的争论，许多心理学家认为，“漩涡”是梵·高当时脆弱心理状态的延伸和表现。欧洲航天局近日发布了一幅根据“普朗克”卫星探测绘制的星空图，神奇的是，这幅图与《星空》有惊人的相似之处。有艺术家认为，自然的星空正是梵·高创作的灵感来源。

以下各项如果为真，则除了哪项均能支持上述艺术家的观点（ ）

- A. 梵·高的创作灵感一般均有明显的现实来源

- B. 《星空》的创作年代要远早于卫星绘制星空图的年代
- C. 梵·高具有超越常人的视觉观察能力与想象能力
- D. 卫星绘制的星空图和《星空》的画面大体是一致的

98. 某小区里的居民具有乐于助人的良好风尚。在该小区里，凡帮助过老刘的人，老张都帮助过；一个人，只要有一人没帮助过他，老周就帮助过他。老王新搬来不久，还没有帮助过其他人。

根据以上陈述，可以得出以下哪项（ ）

- A. 老周没有帮助过老张
- B. 老周没有帮助过老王
- C. 老刘与老张互相帮助过
- D. 老张和老周互相帮助过

99~100 题基于以下题干：

某单位工会成立职工工业余兴趣活动小组，分台球、乒乓球、羽毛球、登山四个小组。已知该单位的甲、乙、丙、丁、戊、己、庚 7 人每人各参加其中的两个小组，每个小组最少有其中的两人参加，最多有其中的 5 人参加。另外，还知道：

- (1) 丁与戊的参加情况完全相同
- (2) 己与庚的参加情况完全相同
- (3) 如果甲参加台球组，则丁也会参加台球组
- (4) 只有乙和丙参加乒乓球组

99. 如果登山组只有己和庚参加，则可以得出以下哪项（ ）

- A. 甲参加台球组、羽毛球组
- B. 乙参加台球组、羽毛球组
- C. 己参加台球组、登山组
- D. 庚参加羽毛球组、登山组

100. 如果乙与丁都没有参加台球组，则可以得出以下哪项（ ）

- A. 如果己参加台球组，则丙参加登山组
- B. 如果庚参加台球组，则戊参加台球组
- C. 如果甲参加羽毛球组，则庚参加登山组
- D. 如果乙参加羽毛球组，则己参加登山组

四、定义判断。每道题先给出定义，然后列出四种情况，要求你严格依据定义，从中选出一个最符合或最不符合该定义的答案。注意：假设这个定义是正确的，不容置疑的。

101. 逆势扩张：指企业在面临巨大压力和困难的情况下，进一步巩固和拓展市场，在竞争中抢占

先机的经营行为。

下列不属于逆势扩张的是（ ）

- A. 当大多数的国产品牌彩电市场份额纷纷下滑的时候，某电视厂家却连续推出了几款超级电视，市场占比高歌猛进，遥遥领先几大洋品牌
- B. 某汽车油箱销售公司是我国规模较大的自主品牌出口企业，近期已正式进入预先披露更新企业名单之列，向上市的目标又进了一步
- C. 在人们普遍认为房地产调控政策将严重影响家居行业之际，某品牌家具高调宣布，最近在省城及周边地区又成功开设了多家专营店
- D. 国内零售行业近期表现欠佳，各销售企业纷纷收缩实体阵地，某民营企业今日却在省城新增了一家购物中心，另外两家不久也将开业

102. 公共信息资源：指社会特定管理机构依法管理，面向全体社会公众提供信息服务的各种数据系统，具有公共性、广泛性、基础性和公益性等特点。

下列属于公共信息资源的是（ ）

- A. 公安部门为了核查居民身份或侦破案件所建立的公安部信息共享系统
- B. 银行为了审核贷款申请、开展各种金融业务而开发的客户个人信息系统
- C. 国家气象部门建立的气象信息发布系统，如天气预报、地质灾害预警
- D. 高校教务部门为提高教学管理效率而开发的学生选课、评课、成绩管理系统

103. 功利化阅读：指在有限的读书时间里，出于特殊目的，只选择阅读那些对提高自己的学习成绩、工作能力或求职更有帮助的书刊资料。

下列不属于功利化阅读的是（ ）

- A. 小李平时忙着上课和做家教，资格考试前三天，才一门心思复习考试课程
- B. 老李是业务骨干，一有时间就去资料室翻阅与自己的工种相关的刊物
- C. 为了取得面试好成绩，小江特地去书店买了几本关于面试技巧方面的书
- D. 小林虽然工作繁忙，却一直迷恋科幻小说，只要有点空闲就会找一本来看

104. 定制旅游：指由游客和旅游服务商共同商定旅游方案，以充分满足旅游个性化要求的旅游方式。

下列不属于定制旅游的是（ ）

- A. 某旅行社最近推出了欧洲十日游、沿海五市一周游等产品，提前订好酒店、机票、景点门票等，游客觉得价格合适就可以购买成行
- B. 某在线旅游网站根据游客的个性预算、旅游目标等制订行程计划，与客户反复沟通，最终形成了客户满意的方案，并安排专人随行监管

C. 某旅行社组织了一个美食旅游项目，应游客要求精心挑选几家有特色的美食店，预定好当地的个性民居，全程陪游，游客归来后都感到十分满意

D. 小李同几个酷爱摄影的朋友策划了一个拍摄沙漠风光的活动计划，经过与旅行社多次讨价还价，终于成行，参与者度过了一个很有意思的假期

105. 优势反应：指熟练程度极高、遇到某种刺激时不加思考就做出来的习惯性动作。

下列不属于优势反应的是（ ）

A. 中国人遇到多年未见的朋友时，一般都伸出右手去和对方握手

B. 在街上听到有人喊自己名字，人们总会循着声音方向去寻找

C. 人们无意之中把手伸进滚烫的开水，瞬间就会把手缩回

D. 小丽在家看小说时，一碰到不认识的字就会下意识地去看字典

106. 以房养老：指老人将自己的产权房抵押给金融机构，按约定条件定期领取养老金并获得相应服务的养老方式。老人去世后，金融机构可以按约定处置房产，偿付已经支出的各项费用。

下列属于以房养老的是（ ）

A. 最近，老李夫妇把卖房子的钱存进银行，一起住进了附近的老年公寓，每月的存款利息足够支付那里的各种费用

B. 年逾古稀的张先生夫妇与银行签订了协议，生前，他们每月从银行领取 13000 元养老金；死后，他们的产权房由银行处置

C. 赵某在一次车祸中落下重度残疾，他与典当行的远房侄子签了一份协议，由侄子照顾他的日常起居，自己名下的房子将来过户给侄子

D. 老孙退休后卖掉市中心的大房子，买了一套二手小房住，每月的退休金加上卖房款利息，夫妻俩的日子过得很是自在惬意

107. 自然淘汰育种法：指在良种筛选过程中，减少人为干预，尽量通过被筛选对象的自然生长确定所需良种的育种方法。

下列属于自然淘汰育种法的是（ ）

A. 甲鱼养殖场为了选育出抗病性强的种鱼，在甲鱼接连死亡的情况下，没有使用任何药物，存活到最后的则作为种鱼

B. 锦鲤养殖户从幼鱼开始分拣最有经济价值的鱼苗，经过三次人工选鱼后，最终只有大约 10% 的幼鱼成了鱼苗

C. 石斛养殖户爬上人迹罕至的悬崖峭壁采集野生石斛，挑选其中的一部分作为种苗，精心培育出了多个新品种

D. 生长在山坡上的某种植物，有的长势非常茂盛，有的则弱小枯黄，泾渭分明，这正是“物竞天

择”的形象说明

108. 隐性就业：指没有通过传统就业渠道获取固定职业，处于相关部门就业统计范围之外的工作状态。

下列不属于隐性就业的是（ ）

- A. 颜某辞去工作后，一边带孩子一边经营一家奶粉网店
- B. 某教授受多家培训学校之邀，在工作之余常去授课
- C. 小陈离开公司后专门为电商店铺提供平台搭建和维护服务
- D. 酷爱写作的小王，大学毕业后成了一家报社的自由撰稿人

109. 众筹行为：指通过互联网发布筹款项目、实施方案、投资回报的资金募集方式，其构成要素包括有创造能力但缺乏资金的发起人，对筹资者的故事或回报感兴趣的支持者，在两者之间发挥连接作用的互联网平台等。

下列属于众筹行为的是（ ）

- A. 地震发生后，市红十字会利用官网、微博、微信等多种网络平台及时发布灾情信息，呼吁市民捐款捐物，帮助灾民重建家园，很快筹集了大量善款和赈灾物资
- B. 小涛大学毕业后回乡，创业资金不足，他在网上发布了自己的创意，争取各界人士的资金援助，在网友们帮助下迅速度过了难关
- C. 某中学的一名学生患了白血病，学校在网上发布了募捐活动，两天之内就募捐了几万元，帖子转载后各地捐来的善款越来越多
- D. 某青年艺术家为了举办个人画展，利用网络筹集了一大笔启动资金，画展圆满结束后，一一兑现了让出资人享受展品收藏待遇的承诺

110. 路怒症：指机动车驾驶者在行车过程中因焦躁、愤怒情绪而产生的攻击性行为。

下列不属于路怒症的是（ ）

- A. 在路口等红灯时，小张感觉汽车被碰了一下，下车一看，果然是后车刹车不及时追尾了，小张猛踢后车车轮，大声责怪其司机并且索要赔偿
- B. 妻子开车送老陈去上班，一辆小汽车突然窜到了面前，险些撞到他的车，老陈下车拦住那辆车，把司机痛斥一顿
- C. 小李开了8年车，技术高超，每次被人超车，都忍不住狂踩油门飚上一把，直到反超并羞辱对方一番才罢休
- D. 小王正在赶路，旁边车子中突然飞出一个纸团落在他的挡风玻璃上，小王十分生气，他猛按喇叭，嘴里骂个不停

111. 跳板策略，指在特定条件下，为了避免因统一指挥造成的信息传递延误而跨越权力边界，直

接进行横向沟通。

下列属于跳板策略的是（ ）

- A. 小杰被毒蛇咬后，生命垂危，县医院立即向国家卫生部紧急求救，在卫生部直接干预下，仅两个小时就拿到了所需的特效药，小杰很快转危为安
- B. 一次学术会议上，某大学校长遇到了兄弟院校从未谋面的老同行，两人就一些学术热点问题进行了深入探讨，并商定联手申报国家级重大科研项目
- C. 一次追逃行动中，通讯系统突发故障，为防嫌疑人再次逃脱，第一小组的高组长未向指挥中心汇报就直接请求第二小组的邓组长火速救援，迅速抓获了犯罪嫌疑人
- D. 由于路程较远，120 救护车不能马上赶到车祸现场，巡警得知这一情况后主动用自己的摩托警车把伤员送进了附近的一家医院

112. 配套效应，指拥有某件物品后，为了追求完美效果而不断配置其他相应物品。

下列不属于配套效应的是（ ）

- A. 邻居送给小李一只宠物狗，半月后，小李家阳台上狗笼子、狗饭碗、狗澡盆、狗毛衣等一应俱全，几乎变成了宠物用品展示中心
- B. 小孙穿着朋友赠送的一件质地精良做工考究的睡袍在书房走动，总觉得身边的一切都不协调，他很快换掉了书房中的地毯、桌椅、书柜
- C. 张女士在商场亲子装专柜为儿子买了一件 T 恤，儿子和丈夫都非常满意，于是又返回商场为丈夫和自己各买了一件
- D. 赵总在古玩店淘到一件康熙宫廷玉器，特意为它配置了一个红木底座，还请诗友为它专门写了一首咏玉诗，放在大厅最醒目的地方

113. 平行竞争，指各家厂商提供不同种类的产品以满足顾客同一需求而形成的竞争。

下列属于平行竞争的是（ ）

- A. 冬天还没到，电器商场就摆满了各种取暖用品，空调、油灯、热电扇、电热毯应有尽有，价格有高有低，款式或经典或新潮
- B. 为了扩大市场份额，某公司新近推出了一款平板电脑，硬盘容量有 64G、128G 和 256G 三种规格，供不同层次的消费者选择
- C. 只要走进地下商城，马上就会有一群人把你团团围住，卖服装的、卖玩具的、卖食品的……迫不及待地要把你控制在自己的摊位上
- D. 小李拿到了 1 万多元年年终奖，准备好好奖励自己，现在正纠结于出国放假、买笔记本电脑还是黄金首饰

114. 反向激励，指领导者对于工作表现欠佳的下属不仅不批评，反而适度肯定，以期取得与正向

激励效果相当的评价策略。

下列属于反向激励的是（ ）

- A. 小刘提前完成了经理布置的演讲稿，经理要他拿回去认真推敲，第二天小刘的修改稿得到了经理的高度肯定
- B. 小王因工作失误被顾客投诉，同事老王安慰她，并指导小王如何避免失误，小王经过一段时间的努力，业务能力越来越强，顾客十分满意
- C. 小李接受撰写市场调研报告的任务后，未能按时完成。经理称赞他调研认真，特意延期两天，小李的调研报告最终写得很出色
- D. 在工会羽毛球循环赛中，夺冠热门小王首轮意外失手，单位领导没有批评他，反而鼓励他调整好心态，小王最终获得了冠军

115. 代际歧视，指上代人从自己的视角对新生代整体形象作出的描述性或定位性负面评价，这种评价往往不够客观、准确。

下列属于代际歧视的是（ ）

- A. 年近花甲的钱总在职工大会上批评少数年轻的技术人员缺乏创新意识，不思进取，要求他们尽快改变目前的精神状态
- B. 80后曾被父辈斥为“叛逆的一代”，被指责为自我、叛逆和缺乏责任感，然而最近某七十高龄的作家却称80后是“懦弱的一代”，缺乏反叛精神
- C. 孙大妈学会了使用微信，经常关注女儿的朋友圈，由于女儿经常分享一些充满正能量的短文，饭桌上她戏称女儿是“鸡汤党”
- D. 某啃老男整天游手好闲、惹是生非，父母恨铁不成钢欲将其赶出家门，他却指责父母这一代人自私自利，不顾子女

第五部分 资料分析

（共20题，参考时限20分钟）

下列给出的文字、表格、图形资料均有五个问题要你回答，你应根据资料提供的信息进行分析、计算、处理，然后从备选答案中选择一个最恰当的答案。

一、根据以下资料，回答116~120题。

2015年1~7月，我国机电产品出口额44359.4亿元，同比增长1.2%，占出口总额的57.2%。其中，电器及电子产品出口19373.1亿元，同比增长4.1%；机械设备出口12865.6亿元，同比下降6.6%。同期，服装出口5709.9亿元，同比下降6.4%；纺织品出口3825.5亿元，同比下降1.7%；鞋类出口1901.7亿元，同比下降1.9%；家具出口1883.7亿元，同比增长7.6%；塑料制品出口553.7万吨，出口额1293.3亿元，出口量同比增长2.9%，出口额同比增长2.3%；箱包及类似容器出口

166.9 万吨，出口额 998.9 亿元，出口量同比下降 3.8%，出口额同比增长 8.0%；玩具出口 465.0 亿元，同比增长 11.0%。上述 7 大类劳动密集型出口额合计同比下降 1.3%。此外，肥料出口 1957.3 万吨，出口额 366.1 亿元，出口量同比增长 54.7%，出口额同比增长 62.7%；钢材出口 6213.2 万吨，出口额 2319.5 亿元，出口量同比增长 26.6%，出口额同比下降 2.6%；汽车出口 44.5 万辆，出口额 411.0 亿元，出口量同比下降 13.6%，出口额同比下降 4.5%。

116. 2015 年 1~7 月，我国出口总额为（ ）

- A. 63534.0 亿元
- B. 77551.4 亿元
- C. 82907.1 亿元
- D. 95772.7 亿元

117. 2015 年 1~7 月，我国下列商品出口额同比下降最多的是（ ）

- A. 机械设备
- B. 服装
- C. 钢材
- D. 汽车

118. 2015 年 1~7 月，我国下列出口商品平均价格同比上涨最多的是（ ）

- A. 塑料制品
- B. 箱包及类似容器
- C. 肥料
- D. 汽车

119. 2015 年 1~7 月，我国服装、纺织品、鞋类、家具、塑料制品、箱包及类似容器、玩具出口额合计为（ ）

- A. 13576.1 亿元
- B. 14087.2 亿元
- C. 16078.0 亿元
- D. 18079.3 亿元

120. 下列判断不正确的是（ ）

- A. 2014 年 1~7 月，我国玩具出口额少于 422 亿元
- B. 2015 年 1~7 月，我国肥料出口量和出口额同比增长均超过 50%
- C. 2015 年 1~7 月，我国 7 大类劳动密集型产品中，多数出口额同比有所增长
- D. 2015 年 1~7 月，我国电器及电子产品和机械设备出口额同比平均增长 1.3%

二、根据以下资料，回答 121~125 题。

为了解城镇棚户区改造情况，国家统计局社情民意调查中心 2015 年选取了 20 个省（市、区）城镇棚户区的 10100 位居民进行调查。调查显示，对于棚户区配套公共服务设施改造状况，受访棚户区居民中 23.4%表示“满意”，40.2%表示“基本满意”，具体调查结果见下表：

表 受访棚户区居民对配套公共服务设施改造状况的评价

单位：%

棚户区类型	国有工矿	国有垦区(农场)	国有林区(林场)	城中村	城市危房	其他
满意	21.8	36.5	27.5	22.6	23.0	24.8
基本满意	39.8	38.3	49.6	41.3	38.9	36.5
不满意	15.9	13.7	15.3	16.7	12.2	9.3
不清楚	22.5	11.5	7.6	19.4	25.9	29.4

121. 各类棚户区中，表示“满意”“基本满意”的受访居民之和占本类棚户区受访居民总数的比重最高的是（ ）

- A. 国有林区（林场）
- B. 国有垦区（农场）
- C. 国有工矿
- D. 城中村

122. 表示“满意”“基本满意”的受访棚户区居民数之和比表示“不满意”“不清楚”的居民数之和多（ ）

- A. 2508
- B. 2617
- C. 2747
- D. 3676

123. 各棚户区类型中，表示“满意”的受访居民数比表示“不满意”的多 1 倍及以上的棚户区类型有（ ）

- A. 1 个
- B. 2 个
- C. 3 个
- D. 4 个

124. 各类棚户区中，表示“不清楚”的受访居民数占本类棚户区受访居民总数的比重最多相差（ ）

- A. 12.7 个百分点

- B. 16.9 个百分点
- C. 21.8 个百分点
- D. 29.4 个百分点

125. 下列判断正确的是 ()

- A. 各类棚户区受访居民给出的评价中, 占比最少的均是“不满意”
- B. 各类棚户区都有 65% 以上的受访居民表示“满意”“基本满意”
- C. 国有垦区(农场)与国有林区(林场)的受访棚户区居民之和少于 5050 人
- D. 各类棚户区受访居民中, 表示“基本满意”的人数均多于“不满意”“不清楚”的居民数之和

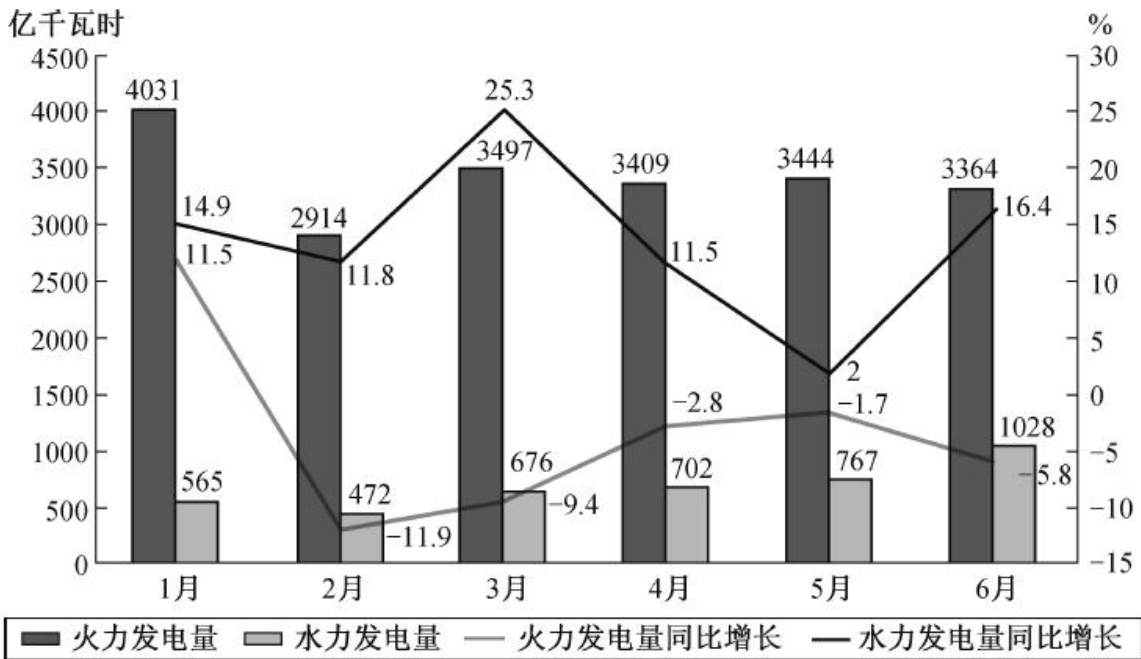
三、根据以下资料, 回答 126~130 题。

表 2013 年第一季度至 2014 年第四季度我国发电量情况

单位: 亿千瓦时

时间		发电总量	水力发电量	火力发电量
2013	第一季度	11823	1306	10006
	第二季度	12519	1985	9949
	第三季度	14347	2552	11161
	第四季度	13763	2047	11037
2014	第一季度	12719	1453	10782
	第二季度	13444	2265	10582
	第三季度	14592	3442	10377
	第四季度	13883	2284	10677

2015年1~6月我国火力、水力发电量及其增长情况



126. 2015年1~6月我国火力发电量少于上年同期的月度个数是 ()

- A. 3
- B. 4
- C. 5
- D. 6

127. 2014年我国季度发电量同比增长最慢的是 ()

- A. 第一季度
- B. 第二季度
- C. 第三季度
- D. 第四季度

128. 2015年第二季度我国火力发电量比上年同期少 ()

- A. 232 亿千瓦时
- B. 260 亿千瓦时
- C. 340 亿千瓦时
- D. 365 亿千瓦时

129. 如果2015年7~11月我国水力发电量的月平均增速与2015年2~6月保持相同,则2015年11月我国水力发电量可达 ()

- A. 1390 亿千瓦时
- B. 1870 亿千瓦时

- C. 2063 亿千瓦时
- D. 2239 亿千瓦时

130. 下列判断不正确的是 ()

- A. 2014 年有三个季度的水力发电量占发电总量的比重不超过 20%
- B. 2013~2014 年我国各个季度火力发电量占发电总量的比重均超过 70%
- C. 2015 年上半年我国水力与火力发电量各月同比增长的方向均相反
- D. 2013 年第二季度到 2015 年第二季度我国水力发电量有四个季度环比减少

四、根据以下资料，回答 131~135 题。

2015 年 6 月某市统计局对应届毕业生的抽样调查显示：有 593 名受访者打算创业，占 28.6%。其中，大专生打算创业的比重比平均水平高 7.0 个百分点，本科生打算创业的比重比平均水平低 3.9 个百分点，31.4% 的研究生打算创业，有 34.5% 的受访男生打算创业，比女生高 11.2 个百分点。在没有创业打算的受访者应届毕业生中，因缺乏启动资金，缺乏社会经验，缺乏创业方向等原因不打算创业的情况见图 1，有创业打算的受访应届毕业生能承担的创业资金额度情况见图 2。

图 1 受访应届毕业生不打算创业的原因(多选)

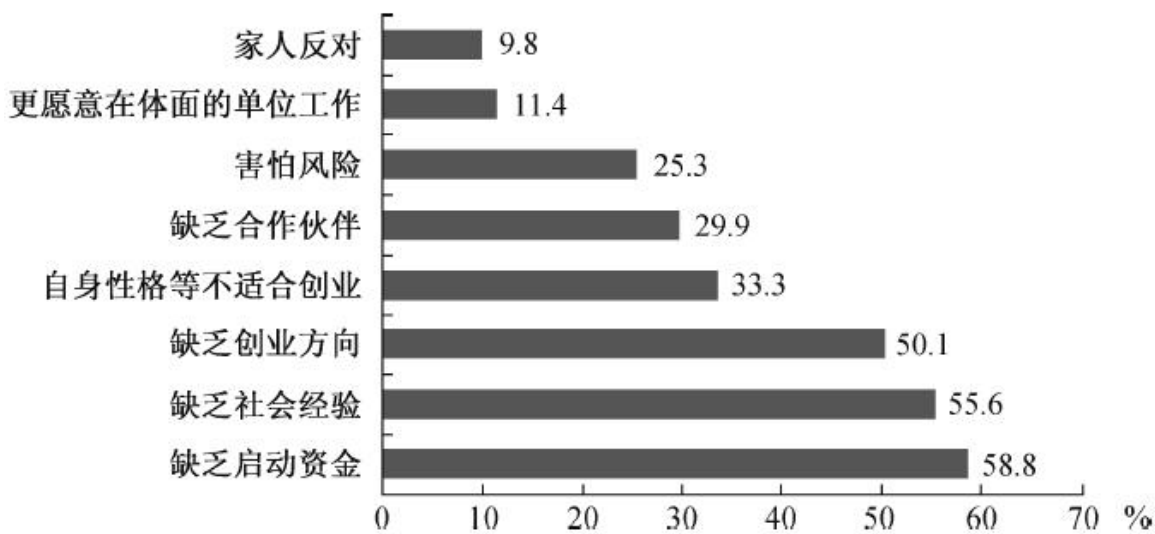
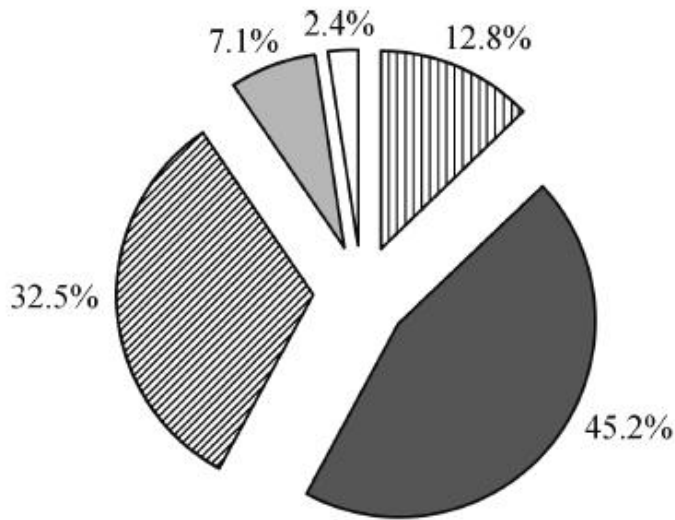


图2 有创业打算的受访应届毕业生能承担的创业资金额度情况



■ 2万元及以下 ■ 2~10万元 ▨ 10~50万元 ▩ 50~100万元 □ 100万元以上

131. 本次调查中，没有创业打算的毕业生人数约是有创业打算的毕业生人数的（ ）
- A. 1.5 倍
B. 1.9 倍
C. 2.5 倍
D. 2.8 倍
132. 本次调查中，本科毕业生打算创业的比重比大专生低（ ）
- A. 3.1 个百分点
B. 3.9 个百分点
C. 7.0 个百分点
D. 10.9 个百分点
133. 本次调查中，因缺乏启动资金而不打算创业的毕业生有（ ）
- A. 349 人
B. 870 人
C. 1219 人
D. 1480 人
134. 本次调查中有创业打算的毕业生能承担的创业资金额度低于 10 万元的人数是（ ）
- A. 344
B. 268
C. 249
D. 193

135. 关于本次调查，下列判断正确的是（ ）

- A. 受访男生人数比女生少
- B. 有 25.3% 的受访者因害怕风险而不打算创业
- C. 至少有 168 名受访者因更愿意在体面的单位上班而不打算创业
- D. 有超过 1 成的打算创业的毕业生能承担 50 万元以上的创业资金额度

2016 年江苏省录用公务员考试《行政职业能力测验》真题卷（A 类）参考答案与解析

1. 【解析】D。《“十三五”规划建议》提出了“十三五”时期经济社会发展的基本理念，即实现“十三五”时期的发展目标，必须牢固树立“创新、协调、绿色、开放、共享”的发展理念。因此 D 项正确。

2. 【解析】C。特别提款权（Special Drawing Right, SDR），亦称“纸黄金”（Paper Gold），最早发行于 1969 年，是国际货币基金组织根据会员国认缴的份额分配的，可用于偿还国际货币基金组织债务、弥补会员国政府之间国际收支逆差的一种账面资产。其价值目前由美元、欧元、人民币、日元和英镑组成的“一篮子”储备货币决定。加入 SDR 篮子意味着人民币成为了真正意义上的世界货币，名正言顺地成为国际货币基金组织 180 多个成员国的官方使用货币。A 项错误，中国以后的外汇储备依然是以“美元”为主进行计价。B 项错误，SDR 同普通居民并无实际联系。D 项错误，目前人民币还没有实现在世界各地自由兑换。综上选择 C 项。

3. 【解析】D。A 项错误，“三严三实”的主要内容是推进党的作风建设，而非党的组织建设。B 项错误，“三严三实”专题教育的对象为县处级以上领导干部。C 项错误，2014 年 3 月 9 日，习近平总书记在中华人民共和国第十二届全国人民代表大会第二次会议上参加安徽代表团审议时提出“三严三实”重要论述。D 项，“三严三实”专题教育是对党的群众路线教育实践活动的巩固和拓展，因此 D 项正确。

4. 【解析】C。C 项和题干的哲理都是：意识对物质有能动的反作用。A 项的哲理是抓住事物的主要矛盾，从实际出发。B 项的哲理是物质是第一性的，意识是第二性的。D 项的哲理是做任何事情，都要尊重客观规律，发挥主观能动性。

5. 【解析】C。③出自贺知章的《咏柳》，描绘了春柳的勃勃生机。①出自南宋诗人辛弃疾的《西江月·夜行黄沙道中》，抒写了当时当地的夏夜山道的景物和词人的受。②出自北宋诗人王禹偁（954~1001 年）的《村行》，落叶和荞麦开的白色小花，表明这是秋季。④出自毛泽东的《沁园春·雪》，描写的是冬天景象。因此排列顺序为③①②④。

6. 【解析】D。A 项错误，《茉莉花》起源于江苏南京六合一带。B 项错误，《茉莉花》是由英国

的马噶尔尼使团出访中国期间带回欧洲的。C项错误,《茉莉花》最早在1768年(清乾隆三十三年)法国哲学家卢梭的《音乐辞典》中就有收录,而曲谱则是在英国地理学家约翰·巴罗于1804年出版的《中国旅行记》一书中被记录下来的。D项正确,意大利歌剧作曲家普契尼在歌剧《图兰朵》中采用了中国民歌《茉莉花》,《茉莉花》由此风靡欧洲。

7. 【解析】B。A项错误,2015年是“一带一路”的开局之年。边境地区的和平稳定是“一带一路”建设向前推进的必要前提和保障,边境地区互联互通是“一带一路”建设的重要依托,边境地区经济合作不断发展是助推“一带一路”建设的加速器,C、D两项说法错误。B项正确。

8. 【解析】A。抚养比又称抚养系数,是指在人口当中,非劳动年龄人口对劳动年龄人口数之比。题干中提到“2020年到2050年,我国60岁以上人口占比将从19.3%上升到38.6%”,因此,非劳动年龄人口比例上升,抚养比上升,因此A项说法错误。其他选项均符合我国老龄化社会带来的各种问题。

9. 【解析】D。A、B、C三项均符合资本国际化的定义,D项属于消费行为,不是资本的跨国运作。

10. 【解析】B。长征的路线是:瑞金出发(1934.10)——强渡湘江——遵义会议——四渡赤水(1935.1)——南渡乌江——抢渡金沙江——抢渡大渡河——飞夺泸定桥——翻越夹金山——四川阿坝——翻越六盘山——吴起镇(1935.10)——三大主力会宁会师。综上可知长征路线经过了江西瑞金、贵州遵义、四川阿坝,没有经过湖南岳阳。

11. 【解析】B。A项,这首诗出自毛泽东同志的《清平乐·蒋桂战争》,蒋桂战争发生在1929年3月27日,系国民政府内部由新桂系与蒋介石势力之间爆发的一场内战。属于第二次国内革命战争时期。A项正确。C项,这首诗的前两句是“红旗跃过汀江,直下龙岩上杭”,上杭指的就是福建,闽是福建简称。C项正确。D项,第二次国内革命就是土地革命,所谓土地革命就是“打土豪分田地”,D项正确。B项,我国土地均归国家所有。B项错误,当选。

12. 【解析】C。高铁列车行驶时会产生巨大的空气压力波,它一旦进入车内,会让桌上的物品一片狼藉。乘坐者根本无法忍受这种空气压强差,轻则使乘客耳膜产生压迫感,重则会使乘客感到头晕恶心,严重时甚至造成耳膜破裂。因此C项正确,当选。

13. 【解析】C。在发生火灾时,燃烧的热空气向上走,并含有多种对人有害的成分,所以A、B两项说法正确。浓烟从上往下扩散,越近地面,浓烟越稀薄,呼吸较容易,视野也较清晰。所以C项说法错误,D项说法正确。

14. 【解析】B。A项出自杜甫的《望岳》,对应的景点为泰山;B项出自苏轼的《饮湖上初晴后雨》,对应的景点为杭州西湖;C项出自杜牧的《寄扬州韩绰判官》,描写的是扬州二十四桥;D项出自李白《望庐山瀑布》,描写的是江西省九江市的庐山。

15. 【解析】D。A项正确,秦岭——淮河一线是我国南北地理分界线。B项正确,祁连山的融雪

丰富，灌溉了河西走廊平原。C项正确，喜马拉雅山脉平均海拔超过6000米且形成时间在6500万年前。D项错误，阴山山脉是传统上重要的农业和牧业的分界线。

16. 【解析】B。A项，法院结案真正地解决纠纷，化解矛盾，体现司法解决的根本性。A项正确。C项，对未经起诉的事情法院不予受理的诉讼原则，体现司法活动的被动性。C项正确。D项，一事不再理原则就是对判决、裁定已经发生法律效力的案件的被告人，不得再次起诉和审理，体现了司法程序的终结性。D项正确。B项说明了司法的公正性，而不是普遍性，当选。

17. 【解析】C。《国务院关于修改部分行政法规的决定》已经于2016年1月13日在国务院第119次常务会议上通过。其中第六条规定，国务院民政部门 and 县级以上地方各级人民政府民政部门是本级人民政府的社会团体登记管理机关。因此C项正确。

18. 【解析】B。在征用土地或房屋拆迁行政案件中，因征地或拆迁这一具体行政行为引起纠纷，当事人不服这一行政行为提起行政诉讼，相关的建设单位可以作为第三人参加诉讼，这是因为具体行政行为是在实现建设单位已经取得的合法权益，这一具体行政行为一旦被告，则与建设单位的权益有法律上的权利义务关系。本题王某已经从土地主管部门得到批准，应当由土地主管部门在诉讼中进行举证，作为第三人参加诉讼。因此B项正确，当选。

19. 【解析】A。16周岁以上不满18周岁的公民，以自己的劳动收入为主要生活来源的，视为完全民事行为能力人。因此A项正确，当选。

20. 【解析】D。题干关键词是绿色发展，绿色体现为低碳、环保、可持续和可循环等特点，侧重于发展过程中的人与自然相协调。

A项，对钢铁企业不应该提供能耗补贴，而是帮助企业改进生产技术，提高利用效率，使用清洁能源。A项错误。B项，过度消费和自然环保之间的联系并不是非常紧密。B项错误。C项，行政干预非常明显，政府要以引导为主，而不是强制规定，虽然电动汽车会减少汽车尾气的排放，但是明显违背了法律的精神。C项错误。D项，对环境实时监控，就可以根据环境质量的变化，发现存在的问题，采取必要的措施，是推进绿色发展的措施。D项正确，当选。

21. 【解析】A。文段为总分结构，开头指出决策的过程就是抢抓机遇，然后就“如何抓住机遇”展开论述。通过正面和反面论证及时决策的重要性。如果不及时决策，那么就会失去机遇。因此A项正确，当选。

22. 【解析】D。由文段首句“实地调研、田野考察，应该成为一切社会科学普遍运用的最基本的研究方法之一”可知，文段主要讨论的是“社会科学”的研究方法，D项当选。

23. 【解析】D。由“可以说”可知，划横线部分是对前一句的高度概括。根据“可见沙尘……而且在全球的水循环上也扮演着重要的角色”可知，A项说法过于绝对，排除。B、C两项主体错误，主体是“沙尘”而不是“风”，均排除。D项符合，当选。

24. 【解析】D。文段尾句指出“如果报纸不能从知识层面生产信息……竞争不过新媒体是自然而然的”，A项说法错误，排除。B项，只是文段论述的部分片段，排除。C项，文段未提及，排除。因此D项当选。
25. 【解析】C。由“是的，社会确实需要鼓励开展这种话题的讨论”可知，C项与文意不符，当选。根据“有多少讨论是聚焦抑郁症患者每天必须面对的精神困扰？”可知，强调抑郁症患者的精神状况更值得关注。A、B两项符合文意，排除。由“似乎更多的讨论集中在精神疾病的悲剧结局上，而不是及时进行干预”可知，D项符合文意，排除。
26. 【解析】B。文段中把“道路”比喻成“河流”，把“高楼”比喻成“峡谷”，道路在高楼峡谷中蜿蜒流淌，只有高处俯瞰才能呈现此景。另外，古人登上依水而建的楼阁，所观之景与此相似，其视线是由高处往下的，因此B项当选。
27. 【解析】C。由“对于儿童，骨骼生长需要钙的沉积，需要的钙就比排出的要多”可知，A项符合文意，排除。根据“青少年每天1300毫克……学龄前儿童根据年龄会低一些”可知，B项符合文意，排除。C项成人比青少年标准低，不符合文意，当选。由首句可知，D项符合文意，排除。
28. 【解析】A。由文段中“而要准确理解……就需要对法律文本语言进行解释”，以及尾句“而回答这一问题的过程本身就是一个解释的过程”可知，文段意在强调的是法律解释的必要性，因此A项当选。B、C两项，文段未提及，排除。D项是文段的部分内容，排除。
29. 【解析】A。由“语言本质上是用声音符号做物质外壳的，文字则是用来记录有声语言的”，“网络主要利用文字来实现即时的远距离交流”可知，网络用语的本质是用文字记载的语言，因此A项正确。
30. 【解析】C。由文段首句中“中国传统节日基本上是按天人和谐的精神设立”可知A项正确。由“‘节’是……是‘人’的节奏”可知，它区隔出一年生活周期中的各个阶段，展现出一年生活中各个阶段的涵义”，说明“节”有多重涵义，B项正确。文段中“有如生命成长过程中的各个阶段”里的“阶段”指的是“节”区隔出的一年生活周期中的各个阶段而不是“节”本身，因此C项错误。D项，文段最后指出“是连通自然节律与人生节律的‘节点’”，D项正确。因此C项当选。
31. 【解析】C。由“当试图解决与情感相关的问题时，情商高的人的脑电波活动力量也略低一些”可知，A项错误，排除。文段中仅指出“智商高的人解决问题的时候大脑的活动量反而低”，不能推出B项。由文段可知，智商高的人大脑应用效率高，情商研究与智商研究类似，因此情商高的人大脑应用效率也相对比较高，C项正确，当选。根据文段尾句中“情商……显示出和智商类似的机制”可知，智商高的与情商高的人脑机制类似，不是相同。D项属于偷换概念，排除。
32. 【解析】A。⑥是结论性的语句，不适合作为首句，因此排除C、D两项。A、B两项末句分别

为④和⑤，④由“因此”引导，为结果，⑤为原因，因此⑤应在④之前，A项当选。

33. 【解析】B。文段开端介绍“跨境电子商务的优势”作为铺垫，随后指出“跨境电商……为中小企业走出去提供了可能”，因此文段主要说明跨境电商对中国制造带来极大利好，同义替换为B项。A项，只是文段开端介绍的内容，不是文段重点说明的内容，排除。C项中“我国企业”与文段表述的“中小企业”相比，概念扩大，故排除。D项，文段未提及，排除。因此B项当选。

34. 【解析】C。文段主要谈论的是蓝藻形成水华带来的危害以及蓝藻爆发的原因——水体污染，因此文段意在强调的是如何控制蓝藻爆发。C项“治理水体污染是控制蓝藻爆发的根本措施”与之相符，当选。A项主要谈论的是蓝藻上浮带来的危害，不是文段重点强调的内容，排除。文段指出“人们对水资源的不合理开发与利用……为蓝藻的爆发提供了得天独厚的条件”，B项因果关系倒置，排除。D项属于无中生有，排除。

35. 【解析】B。A项表述过于绝对，且文段中指出的是“这种数据的可靠性有待商榷”，排除A项。B项与文段尾句“人们往往会错误估计自己呆在户外的时间”相符，因此B项当选。由文段首句中“户外活动和近视关联证据并不充分”可知C项说法过于绝对，排除。D项，文段未提及相关内容，排除。因此B项当选。

36. 【解析】B。由横线后面的“少数人主导”“几乎”“更大的问题”等提示词可知，此处应填入表示不好的程度加重的成语，“雪上加霜”常用来比喻接连遭受灾难，损害愈加严重，符合句意，当选。

37. 【解析】D。两派争论的问题主要集中在第二段，由两派不同的支持观点可知，A、B、C三项均为争论所涉及的问题。D项与两派争论的问题无关，当选。

38. 【解析】A。“始作俑者”比喻首先做某件坏事的人，表达破坏的方面，排除C、D两项。由第二段最后一句中的“和产业界合作会将环境保护工作出卖给环境问题的始作俑者”可知，“始作俑者”指“产业界”，即“制造了环境问题的企业”，A项当选。B项范围过于广泛，排除。

39. 【解析】C。由第三段中“理性温和的辩论，逐渐沦为……个人论战。这种情况……使实践层面的环保工作停滞不前”，以及承上启下的第五段“环境保护……需要科学家和实践工作者更加包容的态度以及处理环境问题时更加包容的方式”可知，C项“不正确的沟通方式会影响实际的环境保护工作”是作者担心的最主要问题。

40. 【解析】C。由最后一段“应当更加精确地描绘这一领域悠久的、全球的、共同参与的历史进程”以及“环境保护组织和科学家们应当欢迎所有的环境保护执行机构”可知，作者提出的对策是C项。B项倾听的不是公众声音，应是环境领域科学家和工作者的声音。

41. 【解析】D。第一空，由“盯着名利干事”可知，“急功近利”最恰当，且两者也都包含关键字“利”。第二空，由“不闻掌声”可知，“心无旁骛”最恰当。因此D项当选。

42. 【解析】A。第一空，由“平静”“街面上的”可知，“车水马龙”最恰当。验证第二空，“白纸黑字”与语义相契合。因此A项当选。
43. 【解析】B。第一空，“划分”即把整体分成若干部分。“细化”指的是深入到每一个细微环节。“分工”一般搭配任务、职能等。“细分”与“专业”搭配最恰当。第二空，“补齐”与“短板”搭配恰当。验证第三空，“治愈顽疾”语句通顺。因此B项当选。
44. 【解析】C。先看第二空，“别开生面”比喻另外创出一种新的形式或局面；“独树一帜”比喻独特新奇，自成一家；“不落窠臼”比喻独创风格，不落旧套；“匠心独运”形容艺术构思有独创性。从成语适用范围上来看，这句话强调的是苏轼的书法艺术能够自成一家，因此最为恰当的是C项。验证第一空，“取法”最为恰当，“效法”“模仿”“仿照”用于苏轼的书法，不够恰当。因此C项当选。
45. 【解析】B。先看第二空，“浑然天成”形容诗文结构严密自然，用词运典毫无斧凿痕迹；亦形容人的才德完美自然。“水乳交融”指像水和乳汁融合在一起，比喻感情很融洽或结合十分紧密。“浑然一体”是指融合成一个整体，不可分割；也形容文章绘画，布置匀整，结构严谨。以上三个词用来形容法律与道德的关系均不妥，排除A、C、D三项。验证第一空，语句通顺，符合语义。因此B项当选。
46. 【解析】B。第一空，“缘木求鱼”比喻方向或办法不对头，不可能达到目的。“画饼充饥”比喻用空想来安慰自己。“纸上谈兵”比喻空谈理论，不能解决实际问题；也比喻空谈不能成为现实。“闭门造车”比喻脱离实际，只凭主观办事。很显然，A、D两项不符合语义。第二空，“立身之本”与“一无是处”搭配不当，C项错误。因此B项当选。
47. 【解析】D。第一空与“深厚”搭配，“资本”“资源”不符合，排除A、C两项。第二空，“一挥而成”指一动笔就写成了，形容写字、写文章、画画快，不能用来形容“传统出版社的竞争优势”，排除B项。因此D项当选。
48. 【解析】A。第一空，“不以为然”“视而不见”“熟视无睹”其成语本身的感情色彩不符合语境，排除B、C、D三项。验证第二空，抹得“一尘不染”语句通顺，符合语义。因此A项当选。
49. 【解析】B。第一空，“娇生惯养”指从小就被溺爱、娇养惯了，显然不符合语义，排除A项。第二空，“甄选”指在审查的基础上进行选择，“精选”指认真地把一类事物中具有代表性和非常经典的挑选出来，不符合语义，排除C、D两项。验证第三空，“推动生命的演化”搭配恰当，语句通顺。因此B项当选。
50. 【解析】B。第一空，“舍生忘死”与“不惧”搭配不当，排除A项。第三空，军人不只有男性，“男儿本色”表述不当，排除C项。比较B、D两项，B项的“马革裹尸”更能体现战争的残酷，表现军人的伟大。因此B项当选。

51. 【解析】D。第一空，“不堪重负”“顾此失彼”与“网络热词的更替速度”搭配不当，排除B、C两项。第二空，“宿愿”指平素的愿望，一向怀着的愿望，而题干强调的是一种结果，排除A项。“宿命”是指命运的归宿，是人们无法摆脱的必然趋势，符合题意。因此D项当选。

52. 【解析】A。第一空，“热火朝天”形容群众性的活动情绪热烈，气氛高涨，就像炽热的火焰照天燃烧一样；“万马奔腾”形容群众性的活动声势浩大或场面热烈，均多形容“场面”，排除B、D两项。再看第三空，“抢滩”在商业上指抢占市场，填在此处最恰当。验证第二空，代入“炙手可热”符合语义。因此A项当选。

53. 【解析】B。第一空，“理论”与“仁爱”搭配不当，排除D项。第二空，“维系”指维持和联系，不让涣散；“维持”一般搭配秩序；“维护”有维持保护的意思；“维稳”即维护稳定。很显然“维系”符合语义。验证第三空，“历史绵延不绝”搭配恰当，符合语义。因此B项当选。

54. 【解析】A。第一空，“遗忘”“遗弃”均不符合语义，排除C、D两项。再看第三空，“难以问津”比喻很少有人来探问、尝试或购买，符合语义；“难以为继”指难以继续下去。验证第二空，“集腋成裘”比喻积少成多，符合语义。因此A项当选。

55. 【解析】C。先看第二空，“市场治理”与“政府监管”之间是“互补性”关系，初步判定C项正确。验证第一空和第三空，语句通顺，符合语义。因此C项当选。

56. 【解析】A。两两作商得1, 3, 5, 7, (9)，则35后面一项为 $35 \times 9 = 315$ 。因此A项当选。

57. 【解析】C。将 $\frac{3}{5}$ 反约分为 $\frac{21}{35}$ 。分子两两作差得2, 4, 6, 8, (10)，因此未知项的分子为 $21+10=31$ 。分母两两作差得2, 4, 8, 16, (32)，因此未知项的分母为 $35+32=67$ 。未知项为 $\frac{31}{67}$ 。因此C项当选。

58. 【解析】A。整数部分作差得1, 3, 9, 27, (81)，构成等比数列，因此未知项的整数部分为 $44+81=125$ 。各项整数部分与小数部分之间具有如下关系： $4=2 \times 2$ ， $5=2 \times 2+1$ ， $8=4 \times 2$ ， $17=8 \times 2+1$ ， $44=22 \times 2$ ， $125=62 \times 2+1$ 。答案为125.62，因此A项当选。

59. 【解析】D。 $2=\sqrt{4}$ ， $3=\sqrt{9}$ ， $4=\sqrt{16}$ 。只看底数：

4 9 16 27 46 (81) 作差

5 7 11 19 (35) 再作差

2 4 8 (16) 公比为2的等比数列

因此未知项为9，D项当选。

60. 【解析】B。两两作差得 5, 7, 11, 13, 构成质数数列, 下一项差为 17。答案为 $38+17=55$ 。B 项当选。

61. 【解析】D。设乙的速度为 $2x$, 甲的速度为 $3x$, $600=(2x+3x) \times 3$, 解得 $x=40$, 甲的速度 $3x=120$ 千米/小时。因此 D 项当选。

62. 【解析】B。根据容斥原理的公式: 在两个集合的情况下: 满足 A 的个数+满足 B 的个数-两者都满足的个数=总个数-两者都不满足的个数。因此 $26+24-17=38-x$, 解得 $x=5$ 。两题都答错的人是 5 个, 因此 B 项当选。

63. 【解析】C。令甲、乙、丙的效率分别为 5, 4, 6, 则已完成的工程量为 $6 \times (5+4) + 4 \times 9=90$, 占 60%, 说明还剩 $90 \div 60\% - 90=60$ 的工作量, 由丙单独做, 则需要的天数为 $60 \div 6=10$ (天), A 项当选。

64. 【解析】A。设盐溶液的溶质为 x , 倒入 B 的溶质为 $x \times \frac{1}{2}$, 倒入 C 的为 $x \times \frac{1}{2} \times \frac{1}{3} = \frac{x}{6} = 40 \times 2.5\%$, 解得 $x=6$, 因此原盐溶液的浓度为 $\frac{6}{10}=60\%$ 。A 项当选。

65. 【解析】C。设敬老院老人数为 x , 共有牛奶 $4x+28$ 盒。每人分 5 盒时, 最后一位老人不足 4 盒, 最多 3 盒, 但至少一盒。因此可得不等式: $4x+28 < 5(x-1) + 4$; $4x+28 \geq 5(x-1) + 1$, 解得 $29 < x \leq 32$, 至少 30 人。C 项当选。

66. 【解析】B。1000 股股票的市值是: $10 \times 1000 \times (1-5\%) \times (1+5\%) = 10000 \times (1-5\%+5\%-5\% \times 5\%) = 9975$ (元), 因此 B 项当选。

67. 【解析】D。“每隔 3 天去一次”意思是“每 4 天去一次”。因此 4, 5, 6 最小公倍数为 60, 60 天之后三人再次相遇。2016 年 2 月是闰月, 有 29 天, 3 月 31 天, 下一次相遇即为 4 月 10 号。D 项当选。

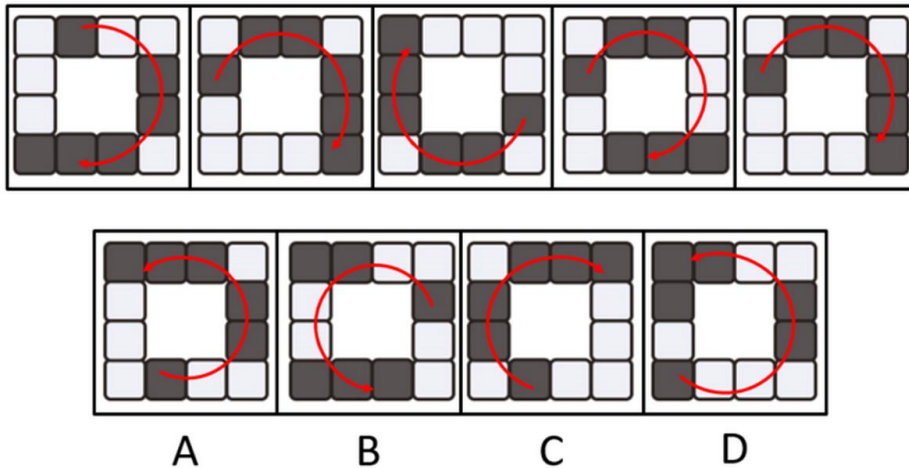
68. 【解析】B。以 AB 为对角线将图形补成长方形, 也就是要缺失的两部分面积相同, $2 \times 4 = x(6-x)$, 解得 $x=2$ 或 4。B 项当选。

69. 【解析】C。逆向思维, 都没有遇到红灯的概率为 $0.6 \times 0.5 \times 0.4 = 0.12$, 遇到红灯概率为 $1-0.12=0.88$, C 项当选。

70. 【解析】D。枚举发现转弯处的数字依次加一, 1, 1, 2, 2, 3, 3, 4, 4, 5... 两两分组看为一个首项为 2, 公差为 2, 项数为 11 的等差数列, 根据等差数列项数公式: 项数 = (末项 - 首项) \div 公差 + 1, 末项 = 22, 因此 $S_{11} = (\text{首项} + \text{末项}) \times \text{项数} \div 2 = 12 \times 11 = 132$, 再加上第一个数是 1, 因此第 22 个转弯为 133。D 项当选。

71. 【解析】D。目的关系。上山来到山上, 下台来到台下。

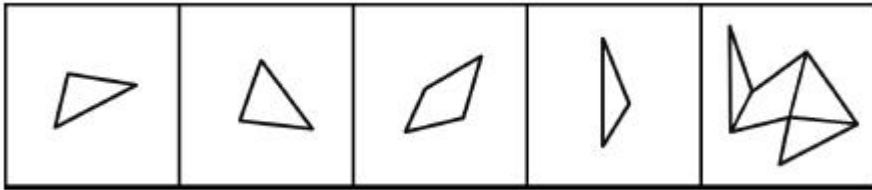
72. 【解析】A。比喻关系。像天鹅一般舞蹈，像黄莺一样歌唱。
73. 【解析】B。反义词关系。静如处子和动如脱兔是反义词关系，胆小如鼠和胆大包天是反义词关系。
74. 【解析】A。级别关系。前者为最高级别，后者的“亚”表示次级。A项的气候带是按照地理纬度或实际温度来划分的，有级别顺序之分。B项两词不是同一科属，且用途也不一样。C项二者涵盖的地理范围不同，且都是其所属范围内最高级别的赛事。D项顺序颠倒，排除。
75. 【解析】C。题干中后两个词均为第一个词的组成部分，只有C项符合。A项中树林为集合概念，应为树木。B项的中间词不是第一个词的组成部分。D项第一个词是后两个词的统称，与题干逻辑关系不符。
76. 【解析】D。事物与其所处空间。火车在轨道上行驶，油轮在江海上航行。
77. 【解析】A。职称与对应的具体工作。司机的本职工作是驾驶，教师的本职工作是讲课。
78. 【解析】C。数学运算式中的变量关系。时间乘以速度等于路程，体积乘以密度等于重量。
79. 【解析】B。最后两个符号相同，排除C项。倒数第四五位置上符号相同，排除A、D两项。
80. 【解析】C。前两个相同，第三、五、八相同，六、七相同，C项当选。
81. 【解析】A。题干一组图都是在做不同的球类运动，只有A是做球类运动，当选。
82. 【解析】C。图形组成相同，考虑位置。以单独的黑块看，分别顺时针移动2、6、6、6、1，没有明显的移动规律。考虑相对位置关系，题干5幅图中，1个黑块→2个黑块→3个黑块是沿着顺时针的顺序，A、B、D三项均是沿着逆时针顺序。只有C项符合此规律，当选。



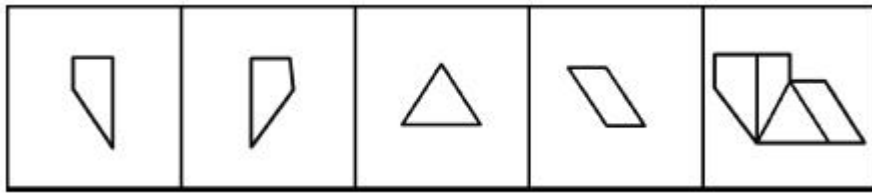
83. 【解析】B。题干多边形和线出现的比较多，优先考虑线条数，分别是3、4、4、5、5，没有规律。再考虑交点数，交点数分别为3、4、4、5、5，发现点和线的数量完全一致。只有B项符合，当选。
84. 【解析】C。观察图形发现图形均由1条曲线和2条直线构成。直线组成了坐标轴，曲线形成了波峰和波谷，首先看波峰和波谷的数量。波峰数量依次为3、3、3、3、2，波谷数量依次为2、2、2、4、3，发现波峰波谷相减结果都得到1，排除A、D两项。再观察波峰波谷与坐标轴的位置

关系，每个图中最高的波峰出现在竖轴的左侧，排除 B 项。因此 C 项当选。

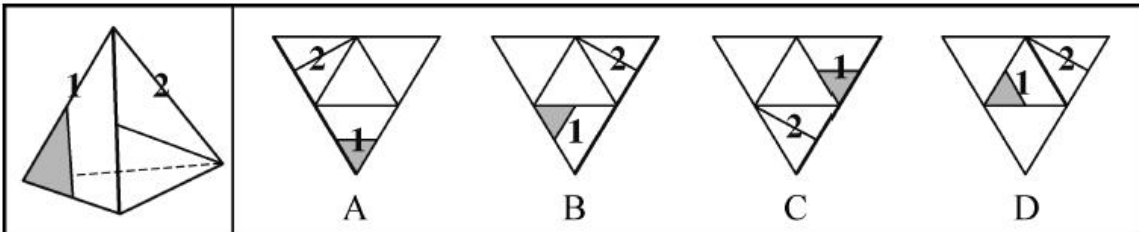
85. 【解析】C。本题考查的是平面拼合，可以采用平行等长消去的方式。消去平行等长的线段后进行组合得到轮廓图，即为 C 项。如下图所示：



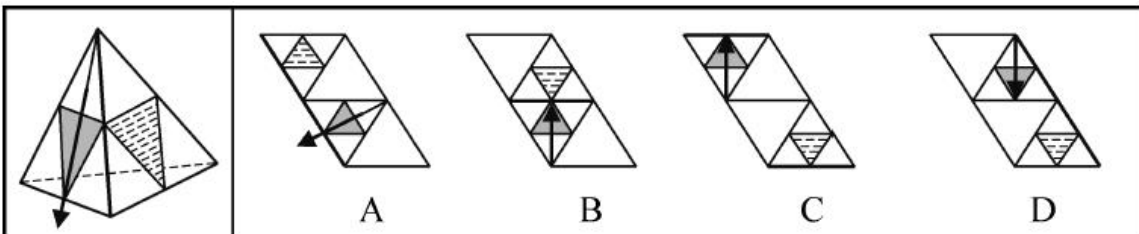
86. 【解析】D。本题考查的是平面拼合，可以采用平行等长消去的方式。消去平行等长的线段后进行组合得到轮廓图，即为 D 项。如下图所示：



87. 【解析】B。观察左侧图形可以发现，面 1 和面 2 有一条邻边，面 1 的黑三角与邻边不相连，面 2 中的线段与邻边在中点处相交，据此可排除选项。A 项，面 1 的黑三角与邻边相接，错误。C 项，面 1 的黑三角与邻边相接，错误。D 项，面 2 的线段没有在邻边中点处相交，错误。因此 B 项当选。



88. 【解析】D。观察左侧图形，黑色三角形和虚线三角形有公共边，而箭头与该公共边不垂直。A、B、C 三项中黑色三角形的箭头方向都与公共边垂直，均排除。因此 D 项当选。



89. 【解析】D。左侧图中 1 条横线的面与 2 条横线的面直线相互垂直，而 B、C 两项中的直线相互平行，均排除。A 项组成立方体后，若顶面为 3 条横线面，正面为 2 条横线面，1 条横线的面则在左侧，因此排除 A 项。D 项当选。

90. 【解析】A。C、D 两项对角线面与黑球面关系不符，排除。B 选项面上的对角线均指向三个面的公共定点，与立体图形不符。因此 A 项当选。

91. 【解析】D。从选项可知，只需要理清题干最后一句逻辑关系即可：土地资源炒作暴富或凭借权钱交易腐败发财→创新没有真正的动力（充分条件假言推理，肯前推肯后，否后推否前）。A项推理明显错误，两个并列的前件无法互推。B项否前不能否后。C项肯后不能肯前。D项否后则否前，推理正确，当选。
92. 【解析】D。题中已知李明是教授，根据“教授都不担任行政工作”，可知李明不做行政工作。由“30以下的年轻博士都在做行政工作”，否后否前，可得李明不是博士。而海外招聘的都是博士，所以李明不是海外招聘来的，因此可推出D项。
93. 【解析】C。A、B、D三项对话方式与题干类似，都是在转移话题，拿其他问题当挡箭牌，只有C项是从正面回应问题的。
94. 【解析】A。题干的论点是：中国河流抗生素浓度高不足为虑。论据是：目前中国江河和土壤中检测的抗生素浓度都小于各种抗生素对病菌的最小抑制浓度。A项，在抗生素浓度和抗生素对病菌最小抑制浓度之间搭桥，加强题干论点，当选。B、C、D项均与题干论述无关，排除。
95. 【解析】B。因为是足球单循环赛，每队踢四场球，已知乙踢赢了三场，输给了甲，所以乙赢了丙、丁、戊，也就是这三支队至少输一场，又由于积分都不一样，所以这三支球队不可能比乙高，所以前两支出线的必定有乙。
96. 【解析】C。根据兔子的话可推出的是：钉了掌，就无论如何无法证明自己不是骆驼了。所以钉了掌是充分条件，能推出一定是骆驼，C项当选。
97. 【解析】B。艺术家的观点是：自然的星空正是梵·高创作的灵感来源。A、C、D三项均可加强艺术家的观点，因此均排除。B项所述与梵·高创作的灵感来源并无关系，属于无关选项，符合题干要求，当选。
98. 【解析】D。由题干可知，新来的老王谁都没帮过，所以所有人都属于有人没帮助过的。而老周帮助过所有人，也帮过老刘和老张，并且帮过老刘的人都被老张帮助过，所以可得老周和老张互相帮助过。
99. 【解析】A。因为乒乓球组里面只有乙、丙，登山组只有己、庚，所以其他人只能去剩下的台球组或和羽毛球组，因为一个人最多在两个组，所以可以排除B、C、D三项，A项当选。
100. 【解析】D。已知，乒乓球组只有乙、丙，因为台球组不能有乙、丁，所以丁肯定在羽毛球组和登山组，又因为丁与戊在一组，丁不在台球组，所以甲也不在台球组，戊也不在台球组，所以甲、丁、戊都在羽毛球组和登山组。一组最多五人，己和庚情况相同，所以必定会在台球组，A项中丙可以去羽毛球组或登山组，B项中戊必须要去羽毛球组或登山组，C项中庚有可能参加羽毛球组和登山组，只有D项正确。
101. 【解析】B。“逆势扩张”的定义强调“面临巨大压力和困难的情况下”，而B项没有体现

压力和困难，因此B项不符合定义，当选。

102. 【解析】C。公共信息资源的定义要点为：①面向全体社会公众；②具有公共性、广泛性、基础性和公益性等特点。因此C项符合定义，当选。

103. 【解析】D。“功利化阅读”的定义要点为：只阅读对提高自己的学习成绩、工作能力或求职更有帮助的书刊资料。D项阅读科幻小说不符合定义要点，不属于功利化阅读。

104. 【解析】A。“定制旅游”的定义要点为：游客和旅游服务商共同商定。而A项没有商定的过程，当选。

105. 【解析】C。“优势反应”的定义要点为：①熟练程度极高；②遇到某种刺激；③习惯性动作。而C项只是条件反射，没有体现熟练程度高。

106. 【解析】B。“以房养老”的定义要点为：将自己的产权房抵押给金融机构，定期领取养老金，去世后，金融机构按照约定处置房产。只有B项符合定义要点。A、C、D三项均没有把产权房抵押给金融机构。

107. 【解析】A。“自然淘汰育种法”的定义强调“在良种筛选过程中，减少人为干预”，只有A项符合定义要点。B、C两项有人工干预选种。D项并没有提到筛选良种。

108. 【解析】B。“隐性就业”的定义要点为：没有通过传统就业渠道获取固定职业，而B项的教授是有固定职业的，只是在固定职业之外还兼职其他工作。

109. 【解析】D。“众筹行为”的定义强调“投资回报”，只有D项体现了回报。

110. 【解析】B。“路怒症”定义要点为：①机动车驾驶者；②行车过程中；③因焦躁、愤怒产生攻击性的行为。B项老陈并不是机动车驾驶者，不符合定义要点①。因此B项当选。

111. 【解析】C。定义要点为：①避免统一指挥造成信息传递延误；②跨越权力边界进行横向沟通。C项第一小组高组长没有向指挥中心汇报属于跨越权力边界，请求第二小组邓组长增援，跨越了权利边界，属于横向沟通，符合定义，当选。

112. 【解析】C。定义要点为：①追求完美效果；②拥有某件物品后不断配置其他相应物品。C项张女士前后购买的是T恤，并没有配置其他物品，不符合定义，当选。

113. 【解析】A。“平行竞争”的定义要点为：①厂商提供不同种类的产品；②满足顾客同一需求。B项“一款平板电脑”不符合①，排除。C项不是同一需求，D项小李不是顾客，都不符合②，C、D两项均排除。因此A项当选。

114. 【解析】C。定义要点为：①工作表现中领导对表现欠佳的下属不批评，适度肯定；②取得与正向激励效果相当。C项小李未按时完成任务，表现欠佳，领导不批评反而给予适度肯定，最后小李报告完成得很出色，符合定义，当选。

115. 【解析】B。定义要点为：①上代人对新生代整体形象做出的负面评价；②不够客观、准确。

A项钱总对少数年轻技术人员的评价不是对新生代整体形象的评价，不符合定义①，排除。B项父辈指责“80后”为“叛逆的一代”是从自己的视角对80后这一整体形象做出的负面评价，七十高龄作家称“80后”为“懦弱的一代”，说明父辈的评价不够客观和准确，符合定义，当选。C项孙大妈对女儿的评价不是对新生代整体形象的评价，不符合定义，排除。D项啃老男对父母这一代人的评价是对上代人的评价，不是上一代对新生代的评价，不符合定义，排除。

116. 【解析】B。2015年1~7月我国机电产品出口额44395.4亿元，占总额的57.2%，因此1~7月出口总额为 $\frac{44395.4}{57.2\%}$ ，直除法得首位为7，因此B项当选。

117. 【解析】A。本题属于增长量的比较问题。A项机械设备同比下降 $\frac{12865.6}{1-6.6\%} \times 6.6\%$ ，B项服装同比下降 $\frac{5709.9}{1-6.4\%} \times 6.4\%$ ，C项钢材同比下降 $\frac{2319.5}{1-2.6\%} \times 2.6\%$ ，D项汽车同比下降 $\frac{411}{1-4.5\%} \times 4.5\%$ 。四个算式的分母很接近，此时分子大的分数值也大，观察发现A项分子最大，则其分数值也最大，即下降最多。

118. 【解析】D。因需求出四项商品中平均价格同比上涨最多的一项，故可判定此题为平均数的增长量比较问题。可首先判断商品平均价格是同比上升还是下降，其次比较上升的数值。根据平均数的增长量计算公式可得，A、B、C、D四项商品的平均价格同比增长量分别为：

A项（塑料制品）： $\frac{1293}{554} \times \frac{2.3\% - 2.9\%}{1 + 2.3\%}$ ，为负值，排除。B项（箱包及类似容器）： $\frac{999}{167} \times \frac{8\% - 3.8\%}{1 + 8\%} \approx 6 \times 4\%$ 。C项（肥料）： $\frac{366}{1957} \times \frac{62.7\% - 54.7\%}{1 + 62.7\%} \approx 0.2 \times 5\%$ 。D项（汽车）： $\frac{411}{44.5} \times \frac{-4.5\% + 13.6\%}{1 - 4.5\%} \approx 9 \times 10\%$ 。对比可得，D项数值最大，平均价格同比上涨最多。

119. 【解析】C。将每项出口额末尾数字相加，最后得到0，可得C项符合。

120. 【解析】D。A项，2014年1~7月，我国玩具出口额为 $465 \div (1 + 11\%) \approx 419 < 422$ （亿元），该项正确，排除。B项，我国肥料出口量同比增长54.7%，出口额同比增长62.7%，均超过50%，该项正确，排除。C项，7大类中，家具、塑料制品、箱包及类似容器、玩具4类出口额同比均有所增长，该项正确，排除。D项，根据“电器及电子产品出口19373.1亿元，同比增长4.1%；机械设备出口12865.6亿元，同比下降6.6%”， $[4.1\% + (-6.6\%)] \div 2 = -1.25\%$ ，因此两者的平均增速接近-1.25%。又 $19373.1 > 12865.6$ ，因此两者的平均速度应该介于-1.25%与4.1%之间，略大于-1.25%。可知D项说法错误，当选。

121. 【解析】A。直接观察表格，国有工矿为 61.6%，国有垦区为 74.8%，国有林场为 77.1%，城中村为 63.9%。因此 A 项当选。

122. 【解析】C。文字资料中提到 23.4%和 40.2%共 63.6%的居民表示“满意”和“基本满意”，因此有 36.4%的居民表示“不满意”和“不清楚”。因此所求为 $(63.6\% - 36.4\%) \times 10100 \approx 2747$ （人）。因此 C 项当选。

123. 【解析】B。观察图表可知，表示“满意”比“不满意”多一倍及以上的有国有垦区和其他共 2 个类型。

124. 【解析】C。表示“不清楚”的比重最少为国有林场（7.6%），最多为其他（29.4%），相差 21.8%。因此 C 项当选。

125. 【解析】C。A 项错误，国有垦区占比最少是“不清楚”；B 项错误，国有工矿只有 61.6%的居民表示“满意”“基本满意”；D 项错误，其他中，“基本满意”的居民数小于“不满意”和“不清楚”的居民数之和。

126. 【解析】C。2015 年 1~6 月火力发电量少于上年同期的月度，则其同比增长率必然是负的，观察可知有 2 月、3 月、4 月、5 月和 6 月，共 5 个月。

127. 【解析】D。由题目所问“同比增长最慢”是哪一季度，判定本题为一般增长率比较问题。定

位表格材料可得，2014 年 4 个季度的同比增长率分别为：第一季度： $\frac{12719 - 11823}{11823} = \frac{896}{11823} \approx 0.08$ 。

第二季度： $\frac{13444 - 12519}{12519} = \frac{925}{12519} \approx 0.07$ 。第三季度： $\frac{14592 - 14347}{14347} = \frac{245}{14347} \approx 0.02$ 。第四季度：

$\frac{13883 - 13763}{13763} = \frac{120}{13763} \approx 0.01$ 。因此增长率最慢的是第四季度，D 项当选。

128. 【解析】D。2015 年第二季度我国火力发电量为 $3409 + 3444 + 3364 = 10217$ （亿千瓦时），2014 年同期为 10582 亿千瓦时，前者比后者少 365 亿千瓦时。因此 D 项当选。

129. 【解析】B。2015 年 2~6 月的发展速度为 $\frac{1028}{565}$ ，那么 2015 年 7~11 月的发展速度也为 $\frac{1028}{565}$ ，

则 2015 年 11 月水力发电量可达 $1028 \times \frac{1028}{565} < 1028 \times 2 = 2056$ （亿千瓦时），因此 B 项当选。

130. 【解析】C。A 项，2014 年第一、二、四季度水力发电量占总发电量的比重均不到 20%，而第三季度的比重超过 20%，可知该项说法正确，排除。

B 项，2013~2014 年各个季度中占比最小的是 2014 年第三季度，其为 $10377 \div 14592 > 10377 \div 14600 > 70\%$ ，可得各个季度的占比均大于 70%，该项说法正确，排除。

C项，2015年1月水力和火力发电量均有所增长，增长方向相同，可得该项说法错误，当选。

D项，2013年第四季度、2014年第一季度、2014年第四季度、2015年第一季度这四个季度环比有所减少，可得该项说法正确，排除。


131. 【解析】C。由材料可得，有创业打算的毕业生人数占比28.6%，则没有创业打算的毕业生人数占比71.4%， $71.4 \div 28.6 \approx 72 \div 29 \approx 2.5$ 。因此C项当选。

132. 【解析】D。由材料可知，大专毕业生打算创业的比重比平均高了7.0个百分点，本科毕业生打算创业的比重比平均低了3.9个百分点。因此得出本科毕业生打算创业的比重比大专生低10.9个百分点。因此D项当选。

133. 【解析】B。由材料可知，本次调查中，有创业打算的毕业生593名，占比28.6%，故没有创业打算的毕业生人数约为： $593 \div 0.286 \approx 2073$ 。再由柱形图可知，因缺乏启动资金而放弃创业的人数占到58.8%，因此缺乏启动资金而放弃创业的人数= $2073 \times 58.8\% \approx 1211$ ，与B项最接近。

134. 【解析】A。能承担创业资金额度低于10万元的毕业生共占比12.8%+45.2%=58%，调查中共有593人打算创业，故所求人数为 $593 \times 58\% \approx 600 \times 0.58 = 348$ 。A项当选。

135. 【解析】A。A项：定位材料第一段，34.5%的男生打算创业，比女生高11.2个百分点，则23.3%的女生打算创业。男女总共打算创业的人数占总人数的28.6%，根据十字交叉法可知，距离之比等于人数的反比，故男女人数比例为 $(28.6 - 23.3) : (34.5 - 28.6) = 5.3 : 5.9$ ，女生人数大于男生人数，表述正确。B项：根据柱形图可知，在没有创业打算的受访者中有25.3%是因为害怕风险，而并非所有的受访者中，主体错误。C项：更愿意在体面单位上班的人数= $1500 \times 11.4\% = 171$ ，排除。D项：定位饼状图可知，能够承担50万以上创业资金的毕业生所占比重为7.1%+2.4%=9.5%，不足一成，表述错误。因此A项当选。



美好的事情即将发生...

something wonderful is about to happen



公考通