




公考通

# 2015 年江苏省录用公务员考试《行测》B 类

(网友回忆版)

公考通网校

[www.chinaexam.org](http://www.chinaexam.org)



公考通 APP 微信公众平台



## 第一部分 言语理解与表达

(共 25 题, 参考时限 20 分钟)

一、片段阅读。每道题包含一段文字, 要求你从四个选项中选出最恰当的一项, 你的选择必须与题干要求相符合。

1. 法治的规范性与权威性, 可以有效规范与约束政府行为, 防止出现违法行使权力、以言代法、以权压法、徇私枉法, 使全社会养成遵纪守法的良好社会风气, 维护市场秩序与社会秩序。法治保护权利与自由的基本价值, 与市场经济自由交换的内在要求高度契合, 两者相互促进。法治不但可以弥补市场失灵的缺陷, 也可以对市场经济的发展起到规范、保障、引领、推动等不同作用。

这段文字主要讨论的是 ( )

- A. 建立法治规范和权威的重要性
- B. 市场经济可以强化法治的权威
- C. 如何有效规范与约束政府行为
- D. 法治建设有利于经济社会发展

2. 民以食为天, 人多地少是不少国家面临的共同问题。在全球化时代, 国际粮价的波动往往对国内粮食生产影响巨大。据介绍, 日本已在境外开发农田 1200 万公顷, 相当于其国内耕地面积的 3 倍; 韩国在海外购买和租赁农田 243 万公顷, 相当于其国内耕地面积的 1.3 倍。日韩农业“走出去”, 借助多元化的规模经营, 获得了强大的国际竞争力, 对保障其粮食供应起到了积极作用。

这段文字讨论的重点是 ( )

- A. 日韩本世纪的耕地面积规模
- B. 日韩“走出去”的海外屯田战略
- C. 人多地少、粮价波动是世界性问题
- D. 国际粮价与国内粮食生产的联动

3. 如果告诉你, 你日常喝的水也许比太阳还要古老, 恐怕除了惊讶之外, 都有点喝不下去了。话说回来, 科学家花费大量精力来论证地球上的水可能是太阳系的长辈, 无疑具有极大的科学价值。

众所周知, 水是生命之源, 这一发现意味着, 宇宙中或许有类似

地球生命的存在。不过对于普通老百姓而言, 在水资源日益匮乏的当下, 知道地球上水的年龄远不如知道如何治理地球上被污染的水域来得迫切。

下列说法与文意不符的一项是 ( )

- A. 地球上大部分水源地已经受到严重污染
- B. 宇宙中可能存在类似人类的智慧生命体
- C. 水污染的治理是老百姓迫切关心的问题
- D. 地球上水的年龄远远超出我们的想象力

4. 儒学的存在不等于儒家哲学家或儒家哲学体系的存在, 不能认为有了儒家哲学家才有儒学, 这是一种片面的看法。儒学在最基础的层面上, 不仅仅是经典的解说, 同时也是中国人的文化心理结构。

文中横线处的“这”指的是（ ）

- A. 儒学是儒家哲学家的经典解说
- B. 儒学是中国人的文化心理结构
- C. 有儒家哲学家才有儒学的存在
- D. 儒学和儒家哲学体系是两回事

5. 睡眠有个神奇的特点，就是我们大多数人总是在每天晚上相同的时间感受到睡魔的召唤。之所以如此，是因为睡眠的启动部分依赖于大脑内的一个“时钟”，这个“时钟”能够追踪记录地球的昼夜更替，以及季节性节律。而这个星球上的其他生物，从细菌和植物，到鱼类、昆虫和哺乳动物，都具有这样的能力，“生物钟”在自然界无处不在。

根据文意，下列现象与“生物钟”无关的是（ ）

- A. 腊梅花香寒冬到来
- B. 公鸡每天清晨打鸣
- C. 旅美归来要“倒时差”
- D. 夏季来临昼长夜短

6. 针对各种社会事件或现象，常常都可以有也会有许多而不是单一的规则。但对某一具体事件、情境，究竟适用哪一规则才合情合理，并非也不可能由规则自身明确规定，这需要适用者本人通过对事件、情境的了解，对适用不同规则可能引发的不同后果来预测和判断。

对文意概括最恰当的一项是（ ）

- A. 运用相同规则也会引起不同后果
- B. 规则掌握在不同人手中后果不同
- C. 规则的运用必须考虑情境与后果
- D. 不同的事件需要适用不同的规则

7. 在现代社会中，虽然以有经济保障和物质享受为前提的婚姻数量迅速减少，但是“金钱决定一切”、“拜金论”仍然在一些人心中根深蒂固。在恋爱婚姻自由的现代社会里，依然存在家长极力干涉子女婚姻的情形，家庭背景、教育背景和工作条件仍然是主要的参考因素。我们不禁思考：金钱能决定一切吗？当然不是。

根据这段文字我们最有可能作出的结论是（ ）

- A. 纯粹建立在美貌和激情基础上的婚姻将会是失败和不幸的婚姻
- B. 婚姻中感情是最重要的因素，经济保障和物质享受均无需考虑
- C. 现代社会中女性需要通过婚姻中的财富和地位提高自身的身份
- D. 为了美好的婚姻，我们要有正确的婚姻观和对待婚姻的态度

8. 老师肩负着培养下一代的重要责任。正确的理想信念是教书育人、播种未来的指路明灯。不能想象一个没有正确理想信念的人能够成为好老师。唐代韩愈说：“师者，所以传道授业解惑也。”“传道”是第一位的。一个老师，如果只知道“授业”、“解惑”而不“传道”，不能说这个老师是完全称职的，充其量只能是“经师”、“句读之师”，而非“人师”了。古人云：“经师易求，人师难得。”一个优秀的老师，应该是“经师”和“人师”的统一，既要精于“授业”、“解惑”，更要以“传道”为责任和使命。好老师心中要有国家和民族，要明确意识到肩负的国家使

命和社会责任。

这段文字的主旨是（ ）

- A. 做好老师，要有理想信念                      B. 做好老师，要有道德情操  
C. 做好老师，要有扎实学识                      D. 做好老师，要有引路意识

9. 夏商及周早期，中国并无商税。这一时期，由于生产力低下，手工业和商业较为落后，且必须在官府作坊内从事生产和贸易，史称“工商食官”。这种体制决定自己对自己征税并无必要。目前也尚无史料记载这一时期曾开征商税。

夏商及周早期中国没有商税的主要原因在于（ ）

- A. 当时整个社会的生产力水平太低                      B. 这个时期手工业和商业比较落后  
C. 当时的统治者还没有征收商税的意识                      D. 从事生产和贸易的作坊全都属于官府

10. ①如果贾珠还在世，他是当然的嫡长子。

②贾宝玉不得不担负起继承贾府家族事业的责任，这是他绝对不愿意承担的责任。

③在一个家庭里，只有嫡长子才是合法的继承人。

④中国古代的宗法制度是“嫡长子制度”。

⑤在小说里，贾宝玉的恐惧与厌倦有着文化的、社会的根源。

⑥但是贾珠早早去世了，腾出位置给贾宝玉。

将以上 6 个句子重新排列，语序正确的是（ ）

- A. ④③①⑥⑤②                      B. ⑤④③①⑥②  
C. ②⑤④③①⑥                      D. ②④③①⑥⑤

**二、文章阅读。阅读下面文章，回答问题。本题共有五道题，每道题提供四个选项，要求你从中选出最恰当的一项，你的选择必须与题干要求相符合。**

2014 年 3 月，几内亚暴发了扎伊尔埃博拉病毒疫情，这种类型的埃博拉病毒具有高达 60%~90% 的致死率，因此成了全世界关注的焦点。

埃博拉是一种神秘的病毒，这种病毒的长相令人生畏。典型的病毒呈现圆球形，而埃博拉病毒在电子显微镜下呈现出纤丝状，这些纤丝会出现弯曲或者缠绕的状态，仿佛蠕虫一般。

埃博拉病毒首次暴发是在 1976 年的非洲。当时扎伊尔（现刚果民主共和国）和苏丹几乎同时暴发了一种神秘的传染病。发病之后，病情会在几天内迅速恶化，稍晚期一些的病人开始浑身出血，鼻子、牙床、眼结膜处会往外渗血，有些人表面看起来没有明显的出血，但内脏已经开始“溶解”，严重的出血会引起低血压和休克，等待他们的将是死亡。

导致这种疾病的病原体很快就被确定了，这是一种新型病毒，研究者们用当地一条小河的名字将这种病毒命名为埃博拉。自从第一次暴发以来，科学家一共发现了五种不同亚型的埃博拉病毒，

并以首发地点进行了命名。这五种埃博拉病毒对人类的致病能力不甚相同，其中扎伊尔埃博拉病毒的致死率最高，可达 60%~90%，而苏丹埃博拉病毒的致死率为 50%左右，这两种埃博拉病毒也是历年暴发最为频繁两种亚型。

非洲是世界上面积第二的大洲，人口超过 10 亿。非洲的热带雨林里孕育着大量的生命，人类的祖先也起源于这里。人类的近亲黑猩猩今天仍旧居住在非洲的热带雨林中。由于遗传背景过于接近，灵长类动物身上保存的危险病原体很多都能够直接感染人类，它们因此成为了人类病原体巨大的自然储存库。

埃博拉是一种神秘的病毒。科学家已在黑猩猩和猴子等灵长类动物以及蝙蝠体内发现了它们的踪迹，并大致上判断出蝙蝠是埃博拉病毒自然条件下的储存库。埃博拉病毒的传播方式也基本被厘清，它们一般是通过直接接触途径在动物间、动物—人类间或者人类间传播。埃博拉病毒的结构组成甚至基因组序列也已经在科学家的掌握之中。不过，这还是没有揭开这种病毒神秘的面纱。

非洲居民有捕猎黑猩猩、猴子和蝙蝠等野生动物当食物的习俗，科学家估计，如 HIV 等一些威胁人类的病原体就是通过这个途径从野生动物跳到人类身上的。但是，捕猎每天都有，埃博拉病毒疫情却没有连续发生。1980 年后，埃博拉病毒在非洲丛林沉寂了 15 年，一直没有向人类发起进攻。直到 1995 年扎伊尔型埃博拉病毒卷土而来，一下子在刚果民主共和国杀死了 254 个人。没有人知道为什么埃博拉病毒给了人类 15 年的“休战期”。

埃博拉病毒是通过直接接触传播的，这种传播途径很容易被阻断。远离传染源、戴上手套和穿上防护服，就能大大减少被传染的可能。但非洲当地的殡葬习俗，无意中成了埃博拉的帮凶。当地人去世后，尸体必须经过亲人处理后才能下葬。而在处理病亡者尸体的过程中，所有操作者不佩戴任何防护装备，这就可能造成病亡者亲友的大面积感染和死亡。

11. 埃博拉病毒之所以“神秘”，主要因为（ ）

- A. 它的暴发尚无规律可循
- B. 它的形状异于其他病毒
- C. 它在动物与人类间传播
- D. 它有高得惊人的致死率

12. 人类发现埃博拉病毒距今（ ）

- A. 近二十年
- B. 近三十年
- C. 近四十年
- D. 近五十年

13. 埃博拉病毒命名源自（ ）

- A. 防控疫情的代号
- B. 扎伊尔名胜古迹
- C. 非洲的神话传说
- D. 发病地天然水道

14. 埃博拉屡次在非洲暴发的主要原因是（ ）

- A. 非洲人口众多且面积广袤
- B. 非洲村民沿袭的生活习俗

C. 非洲有大面积的热带雨林                      D. 非洲丰富的野生动物物种

15. 文章带给读者的主要启示是 ( )

- A. 埃博拉自上世纪七十年代以来已数次在非洲暴发
- B. 埃博拉主要是由非洲灵长类野生动物传给人类的
- C. 埃博拉的致病机理已经被医务工作者所破解
- D. 埃博拉虽然病势凶险，但仍是可预防、可控制的疾病

三、选词填空。从题后所给的四个选项中选出最适合文意的一项。

16. 加大简政放权、放管结合改革力度。今年再取消和\_\_\_\_\_一批行政审批事项，全部取消非行政许可审批，建立\_\_\_\_\_行政审批的管理制度。

依次填入横线处最恰当的一项是 ( )

- A. 下发      规制                                      B. 下放      规范
- C. 下行      规定                                      D. 下调      规避

17. 党员干部要始终严于律己，做到慎独、慎微、慎交友，才能经受住各种\_\_\_\_\_与考验；清廉、清明、清正，既是对领导干部自律的要求，也是他律的\_\_\_\_\_方向。

依次填入横线处最恰当的一项是 ( )

- A. 诱惑      着力                                      B. 挫折      着手
- C. 奉承      着眼                                      D. 攻讦      着意

18. 农业转型过程中，要让市场发挥决定性作用，切忌\_\_\_\_\_、揠苗助长，以行政力量\_\_\_\_\_甚至强推农业规模化。

依次填入横线处最恰当的一项是 ( )

- A. 李代桃僵      指导                                      B. 大包大揽      引导
- C. 越俎代庖      主导                                      D. 鞭打快牛      倡导

19. 书店应当设法降低书价或改善服务，让读者\_\_\_\_\_地掏钱，而不是\_\_\_\_\_，指责消费者说，我们费了这么大心思，你怎么还是跑去网上买书，太不道德了！

依次填入横线处最恰当的一项是 ( )

- A. 真心诚意      悲天悯人                                      B. 心悦诚服      自怨自艾
- C. 心甘情愿      怨天尤人                                      D. 慷慨解囊      自说自话

20. 外交问题的最终决策不能过于追随网络民意。\_\_\_\_\_关注网上反映出来的“民意”，重视互联网反映不出来的“沉默的大多数”的“民意”，\_\_\_\_\_兼顾国内、国际局势，以外交大局为重。

依次填入横线处最恰当的一项是 ( )

- A. 既要      也要      更要                                      B. 只要      就要      还要



C. 既要 还要 又要 D. 只要 只要 就要

21. 文风源于内心，你表面上可以做到不动声色，但作为情感的\_\_\_\_\_，文字通常会将你内心的感受直接表现出来，一个人的文风并不是\_\_\_\_\_的，它会随着人的年龄、心态、思想内涵及的变化而改变。

依次填入横线处最恰当的一项是（ ）

A. 宣泄 一成不变 阅历 B. 抒发 一以贯之 经历  
C. 爆发 一蹴而就 资历 D. 表露 持之以恒 历练

22. 作品通过引入时间\_\_\_\_\_，采用纵贯或历时分析法，对乡镇演变的各个子系统进行了全面的\_\_\_\_\_，为读者\_\_\_\_\_了一幅关于乡镇结构性变迁的立体画卷，具有厚重的历史质感和丰富的空间内涵。

依次填入横线处最恰当的一项是（ ）

A. 尺度 解析 绘制 B. 角度 分析 提供  
C. 维度 剖析 展现 D. 梯度 论析 描摹

23. 法治意味着对合法权利的保护，对公平正义的\_\_\_\_\_，对可预期未来的\_\_\_\_\_。它不是一个宏大抽象的概念，而确实确实关乎每个人的\_\_\_\_\_。

依次填入横线处最恰当的一项是（ ）

A. 坚持 保卫 福音 B. 坚信 守望 福利  
C. 坚守 庇佑 福祉 D. 坚称 维护 福分

24. 辞书是工具书，帮助人们对字词加以正确\_\_\_\_\_与运用，人们将它作为“\_\_\_\_\_”的工具使用。

依次填入横线处最恰当的一项是（ ）

A. 理解 无师自通 B. 解释 有教无类  
C. 解析 润物无声 D. 识别 不可或缺

25. 在微信朋友圈这个编织细密的关系网里，你是一个可以被\_\_\_\_\_却又无法逃脱的小红点，它以不断闪烁的方式，显示自己的存在。你是主动的，也是被动的，一旦创建微信号，就进入了这个令人\_\_\_\_\_的圈子。

依次填入横线处最恰当的一项是（ ）

A. 鄙视 亢奋 B. 忽视 纠结  
C. 轻视 沮丧 D. 藐视 兴奋

## 第二部分 数量关系

(共 15 题, 参考时限 15 分钟)

一、数字推理。给你一个数列, 但其中缺少一项, 要求你仔细观察数列的排列规律, 从四个选项中, 选择最合适的一项, 使之符合原数列的排列规律。

26. 1, 7, 17, 31, 49, ( )

A. 57    B. 67    C. 71    D. 73

27.  $\frac{1}{4}$ ,  $\frac{1}{2}$ ,  $\frac{3}{2}$ , 6, 30, ( )

A. 90    B. 180    C. 150    D. 210

28. 21, 30, 40, 53, 71, ( )

A. 112    B. 113    C. 95    D. 96

29.  $\sqrt{3}$ ,  $\sqrt{5}$ , 3, 4,  $2\sqrt{7}$ , ( )

A.  $\sqrt{24}$     B. 5    C. 7    D.  $3\sqrt{2}$

30. 2.3, 4.8, 8.24, 16.51, 32.89, ( )

A. 64.138    B. 64.136    C. 128.138    D. 128.136

二、数学运算。通过运算, 选择最合适的一项。

31. 某商品今年的成本比去年减少 15%, 由于售价不变, 利润率比去年增加了 24 个百分点, 则该商品去年的利润率为 ( )

A. 24%    B. 30%    C. 36%    D. 42%

32. 一列火车途经两个隧道和一座桥梁, 第一个隧道长 600 米, 火车通过用时 18 秒; 第二个隧道长 480 米, 火车通过用时 15 秒; 桥梁长 800 米, 火车通过时速度为原来的一半, 则火车通过桥梁所需的时间为 ( )

A. 20 秒    B. 25 秒    C. 40 秒    D. 46 秒

33. 某单位扩建周长为 44 米的长方形草坪, 计划扩建后的草坪仍为长方形, 其长和宽分别比原来增加 5 米和 3 米, 面积比原来增加 95 平方米, 则扩建前草坪的面积为 ( )

A. 85 平方米    B. 105 平方米    C. 117 平方米    D. 121 平方米

34. 瓶子原有浓度为 15% 的酒精溶液 1000 克, 分别加入 A、B 两种酒精溶液 100 克和 400 克后 (假设溶液不会溢出), 测得瓶子里的酒精浓度为 14%, 若 A 种酒精溶液的浓度是 B 种的 2 倍, 则 A 种酒精溶液的浓度为 ( )

A. 20%    B. 24%    C. 30%    D. 36%

35. 甲、乙、丙三位同学参加某单位的招聘面试, 面试合格者可正式签约, 甲只要面试合格就签约。



乙、丙二人约定：只有两人面试都合格才一同签约，否则都不签约。若他们三人面试合格的概率

都是 $\frac{1}{2}$ ，且面试是否合格互不影响，则他们三人都没有签约的概率为（ ）

- A.  $\frac{1}{4}$     B.  $\frac{3}{8}$     C.  $\frac{1}{2}$     D.  $\frac{5}{8}$

36. 设 a、b 均为正整数，若  $11a+7b=132$ ，则 a 的值为（ ）

- A. 6    B. 4    C. 3    D. 5

37. 某单位欲将甲、乙、丙、丁 4 名大学生分配到 3 个不同的岗位实习，若每个岗位至少分到 1 名大学生，且甲、乙两人被分在不同岗位，则不同的分配方法共有（ ）

- A. 30 种    B. 36 种    C. 60 种    D. 72 种

38. 甲、乙两个工程队需要在规定的工期内完成某项工程。若甲、乙两队合作，则恰好能按期完成；

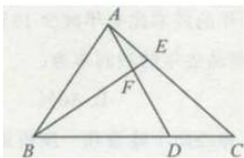
若甲的效率提高 $\frac{1}{3}$ ，乙的效率提高 $\frac{1}{2}$ ，则用原定工期的 $\frac{5}{7}$ 即可完成；若乙的效率降低 $\frac{1}{4}$ ，则需要推迟 2 天才能完成。那么，该工程原定的工期为（ ）

- A. 10 天    B. 12 天    C. 16 天    D. 18 天

39. 某年的 3 月有 5 个星期一和 4 个星期二，则该年的国庆节是（ ）

- A. 星期二    B. 星期三    C. 星期四    D. 星期五

40. 如图，在  $\triangle ABC$  中，已知  $BD=2DC$ ， $EC=2AE$ ，则  $\triangle BFD$  与  $\triangle AEF$  面积的比值为（ ）



- A. 4    B. 6    C. 8    D. 9

### 第三部分 判断推理

（共 40 题，参考时限 35 分钟）

一、类比推理。

（一）请从四个选项中选出正确的一项，其关系与题干给出的词或词组的关系最为相似。

41. 专家：官员

A. 菜农：农民    B. 朝阳：落日

C. 少年：歌手    D. 青山：绿水

42. 熊：熊胆

- A. 鱼：鱼鳔      B. 蜂：蜜蜂  
C. 虫：虫鸣      D. 虾：虾须

43. 屏幕：手机：精巧

- A. 枣核：红枣：酸甜      B. 荷花：荷塘：垂钓  
C. 刊号：刊物：刊登      D. 扉页：书本：阅览

44. 教师：教师法：尊师重教

- A. 企业：劳动法：招聘童工      B. 会计：会计法：虚报账目  
C. 司机：交通法：肇事逃逸      D. 夫妻：婚姻法：婚姻自主

(二) 请从四个选项中选出正确的一项，使得该项的两个词或词组依次代入题干的括号中，能够最大限度地满足题干所表达的类比关系。

45. 天平 之于 ( ) 相当于 ( ) 之于 爱情

- A. 杆秤 感情      B. 男女 法律      C. 公正 玫瑰      D. 平等 幸福

46. 三月 之于 ( ) 相当于 月亮 之于 ( )

- A. 月初一希望      B. 四月一月色      C. 月份一卫星      D. 春季一月球

47. 扎小羊灯 之于 ( ) 相当于 剪福字窗花 之于 ( )

- A. 灯笼—桃花      B. 喜乐—过年      C. 小羊—窗户      D. 细绳—剪刀

(三) 请从四个选项中选出正确的一项，其特征或规律与题干给出的一串符号的特征或规律最为相似。

48. ddad7757KKLK

- A. ssds2332LLJL      B. pppe9919QQEQ      C. zzvz9929GGHG      D. kksk2282PPPG

49. ▼★☆△▼★△☆

- A. ★☆▼△☆★▼△      B. ★▼☆△★▼☆△  
C. △▼★☆▼★☆△      D. ★△▼☆★△☆▼


50. † † † † † † † † † †

- A. † † † † † † † † † †      B. † † † † † † † † † †  
C. † † † † † † † † † †      D. † † † † † † † † † †

## 二、图形推理。

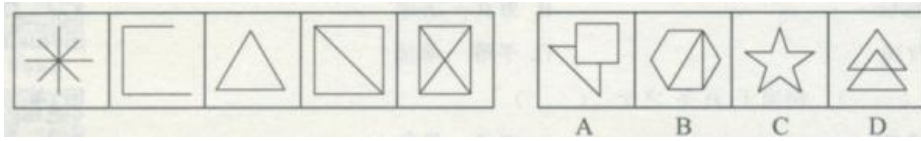
(一) 每道题在左边的题干中给出一套图形，其中有五个图，这五个图呈现一定的规律性。在右边给出一套图形，其中有四个图，从中选出唯一的一项作为保持左边五个图规律性的第六个图。

51.

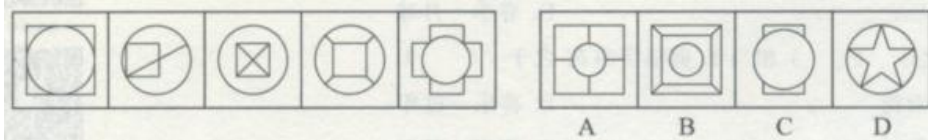


【作图修改：下方四个图形与上方五个图形放在同一行，位于上方图形的右侧】

52.

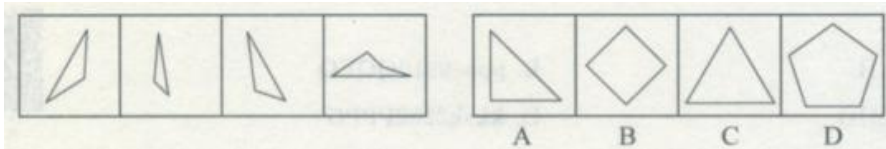


53.

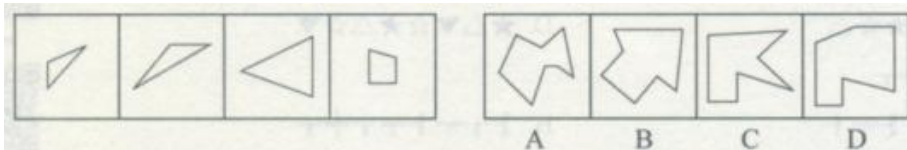


(二) 右边四个图形中，只有一个是由左边的四个图形拼合（只能通过上、下、左、右平移）而成的，请把它找出来。

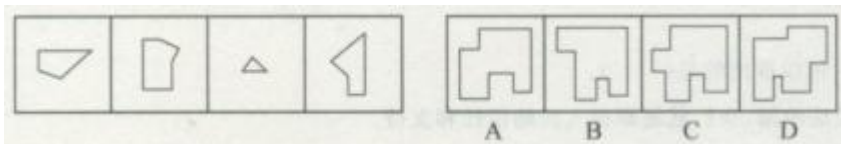
54.



55.

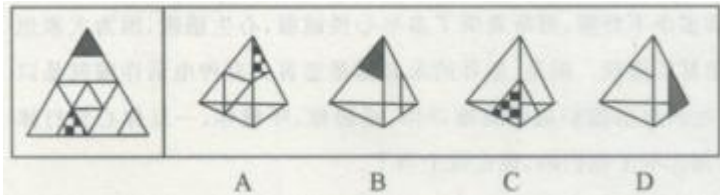


56.

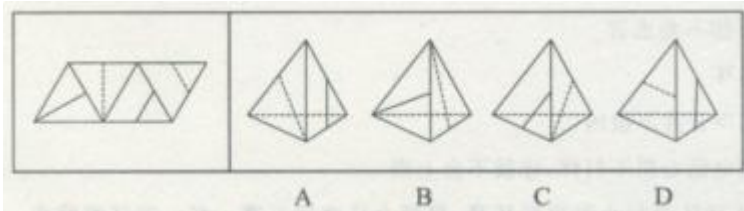


(三) 左边给定的是纸盒外表面的展开图，右边哪一项能由它折叠而成？请把它找出来。

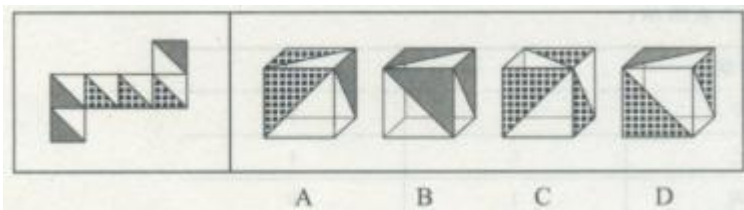
57.



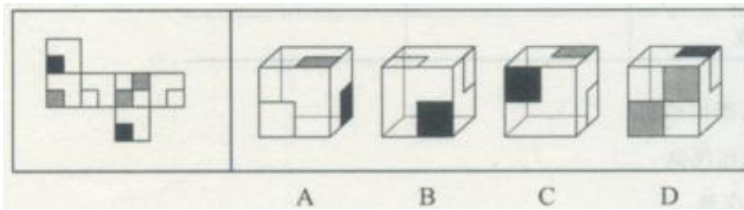
58.



59.



60.



三、逻辑判断。每题给出一段陈述，这段陈述假设是正确的、不容置疑的。请根据这段陈述，选择一个答案。注意：正确的答案不需要任何附加说明即可以根据陈述必然推出。

61. 只有实行依法治国，才能从根本上杜绝腐败；如果不能从根本上杜绝腐败，我们终将失去人民的信任和支持。只有赢得人民的信任和支持，我们的事业才能拥有牢固的政治基础。

根据以上陈述，可以推出的是（ ）

- A. 如果实行依法治国，我们就能赢得人民的信任和支持
- B. 如果从根本上杜绝腐败，我们的事业就能拥有牢固的政治基础
- C. 如果不实行依法治国，我们终将失去人民的信任和支持
- D. 如果不能从根本上杜绝腐败，就不能实行依法治国

62. 中国人大多是在批评与训斥中长大的，父母、老师、长辈、领导……看你哪一点不顺眼，都能给出指教。话多半不好听，可听者听了多半心悦诚服，心生感激，因为大家想的是良药苦口、忠言逆耳的道理。但是，逆耳的未必都是忠言。有种电话诈骗就是以很凶的方式出现的。电话里的他们就是要批评你、威胁你、吓唬你，一旦你心里打怵了，你就听他们的了；而你听了他们的，你也就上当了。

根据以上陈述，可以推出的是（ ）

- A. 有的逆耳之言可能不是忠言
- B. 有的忠言并不逆耳
- C. 有的电话诈骗的声音并不很凶
- D. 如果听到逆耳的电话心里不打怵，你就不会上当

63. 甲、乙、丙、丁、戊 5 支球队进行小组单循环赛，每两个队之间互赛一场。循环赛结束后，各队胜负情况如下表所示：

球队	胜	负
甲	2	2
乙	0	4
丙	1	3
丁	4	0
戊		

根据以上信息，可以推出的是（ ）

- A. 甲队战胜了丙队和戊队
- B. 甲队负于丙队和戊队
- C. 甲队战胜了戊队，但负于丙队
- D. 甲队战胜了丙队，但负于戊队

64. 顾客：老板，鱼香肉丝里怎么没有鱼啊？

老板：这有什么奇怪！难道老婆饼里有老婆吗？

以下哪项的对话方式与上述最为相似或相同（ ）

A. 老师：小明，你为什么没有做我昨天布置的家庭作业啊

小明：对不起，老师！难道没有回家也要做家庭作业吗？

B. 妻：亲，你的钱包里怎么没有钱啊？

夫：这没什么不正常！难道茶叶罐里总是有茶叶吗？

C. 孩子：妈妈，棉花糖里怎么没有棉花啊？

母亲：这很正常！难道你用的英雄牌墨水里藏了一个英雄吗？

D. 顾客：小妹，你卖的珍珠奶茶里怎么没有珍珠呢？

售货员：这有什么稀奇！夫妻肺片里也没有夫妻啊！

65. 近年来，在全国除港澳台以外的 31 个省区市书法家协会中，许多名誉主席、主席、副主席由官员或退休官员担任。几乎在每个省市书法家协会领导名单中，都能看到同级政府官员的名字。有专家指出，党政官员热衷于担任各级艺术类人民团体领导，官员与艺术家在身份和职务上相互

交叠，会让艺术成为腐败的掮客，使各种肮脏的行贿受贿行为在艺术的光环笼罩下大行其事。

以下哪项不能支持上述专家的论断（ ）

- A. 某下属向其领导请求墨宝，再付之以一笔可观的“润笔费”
- B. 某些官员高价出售自己的作品，并坦然视之为“公平交易”
- C. 某些官员书法功底颇为深厚，对别人请求题字一般并不推托
- D. 在多项艺术活动中，具有行政职务的官员总能获得特别优待

66. 某单位寻求对外合作，准备在甲、乙、丙、丁四家单位中确定一个或几个合作对象。单位管理层经过认真调研和讨论，最终形成了以下三种意见：

- (1) 对于甲和乙两单位，至多选择一个。
- (2) 对于甲和丁两单位，至少选择一个。
- (3) 如果选择丙或丁单位，就不能选择乙单位。

在最终决定时，单位领导只采纳了上述一种意见。

根据以上陈述，以下哪项最符合单位领导的最终决定（ ）

- A. 选择乙、丙、丁      B. 选择乙，但不选择丙和丁
- C. 选择甲、乙、丁      D. 选择丙，但不选择乙和丁

67. 在许多人看来，从一而终的就是好婚姻。其实，这种看法并不正确。婚姻不仅意味着身体的忠诚，而且还包含了情感的相互扶持。所以不能说只要没有第三者，婚姻就没有问题。当下中国有许多婚姻是这样一种模式：夫妻并没有出轨，但双方都无法从婚姻中获得抚慰、滋养和治愈。实际上，没有单方面“犯错”的人，每个人都需要为自己的婚姻付出更多的努力。

根据以上论述，可以推出的是（ ）

- A. 从一而终的并不就是好婚姻
- B. 没有第三者的婚姻也会有问题
- C. 只有出现了第三者，婚姻才会有问题
- D. 当下中国大多数婚姻已经出了问题

68. 在以下  $5 \times 5$  矩阵中，每个小方格中可填入一个汉字，要求每行、每列及每个由粗线条围成的小区域内均含有松、菊、梅、兰、竹 5 个汉字，不能重复也不能遗漏。

根据已经给定的条件，可以推出矩阵中①、②、③、④方格中依次填入的汉字是（ ）



	兰		①	
菊		竹	②	
			③	
	梅		④	
			⑤	松

	兰			①
菊		竹		②
				③
	梅			④
				松

【作图要求：只需做出一个表格，表框按照左边粗线框绘制，表中内容以右边框为准】

- A. 菊兰梅竹    B. 兰菊竹梅    C. 梅兰菊竹    D. 菊梅竹兰

69~70 题基于以下题干：

王刚、赵虎与李亮是某机关新进的员工。他们三人中，有两人单身，两人爱好打乒乓球，两人是北方人，两人是公共管理专业硕士。如果王刚与李亮是公共管理专业硕士，则他们都是北方人；如果赵虎与李亮爱好打乒乓球，则他们也都是北方人；如果王刚是北方人，则他单身。已知他们每人最多只有 3 个上述特征。

69. 根据以上陈述，可以得出以下哪项结论（ ）

- A. 王刚单身            B. 赵虎是公共管理专业硕士  
C. 李亮是北方人    D. 王刚爱好打乒乓球

70. 如果王刚是北方人，则可以得出以下哪项结论（ ）

- A. 王刚不是公共管理专业硕士    B. 赵虎不爱好打乒乓球  
C. 李亮不是单身                    D. 赵虎不是北方人

四、定义判断。先给你一个概念的定义，然后给出一组典型例证，要求你从中选出最符合题意的一项。注意：假设这个定义是正确的，不容置疑的。

71. 认知地图效应：指通过对特定事物多次探索之后，头脑中形成一张包含各种相关信息的地图，根据这张地图采取行动，往往能够取得事半功倍的效果。

下列不属于认知地图效应的是（ ）

- A. 庖丁解牛    B. 胸有成竹    C. 老马识途    D. 管中窥豹

72. 社会约定：指某个形式与其所代表的意义之间的关系是由社会成员共同认定并遵守的，两者之间没有必然的联系。

下列属于社会约定的是（ ）

- A. 早霞不出门，晚霞行千里  
B. 高速路上散落的汽车碎片意味着发生过车祸  
C. 红色和绿色在国内股市中分别代表股票指数上涨和下跌  
D. 人的脸色蜡黄表明可能身体患有某种疾病

73. 体验式广告：指让消费者亲身参与产品试用、感受产品质量，在不知不觉中接受、信任产品的广告方式。

下列不属于体验式广告的是（ ）

- A. 某地铁入口处，路人会免费拿到纸巾，纸巾包装袋上印有某新开发楼盘的广告信息
- B. 某大型超市内，推销员正在将某果汁企业新开发的一款橙汁饮料分给顾客免费品尝
- C. 只要添加某化妆品公司微信号并发送“我要试用”，即可免费获得其新款面膜试用装
- D. 某知名家具连锁企业在市区繁华地段新开了家体验馆的消息传开后，一时人满为患

74. 趋同进化：指不同生物物种在进化过程中由于适应相似的环境而呈现出外形上的相似性。

下列属于趋同进化的是（ ）

- A. 海豚和鲨鱼，一个是哺乳动物，一个是鱼类，只是为了更好地在海洋中生存，它们就变得越来越相像了
- B. 随着共同生活时间的增加，夫妻二人的价值观念、生活习惯，甚至连五官都变得越来越相近了
- C. 无脊椎动物中，腔肠动物门的珊瑚、甲壳类的藤壶、棘皮动物门的海百合等，都有相似的辐射对称躯体构型
- D. 蚂蚁从金合欢的刺中取食蛋白质、脂肪和蜜，也在金合欢枝叶间巡逻，咬断缠绕金合欢的其他植物，进攻来此觅食的食草动物

75. 精神赡养：指在家庭生活中，子女理解、尊重、关心、体贴父母，尽力满足其精神生活方面的需要。

下列不属于精神赡养的是（ ）

- A. 老孙最近专门买了1台液晶电视机安装在父母房间，让二老看自己喜欢的节目，还为他们买了多个京剧光盘
- B. 尽管老吴没和父母住在一起，但他多年来已经养成了每天都去看望的习惯，无微不至地照顾好他们的生活，老人们感到很欣慰
- C. 春节临近，“夕阳红”敬老院的李院长请来了朝阳小学的“小红花”乐园，孩子们的欢声笑语和精彩节目，为老人们带来了无尽的快乐
- D. 老姜的母亲已70多岁，但仍不服老，报名参加了交谊舞培训班，为避免老人生气并确保其安全，每次母亲去上课时，老姜都悄悄跟在后面

76. 幻想性错觉：指人们即使对于一个客观中立、并无任何暗示性意义的事物也往往试图从中找出某种特殊意义的心理现象。

下列不属于幻想性错觉的是（ ）

- A. 夜晚，有时候有人会把高空的灯看成星星

- B. 人们常常会在云朵中发现一个个动物形象
- C. 古人认为月亮上有桂树、兔子、嫦娥、吴刚
- D. 天柱山周围的三座山峰延绵相连很像卧佛

77. 星期一综合症：是由于在双休日过分耗费精力处理工作之外的事情，待到星期一上班时出现头晕、胸闷、腹胀、食欲不振、周身酸痛、注意力不集中等症状。

下列属于星期一综合症的是（ ）

- A. 五一小长假，小李和同事们计划已久的黄山之旅终于成行了，3天下来，爬山、聚餐、照相、乘车，一点也不比上班轻松。这不，长假结束刚一上班，个个都跟霜打的茄子——蔫了吧唧的
- B. 终于又到周末了，小王将一部下好的40集连续剧不分白天黑夜地看完了，两天里除了上厕所，就没下过床，饭都是舍友从食堂带的。周一起床整个人昏昏沉沉，干脆向辅导员请假不去上课了
- C. 周六上午陪小孩参加兴趣班，下午学钢琴，晚上带着去品尝风味小吃；周日上午带小孩去游乐场，下午去姥姥家。整个周末，王女士的时间表被小孩子填满了，周一上班脑袋里还是这些，根本没法工作
- D. 已经连续工作了5天，也计划陪女友上街购物，但公司临时通知周末加班，小许只好向女友请假，回到办公室又通宵达旦地干了两天，星期一上班，个个都成了熊猫眼

78. 标杆效应：指在某一区域内，由于消费者对某品牌认知度较高，导致其价格往往比同一区域其他同类商品高出一大截，并影响到整个区域同类商品的价格走势。

下列属于标杆效应的是（ ）

- A. 某市，某大品牌电器企业每到节假日就大搞特价促销活动，其他商家纷纷效仿，也出奇招招揽顾客
- B. 某知名品牌推出的智能手表受到热捧，虽然价格偏高，却一再脱销，其他品牌的智能手表纷纷调低价格抢占市场份额
- C. 市一中即将搬往高新区的消息一经传开，高新区的房价就一路飙升，连紧邻的湾树区房价也跟着涨了三四成
- D. 老徐的网店短短半年内就盈利数万，朋友们纷纷前来取经，采用同样的经营方式创办了自己的网店，一个个赚得盆满钵满

79. 协同治理：指政府部门为了达到公共利益的目标，通过与非政府的、非营利的社会组织和普通公众合作开展社会管理活动的工作模式。

下列属于协同治理的是（ ）

- A. 某市辖区内有多个街道办，每个街道办管辖一片区域，有的街道服务中心专门为老年人和残疾人设立了公益服务的绿色通道

- B. 某高校学生会多次组织大学生深入周边社区，开展心理咨询、消防安全讲座、帮助孤寡老人等公益活动，受到了当地政府部门的表彰
- C. 为创建卫生城市，某市卫生局、环保局、城管局通力合作，卫生防疫人员、环境监测人员、环卫工人和城管人员各司其职，积极工作
- D. 某市为确保城市公交畅通安全，每个公交站台都配有治安巡查员，这些人员中既有职能部门的，也有志愿者协会成员，还有退休者

80. O2O 营销模式：即 Online To Offline，指以互联网为前台，用线上营销带动线下消费的商业营销模式，通常包括商家网上提供商品信息、折扣信息、服务预定，消费者在线预付、线下消费等环节完成商品交易。

下列不属于 O2O 营销方式的是（ ）

- A. 某公司推出线上、线下同价促销活动，旗下的网上商城和实体店所有商品价格相同，一时间网上商城订单量剧增，到实体店提货的人也摩肩接踵
- B. 小兰在时装杂志上看到了一款心仪的长裙，通过某比价网站发现单位附近的一家商场同款长裙正在打折促销，于是趁中午休息时间买了回来
- C. 女朋友生日临近，小袁从网上团购了某酒店的自助餐消费券，邀请多名好友为女友开了一个难忘的生日派对
- D. 某家电厂商利用微信平台向订阅用户定期推送新品上市、促销信息，用户用手机扫描推送信息中商品下方的二维码即可完成支付，等待附近门店的配送

#### 第四部分 资料分析

（共 20 题，参考时限 20 分钟）

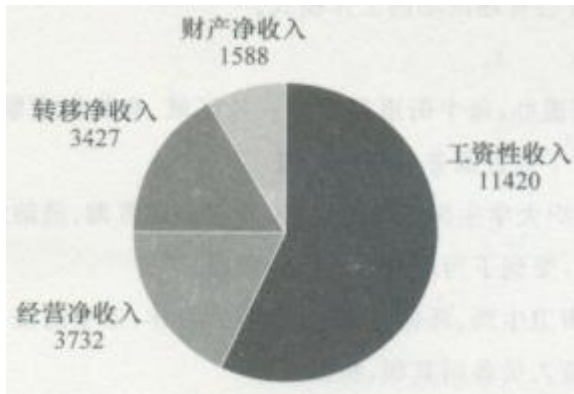
下列给出的文字、表格、图形资料均有 5 个问题要你回答，你应根据资料提供的信息进行分析、计算、处理，然后从备选答案中选择一个最恰当的答案。

一、根据以下资料，回答 81~85 题。

2014 年全国居民人均可支配收入 20167 元，比上年增长 10.1%，收入来源如下图所示。按常住地分，城镇居民人均可支配收入 28844 元，比上年增长 9.0%；城镇居民按户人均可支配收入的中位数为 26635 元，增长 10.3%。农村居民按户人均可支配收入 10489 元，比上年增长 11.2%；农村居民人均可支配收入的中位数为 9497 元，增长 12.7%。全国居民人均消费支出 14491 元，比上年增长 9.6%。按常住地分，城镇居民人均消费支出 19968 元，增长 8.0%；农村居民人均消费支出 8383 元，增长 12.0%。

2014 年全国居民人均可支配收入来源

单位：元



81. 2014 年城镇居民人均消费支出增长比农村居民人均消费支出增长 ( )
- A. 低 2.2 个百分点                      B. 高 4.0 个百分点
- C. 高 2.2 个百分点                      D. 低 4.0 个百分点
82. 2014 年全国居民人均可支配收入中，经营净收入占比为 ( )
- A. 27.0%      B. 18.5%      C. 56.6%      D. 7.9%
83. 2013 年城镇居民人均可支配收入比农村居民人均可支配收入多 ( )
- A. 17030 元      B. 18355 元      C. 16138 元      D. 22090 元
84. 2013 年全国居民人均可支配收入与人均消费支出分别为 ( )
- A. 22177 元、17222 元      B. 18317 元、13222 元
- C. 16367 元、11491 元      D. 20167 元、14491 元
85. 2014 年全国城镇居民人数占全国居民人数的比重为 ( )
- A. 36.4%      B. 42.1%      C. 52.7%      D. 69.9%

二、根据以下资料，回答 86~90 题。

2014 年 1~9 月我国入境外国游客中，来自亚洲 1182.9 万人，其中男性 785.9 万人，女性 397.0 万人；日本、韩国男性分别为 160.5 万人、191.3 万人，女性分别为 38.7 万人、116.4 万人。来自美洲 227.8 万人，其中男性 142.3 万人，女性 85.5 万人；美国、加拿大男性分别为 98.3 万人、27.6 万人，女性分别为 55.7 万人、20.9 万人。来自欧洲 408.7 万人，其中男性 247.2 万人，女性 161.5 万人；英国、德国、法国、俄罗斯男性分别 30.8 万人、35.3 万人、24.8 万人、13.9 万人，女性分别为 13.4 万人、12.7 万人、13.0 万人、4.4 万人。来自大洋洲 58.3 万人，其中男性 35.6 万人，女性 22.7 万人；澳大利亚男性为 29.5 万人，女性为 18.8 万人。分年龄段的来自部分国家的入境人数见下表。

2014 年 1~9 月来自部分国家不同年龄段入境游人数

单位：万人

年龄段	15岁以下	15~25岁	25~45岁	45~65岁	65岁以上
日本	7.8	6.8	80.4	89.5	14.7
韩国	12.3	21.7	120.2	127.6	25.9
美国	11.3	11.4	46.5	69.1	15.7
加拿大	4.7	3.8	15.9	20.4	3.7
英国	2.1	3.3	17.1	18.5	3.2
德国	2.0	3.2	19.8	20.6	2.4
法国	2.3	3.4	17.3	12.5	2.3
俄罗斯	0.5	1.1	8.8	6.9	1.0
澳大利亚	4.0	3.2	16.8	20.0	4.3

86. 2014年1~9月来自加拿大、英国、法国、俄罗斯的入境游人数由多到少排序正确的是（ ）

- A. 加拿大、英国、法国、俄罗斯      B. 英国、加拿大、法国、俄罗斯  
 C. 加拿大、英国、俄罗斯、法国      D. 英国、加拿大、俄罗斯、法国

87. 2014年1~9月来自韩国的入境游人数比日本多（ ）

- A. 134.8%      B. 34.8%      C. 54.5%      D. 154.5%

88. 2014年1~9月来自下列国家的入境游女性人数占该国入境游人数的比重最小的国家是（ ）

- A. 日本      B. 法国      C. 英国      D. 加拿大

89. 2014年1~9月来自德国的入境游客中，25~45岁的游客人数是15岁以下游客人数的（ ）

- A. 10.3倍      B. 9.3倍      C. 9.9倍      D. 8.9倍

90. 下列判断正确的是（ ）

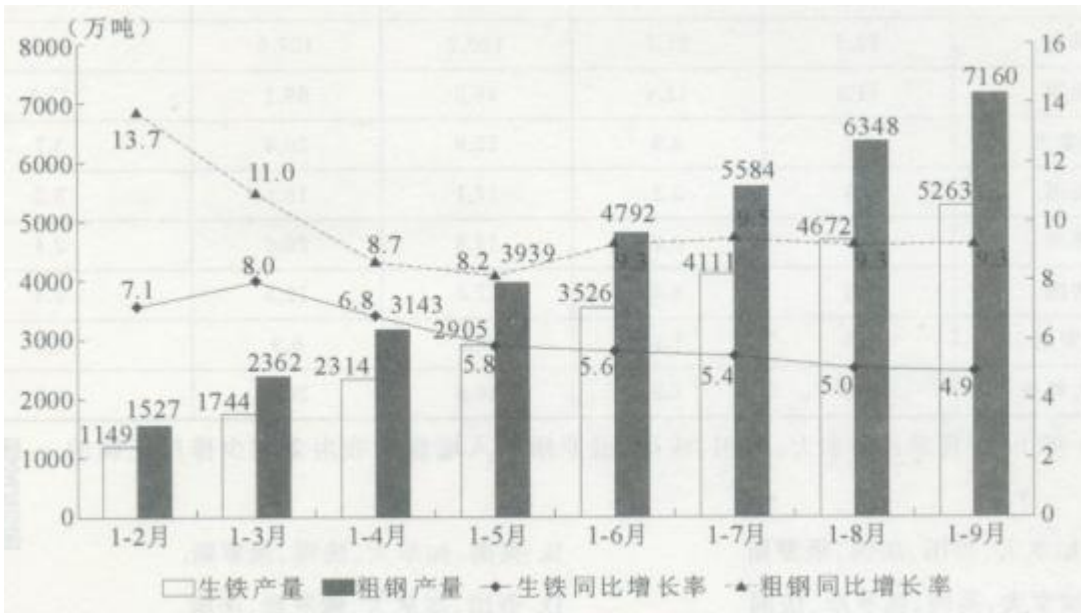
- A. 2014年1~9月来自美国的入境游人数为119.2万人  
 B. 2014年1~9月来自澳大利亚的入境游人数占来自大洋洲入境游人数的82.8%  
 C. 2014年1~9月来自俄罗斯的入境游客中，45~65岁的游客人数多于其他年龄段  
 D. 2014年1~9月来自日本的入境游人数大于来自韩国的入境游人数

**三、根据以下资料，回答91~95题。**

2014年前9个月江苏钢材产量稳步增长。其中1~2月产量为1932万吨，累计同比增长10.0%；3月产量为1127万吨，1~3月累计同比增长8.5%；4月产量为1013万吨，1~4月累计同比增长7.3%；5月产量为1156万吨，1~5月累计同比增长6.1%；6月产量为1236万吨，1~6月累计同比增长6.3%；7月产量为1094万吨，1~7月累计同比增长4.9%；8月产量为1050万吨，1~8月累计同比增长3.8%；9月产量为1149万吨，1~9月累计同比增长3.7%。

2014年1~9月江苏生铁、粗钢产量及同比增长率





91. 2014年9月江苏的粗钢产量比上月增加了 ( )
- A. 56万吨      B. 48万吨      C. 43万吨      D. 40万吨
92. 2014年第二、三季度江苏生铁月产量超过600万吨的月份个数为 ( )
- A. 1个      B. 2个      C. 3个      D. 4个
93. 2014年9月江苏钢材产量约是生铁产量的 ( )
- A. 1.5倍      B. 1.9倍      C. 2.2倍      D. 2.4倍
94. 2014年6~9月江苏粗钢产量同比增长率最低的月份是 ( )
- A. 6月      B. 7月      C. 8月      D. 9月
95. 下列说法不正确的是 ( )
- A. 2014年第三季度江苏的生铁产量为1737万吨
- B. 2014年1~9月江苏钢材产量同比增速呈下降趋势
- C. 2014年2~9月江苏粗钢产量的年内累计同比增速一直高于钢材和生铁
- D. 2014年前三季度江苏钢材的月产量都高于1000万吨

**四、根据以下资料，回答96~100题。**

某市统计局在针对噪音扰民的一次调查中，当问及受访市民对哪一类噪音反感时，选择社区广场舞活动噪音的占8.6%，比选择居民社区宠物狗叫声的低2.9个百分点。当被问及是否支持广场舞活动时，12.8%的受访市民表示无所谓或者不知道，12.0%的受访者表示反对，其他为支持者。在支持的市民中，当被问及支持的主要原因(多选)时，不同年龄段受访者的回答如下图所示。

支持广场舞等活动的受访市民选择各主要原因的比例

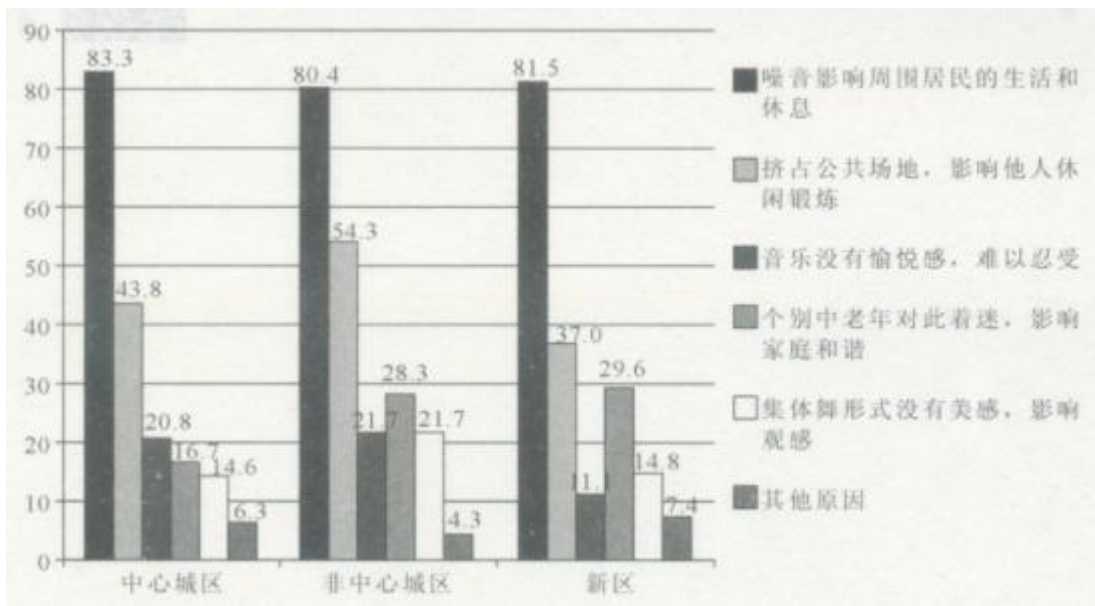
单位：%

原因	青年	中年	老年
----	----	----	----

中老年人的正常锻炼娱乐活动	66	54.6	60.8
有利于中老年人扩大社交、排解孤独	64.7	61.7	54.3
有利于中老年人活动筋骨、减缓衰老	62.8	59.7	58.1
噪音等问题可通过规范管理克服	22.5	16.3	18.8
社会和谐需要相互包容理解	32.1	32.7	31.7
其他原因	0.3	2.1	1.6

在反对的市民中，被问及反对的主要原因（多选）时，不同区域受访者回答如下。

反对广场舞等活动的受访市民选择各主要原因的比例



96. 此次调查中，对居民社区宠物狗的叫声反感的市民占受访市民的比重为（ ）

- A. 12.5%      B. 11.5%      C. 10.5%      D. 9.5%

97. 如果此次调查的受访者数量为 1000 名，则支持广场舞等活动的人数为（ ）

- A. 634      B. 752      C. 798      D. 914

98. 此次调查中，在支持广场舞等活动的受访青年市民中，同时选择“中老年人的正常锻炼娱乐活动”和“有利于中老年人扩大社交、排解孤独”的至少有（ ）

- A. 64.7%      B. 35.3%      C. 30.7%      D. 28.6%

99. 根据此次调查，市民反对广场舞等活动的主要原因是（ ）

- A. 噪音影响周围市民的生活和休息
- B. 挤占公共场地，影响他人休闲锻炼
- C. 音乐没有愉悦感，难以忍受
- D. 集体舞形式没有美感，影响观感

100. 下列判断正确的是（ ）

- A. 此次调查中的 16.3% 的中年受访者认为广场舞等活动可以通过规范管理克服
- B. 此次调查的受访者中，青年所占比例高于中年和老年
- C. 和中心城区的老年人相比，非中心城区的中年人对广场舞更着迷
- D. 在反对广场舞等活动的非中心城区受访者中，选择“音乐没有愉悦感，难以忍受”的比例高于其他区域

### 2015 年江苏省录用公务员考试《行政职业能力测验》B 类真题卷参考答案与解析

1. 【解析】A。首句提出法治的规范性与权威性对政府行为、对社会风气、对市场经济等的重要作用；第二、三句举例说明了法治对市场经济的重要作用。文段整体强调法治的规范性与权威性的重要作用。A 项为主旨句的同义替换句，当选。B 项无中生有，文段只提到法治与市场经济相互促进，没有提到市场对法治的具体作用。C、D 两项概括过于片面，排除。
2. 【解析】B。文段前两句指出人多地少、粮价波动的全球性问题，后两句介绍了日韩两国的解决措施及其起到的积极作用。因此文章论述的重点应该是海外屯田战略对解决粮价波动的影响。B 项与之最为接近，当选。
3. 【解析】A。A 项表述在文段中没有体现。文段论述了老百姓迫切关心水污染的治理，并没有提到地球上大部分水源被污染严重，因此 A 项不符合文意，当选。
4. 【解析】C。根据代词指代的就近原则，“这”指代的应是前一个分句中的“有了儒家哲学家才有儒学”。
5. 【解析】D。根据文段所列举的“这个星球上的其他生物，从细菌和植物，到鱼类、昆虫和哺乳动物，都具有这种能力”可知，拥有“生物钟”的主体是具有生命的生物，A、B、C 三项的腊梅、公鸡、人都符合这一要求，而 D 项“夏季来临昼长夜短”是一种自然规律，与生物无关，因此当选。
6. 【解析】C。文段论述的内容是“事件、情境究竟适用于哪一规则，需要了解事件和情境，以及适用不同规则引发的后果”。C 项概括的最为全面，当选。文段论述的对象是规则的适用，A、B 两项则侧重于规则运用的后果，与文段论述的主体不符，排除。D 项为转折前的内容，概括不全

面，排除。

7. 【解析】D。文段首句指出不正确的金钱观在一些人心中根深蒂固，接着以家长干涉子女婚姻的例子引出段末作者的观点：金钱不能决定一切。文中没有涉及美貌与激情的表述，排除A项。B项，“……均无需考虑”，过于绝对，排除。文中没有涉及女性在婚姻中的地位等内容，排除C项。D项当选。

8. 【解析】A。文段前两句点明主旨，即老师应具备正确的理想信念；接着援引佐证，具体论述了好的老师应当具备的理想信念；最后一句进一步论述主旨，指出好的老师应当“明确意识到肩负的国家使命和社会责任”。A项为主旨的同义替换，当选。B、C两项都属于无中生有。D项的“有引路意识”只是理想信念的具体论述。

9. 【解析】D。根据文意可知，夏商及周早期没有商税是因为“工商食官”这一体制，即必须在官府作坊内从事生产和贸易，自己对自己征税并无必要。因此D项当选。

10. 【解析】B。观察选项可知，首句为②、④或⑤。②中有情态动词“不得不”，不适宜作首句，排除C、D两项。⑤指出存在“文化的、社会的根源”，而②“嫡长子制度”则是对文化及社会根源的具体表述，因此②应位于⑤后，⑤更适宜作首句，排除A项。验证B项，语义明确，逻辑通顺，当选。

11. 【解析】A。根据文段倒数第二段尾句“没有人知道为什么埃博拉病毒给了人类15年的‘休战期’”可知，埃博拉病毒的神秘在于它的暴发尚无规律可循，A项正确。B项是人类已经知道的内容，并不存在“神秘”感，排除。根据第六段尾句“这还是没有揭开这种病毒神秘的面纱”可知，C项并非其“神秘”所在，排除。由第一段可知，D项埃博拉病毒有惊人的致死率也是众所周知的，并不神秘，排除。因此A项当选。

12. 【解析】C。根据文章第三段“埃博拉病毒首次暴发是在1976年的非洲”可知，人类发现埃博拉病毒距今近40年。因此C项当选。

13. 【解析】D。根据文章第四段“研究者们用当地一条小河的名字将这种病毒命名为埃博拉”可知，D项当选。

14. 【解析】B。根据文章最后三段内容可知，科学家已“大致上判断出蝙蝠是埃博拉病毒自然条件下的储存库”，且埃博拉病毒一般通过直接接触在动物间、动物—人类间或人类间传播，而“非洲居民有捕猎黑猩猩、猴子和蝙蝠等野生动物当食物的习俗”。同时，埃博拉病毒的传播途径很容易被阻断，但“非洲当地的殡葬习俗，无意中成了埃博拉的帮凶……这就可能造成病亡者亲友的大面积感染和死亡”。总结可知，非洲的生活习俗是埃博拉屡次在非洲暴发的主要原因，B项当选。

15. 【解析】D。A、B两项都是文章直接所提到的内容，并非启示，排除。C项，文章中并没有提

到埃博拉的致病机理，排除。D项，文章说“埃博拉病毒是通过直接接触传播的，这种传播途径很容易被阻断”，可以给我们启示——埃博拉虽然病势凶险，但仍是可预防、可调控的疾病，D项当选。

16. 【解析】B。第一空，“下行”多与公文搭配；“下调”多与标准搭配，一般不与“事项”搭配，排除C、D两项。第二空，“规制”是公共政策的一种形式，即通过设立政府职能部门来管理经济活动；“规范”用作动词时，指按照既定标准、规范的要求进行操作，使某一行为或活动达到或超越规定的标准。结合语境，显然“规范行政审批”搭配恰当，排除A项。B项当选。

17. 【解析】A。第一空，由空后的“与”可知，横线处填入的词语应是“与‘考验’意思相近、程度相近的名词，是之所以要‘严于律己’的外部环境。”“攻讦”是动词，排除D项。“挫折”多指失败、失利，不适合做“严于律己”的外部环境，排除B项。第二空，“着力”指尽力、致力；“着眼”指（从某方面）考虑、观察。结合语境，这里强调的是领导干部他律的努力方向而不是考虑，排除C项。A项当选。

18. 【解析】C。第一空，语境语义可知，应填入与“揠苗助长”语义相近，与前文的“市场发挥决定性作用”语义相反的词。“李代桃僵”指以此代彼或代人受过，“大包大揽”指把工作或事情全部兜揽、承担起来，“鞭打快牛”比喻赏罚不明，奖懒惩勤，均与文意不符，排除A、B、D三项。“越俎代庖”比喻超出自己业务范围去处理别人所管的事，强调行政力量和市场应该各司其职，符合文意，C项当选。

19. 【解析】C。结合语境可知，第一空意为让读者自愿掏钱买书。“慷慨解囊”形容毫不吝啬、极其大方地在经济上帮助别人；“心悦诚服”指诚心诚意地佩服或服从。读者掏钱买书不存在“帮助他人”、“佩服或服从”，排除B、D两项。第二空，通过转折关联词和横线后的内容可知，强调的是指责和抱怨他人。“悲天悯人”指的是对社会的腐败和人民的疾苦感到悲愤和不平，用在此处不合适，排除A项。因此C项当选。

20. 【解析】A。根据“不能过于追随网络民意”可知，不能只根据网络民意进行决策，据此排除B、D两项。通读文段可知，三个横线处的句子是依次递进关系，只有“既要……也要……更要……”符合这一关系。因此A项当选。

21. 【解析】A。先看第二空，根据文意可知，此处意在说明一个人的表达文风是可以变化的，“一蹴而就”和“持之以恒”不合语义，排除C、D两项。再看第三空，“经历”是指亲身体验的时间过程，是客观的、已经发生的，是不能变化的，而“阅历”是指一个人对社会所发生的事的经历和理解方式，是可以变化的，后者更符合文意。因此A项当选。

22. 【解析】C。第一空，“梯度”指坡度、层次或者某种现象变化的程度，“尺度”指标准，“角度”指看事情的出发点，一般说“从……的角度……”，用在此处都不合适，排除A、B、D三项。



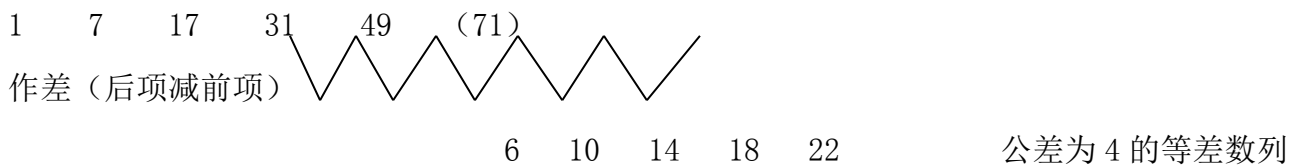
“时间维度”为固定搭配。再验证第二、三空，“进行剖析”、“展现画卷”均搭配合理。C项当选。

23. 【解析】C。“福音”指有益于众人的好消息，“福利”指员工的间接报酬，“福祉”意为幸福、利益、福利，也代表美满祥和的生活环境、稳定安全的社会环境、宽松开放的政治环境，“福分”指享受幸福的运气。结合语境可知，第三空应填“福祉”。验证第一空和第二空，对公平正义的坚守，对可预期未来的庇佑，搭配合理，因此选择C项。

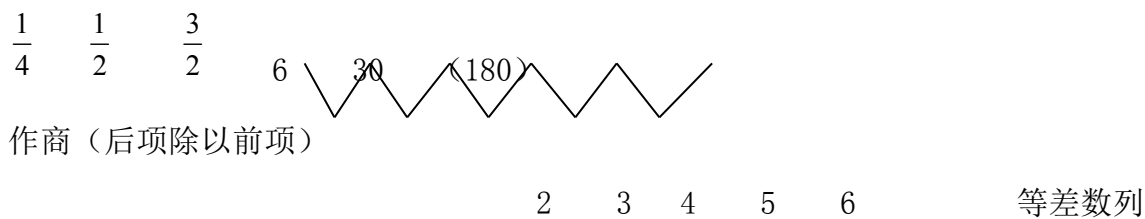
24. 【解析】A。第一空应填入一个在“运用”这个动作之前的动作，或是比“运用”程度更轻的一个词语。由此排除B、C两项。第二空，“无师自通”指没有老师的传授就能通晓；“不可或缺”比喻非常重要，无法替代或缺少的。显然“无师自通”更符合辞书作为工具书的特点，排除D项。A项当选。

25. 【解析】B。根据“你是主动的，也是被动的”可知朋友圈具有双重性，因此这是个令人“纠结”的圈子。再验证第一空，“忽视”符合题意，“轻视”、“鄙视”、“藐视”语义均太重，不符合语境。B项当选。

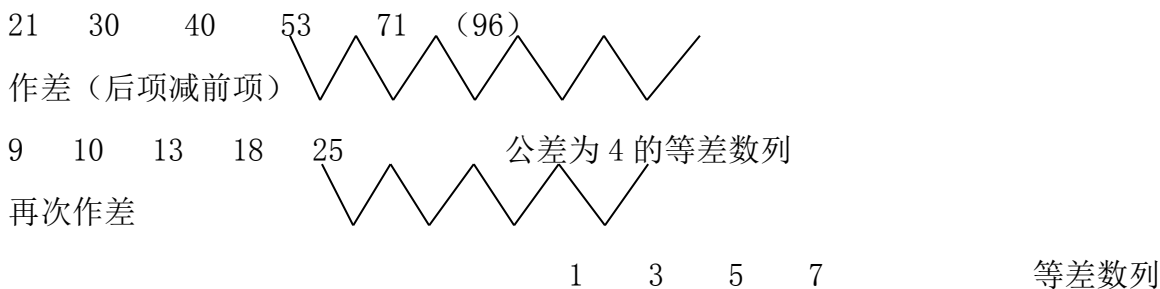
26. 【解析】C。



27. 【解析】B。



28. 【解析】D。



29. 【解析】C。原数列可转化为： $\sqrt{3}, \sqrt{5}, \sqrt{9}, \sqrt{16}, \sqrt{28}$ ，（ ）。根号内数字构成的数列具有如下规律：



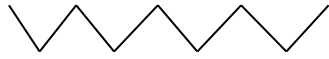




作差（后项减前项）

2 4 7 12 21

再次作差



2 3 5 (9)

再次作差



1 2 (4)

公比为 2 的等比数列

注意：本题在两次作差之后得到 2, 3, 5，猜测可能为质数数列或递推和数列的规律，但经过验证并无对应选项，所以考虑继续作差。

30. 【解析】A. 分组数列。小数点之前的部分组成的数列为 2, 4, 8, 16, 32，是公比为 2 的等比数列，下一项为 64。小数点之后的部分组成的数列为 3, 8, 24, 51, 89，两两作差得到 5, 16, 27, 38，是公差为 11 的等差数列，因此小数点之后的下一项为  $11+38+89=138$ 。因此未知项为 64. 138。

31. 【解析】C. 设该商品去年的利润率为  $x$ 。进行赋值，设该商品去年的成本为 100，则今年的成本为 85，根据“售价不变”可列方程  $100 \times (1+x) = 85 \times (1+x+24\%)$ ，解得  $x=36\%$ 。

32. 【解析】D. 设火车车长为  $x$  米，原来的速度为  $v$  米/秒，根据题意可列方程组 
$$\begin{cases} 600+x=18v \\ 480+x=15v \end{cases}$$
 解

得  $\begin{cases} x=120 \\ v=40 \end{cases}$ 。火车过桥时速度为原来的一半，即为 20 米/秒，则火车通过桥梁所需的时间为  $(800+120) \div 20=46$ （秒）。

33. 【解析】B. 设扩建前长方形草坪的长为  $x$  米，因为扩建前草坪的周长为 44 米，所以扩建前草坪的宽为  $(22-x)$  米。则扩建后草坪的长为  $(x+5)$  米，宽为  $(22-x+3)$  米，根据题意可列方程  $(x+5) \times (22-x+3) = (22-x)x + 95$ ，解得  $x=15$ 。所以扩建前草坪的面积为  $15 \times (22-15) = 105$ （平方米）。

34. 【解析】A. 设 B 种酒精溶液的浓度为  $x$ ，则 A 种酒精溶液的浓度为  $2x$ ，根据题意可列

方程  $\frac{1000 \times 15\% + 100 \times 2x + 400 \times x}{1000 + 100 + 400} \times 100\% = 14\%$ 。则 A 种酒精溶液的浓度为 20%。

35. 【解析】B. 概率问题。根据题意，甲没有签约的概率为  $\frac{1}{2}$ ，乙、丙二人没有签约的概率为

$1 - \frac{1}{2} \times \frac{1}{2} = \frac{3}{4}$ ，所以他们三人没有签约的概率为  $\frac{1}{2} \times \frac{3}{4} = \frac{3}{8}$ 。

36. 【解析】D. 不定方程求解，可分析未知数所应满足的倍数特征。132 为 11 的倍数， $11a$  是 11 的倍数，则  $7b$  也是 11 的倍数，则  $b$  是 11 的倍数，令  $b=11$ ，可得  $a=5$ 。

37. 【解析】A。解法一：从反面考虑，将4名大学生分配到3个不同的岗位，每个岗位至少分到1名大学生的分配方法共有  $C_4^2 \times A_3^3 = 36$  (种)，甲、乙两人被分在同一岗位的分配方法共有  $C_3^1 \times A_2^2 = 6$  (种)，则甲、乙两人被分在不同岗位的分配方法共有  $36 - 6 = 30$  (种)。

上述方法可以更进一步简化：先从选出的两人捆绑中减去甲、乙不能捆绑的情况，有  $C_4^2 - 1 = 5$  (种)，然后三组大学生分到三个岗位有  $A_3^3 = 6$ ，共  $5 \times 6 = 30$  (种)。

解法二：此题正面分步考虑的情况是：将四个人中的两个人捆绑一共有6种捆法，去掉甲和乙捆绑的情形，即甲和乙不捆绑有5种，将这5种捆绑情形分配到三个不同岗位实习，则不同的分配方法为  $5 \times A_3^3 = 30$  (种)

38. 【解析】D。假设甲、乙原来的效率分别为a和b；提速前后时间比为7:5、效率比为5:7，

则有  $a + b = 5$ 、 $\frac{a}{3} + \frac{b}{2} = 7 - 5$ ，可得  $a = 3$ ， $b = 2$ 。减速前后效率之比为  $5 : [3 + 2 \times (1 - \frac{1}{4})] = 5 : 4.5 = 10 : 9$ ，时间比为9:10，差1份对应2天，则原来的时间9份对应18天。

39. 【解析】B。星期日期问题。因为该年的3月有5个星期一和4个星期二，那么3月31日必定是星期一，从4月1日到9月30日共有183天， $183 \div 7 = 26 \dots 1$ ，则9月30日是星期二，所以该年的国庆节是星期三。B项正确。

40. 【解析】C。几何问题。连接CF，因为  $BD = 2DC$ ， $EC = 2AE$ ，所以设  $S_{\triangle FDC} = a$ ，则  $S_{\triangle BFD} = 2a$ ；

设  $S_{\triangle AEF} = 1$ ，则  $S_{\triangle CFE} = 2$ 。结合图形列方程组得 
$$\begin{cases} 3a + 2 = S_{\triangle BCE} = \frac{2}{3} S_{\triangle ABC} \\ a + 3 = S_{\triangle ACD} = \frac{1}{3} S_{\triangle ABC} \end{cases}$$
，两式相除可得  $a = 4$ 。

所以  $\frac{S_{\triangle BFD}}{S_{\triangle AEF}} = \frac{2a}{1} = \frac{2 \times 4}{1} = 8$ ，C项当选。

41. 【解析】C。题干两词项为交叉关系。专家和官员是指人的两种身份，有的专家担任官员，有的官员是某领域的专家，因此是一种身份交叉关系。A项是种属关系，菜农是农民的一种。B项是同一关系，都是指太阳。C项有的少年是歌手，有的歌手是少年，二者之间存在身份交叉关系。D项的青山和绿水是并列关系，为两种风景。C项当选。

42. 【解析】A。熊胆是熊的内部器官，鱼鳔是鱼的内部器官，A项逻辑关系和题干一致，当选。

43. 【解析】A。屏幕是手机的组成部分，有的手机具有精巧的特征。A项与题干逻辑关系一致，枣核是红枣的组成部分，有的红枣具有酸甜的特征。

44. 【解析】D。《教师法》规定了教师的权利和义务，且对尊重教师有正向促进作用。D项的逻

辑关系与题干一致,《婚姻法》规定了夫妻的权利和义务,且对婚姻自主有正向促进作用。A、B、C 三项的第三个词组,都属于其所对应的法律禁止的行为,与题干逻辑关系不符。

45. 【解析】C。天平是公正的象征,玫瑰是爱情的象征。

46. 【解析】C。三月是十二个月中的一个月份,月亮是地球的卫星。

47. 【解析】D。扎小羊灯要用细绳,剪福字窗花要用剪刀。

48. 【解析】C。题干依次由四个小写英文字母、四个数字、四个大写英文字母组成,在这三组中,每组的第一、二、四符号都是相同的。和题干规律一致的只有 C 项。

49. 【解析】D。题干中第一、五位符号相同,第二、六位符号相同,第三位和第八位符号相同,第四位和第七位符号相同,符合此规律的只有 D 项。

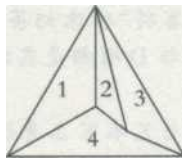
50. 【解析】A。题干中,第一位和第七位符号相同,第二位和第三位符号相同,第四位和第五位符号相同,第六位和第八位符号相同,符合此规律的只有 A 项。

51. 【解析】B。题干中的图形均为禽类,并且头都朝左侧,符合这一规律的只有 B 项。

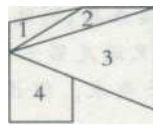
52. 【解析】B。题干中图形的交点数分别为 1、2、3、4、5,因此所选图形应有 6 个交点, B 项当选。

53. 【解析】A。题干中五个图形的封闭空间数均为 5,只有 A 项图形有 5 个封闭空间,当选。

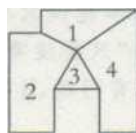
54. 【解析】C。左边四个图形可以拼合成如下图形:



55. 【解析】D。左边四个图形可以拼合成如下图形:



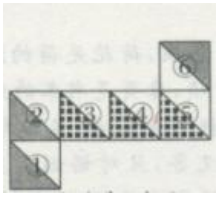
56. 【解析】A。左边四个图形可以拼合成如下图形:



57. 【解析】A。B 项右侧面上的线段应与公共边相交,排除。C 项右侧面内应该是小三角形,排除。D 项左侧面内应该是小三角形,排除。A 项正确。

58. 【解析】A。B 项右侧面虚线的方向错误,排除。C 项右侧面虚线的方向错误,应与公共边平行,排除。D 项右侧面的实线应为长实线,排除。A 项正确。

59. 【解析】A。如下图所示，①和⑥为相对面，因此三个阴影面不能同时出现，排除B项。③和⑤为相对面，因此三个点状面不能同时出现，排除C项。D项右侧面的点状面和空白面位置应互换，排除。A项正确。



60. 【解析】D。图形中的两个空白小正方形面为相对面，不能同时出现，首先排除B项。A项，以正面为参照面存在两种情况（展开图中有两个空白小正方形面）：第一种即右侧面应为两个小阴影正方形的面；第二种即顶面应为两个小阴影正方形的面，A项均不符合，排除。同理，C项以右侧面为参照面，同样存在两种情况，C项均不符合，排除。D项正确。

61. 【解析】C。将题干所述写成逻辑命题的形式：杜绝腐败→依法治国；¬杜绝腐败→失去人民的信任和支持。通过逆否等价定理和递推推理可得：¬依法治国→¬杜绝腐败→失去人民的信任和支持。C项当选。

62. 【解析】A。题干中的“逆耳的未必都是忠言”等价于“逆耳的不必然是忠言，即A项的“有的逆耳之言可能不是忠言”。B项“有的忠言并不逆耳”不能推出。题干“有种电话诈骗就是以很凶的方式出现的”是特称肯定命题，C项“有的电话诈骗的声音并不是很凶”是特称否定命题，由题干表述不能推出C项。D项，题干中“一旦你心里打怵了，你就听他们的了”是充分条件，肯定前件能得到肯定后件，但否定前件并不能得到确定的结论，因此D项也无法推出。A项当选。

63. 【解析】D。由乙队4场比赛全负，以及丙队1胜3负可知，丙队只战胜了乙队，输给了甲、丁、戊队，据此可以排除B、C两项。由于甲队只胜了2场，并且甲队胜了乙队和丙队，因此甲队必然输给了丁队和戊队，排除A项。D项当选。

64. 【解析】D。题干的对话所犯逻辑错误为混淆概念，顾客将“鱼香肉丝”中“鱼”的概念理解为动物“鱼”，老板以同样的逻辑方式反驳。D项中顾客将“珍珠奶茶”中“珍珠”的概念理解为珠宝“珍珠”，同样是混淆了概念，售货员以同样的方式反驳。题干与D项都是实物之间的对比，C项中英雄墨水中的“英雄”为品牌，因此D项更符合题意。

65. 【解析】C。题干中专家的论断是：官员与艺术家的身份重叠会使行贿受贿行为更加便利。A、B、D三项通过增加论据支持了专家的论断。C项客观陈述了某些官员书法功底深厚，对别人请求题字一般并不推托的事实，并不存在腐败受贿行为，所以并不支持专家的论断，因此C项当选。

66. 【解析】C。单位领导只采纳了上述一种意见，采用代入法。假设A项正确，满足意见（1）、（2），排除。假设B项正确，满足意见（1）、（3），排除。假设C项正确，只满足意见（2），符合题意。假设D项正确，满足意见（1）、（3），排除。因此C项当选。

67. 【解析】B。文段中指出“从一而终的未必就是好婚姻”，“未必”的意思是“不一定”，是一种可能性的表述，而A项“从一而终的并不就是好婚姻”是一种肯定性的表述，无法推出。文段中的“不能说只要没有第三者，婚姻就没有问题”，等价于“只要没有第三者，婚姻就没有问题”的否命题成立，而其否命题为“没有第三者，且婚姻有问题”，即没有第三者的婚姻也会有问题，B项可以推出，当选。C项正好与文段的观点相反，不能推出。D项找不到依据，不能推出。

68. 【解析】D。如下图所示，由“每行、每列及每个由粗线条围成的小区域内均含有松、菊、梅、兰、竹5个汉字，不能重复也不能遗漏”可知，①不能填入“兰”和“松”，排除B项。

在十字黑框中，五个格必然要有一个填入“竹”，观察发现“竹”只能填入0处（填入其他三格会与上方的“竹”产生重复）。因为④与0处在同一行，所以④不能填入“竹”，排除A、C两项。D项当选。

	兰		①	
菊		竹	②	
			③	
	梅		④	
			⑤	松

↔	兰↔	↔	↔	①↔
菊↔	↔	竹↔	↔	②↔
↔	↔	↔	↔	③↔
↔	梅↔	↔	0↔	④↔
↔	↔	↔	↔	松↔

【作图要求：只需做出一个表格，表框按照左边粗线框绘制，表中内容以右边框为准】

69. 【解析】B。假设王刚与李亮是公共管理专业硕士，由题干可知他们都是北方人，王刚单身；由于只有两人是北方人，所以可得赵虎不是北方人。由题干“如果赵虎与李亮爱好打乒乓球，则他们也都是北方人”的逆否命题可得，赵虎与李亮不都爱打乒乓球。由于有两人爱好打乒乓球，则王刚必然爱打乒乓球，那么王刚具有题干所述4个特征，与题干矛盾，则王刚与李亮是公共管理专业硕士的假设不成立，即赵虎是公共管理专业硕士，B项当选。

70. 【解析】A。如果王刚是北方人，由题干可知，赵虎和李亮不可能都是北方人，由题干“如果赵虎与李亮爱好打乒乓球，则他们也都是北方人”的逆否命题可得，他们不可能都爱好打乒乓球。由于有两人爱好打乒乓球，则可知王刚爱好打乒乓球。另外，由于王刚是北方人，由题干可知，他是单身。由于每人最多只有3个特征，则王刚必然不是公共管理专业硕士。A项当选。

71. 【解析】D。认知地图效应的定义要点是：（1）对特定事物多次探索；（2）头脑中形成一张包含各种相关信息的地图；（3）根据这张地图采取行动，往往能够取得事半功倍的效果。A、B、C三项都符合定义要点。D项中的“管中窥豹”是指从竹管的小孔里看豹，只看到豹身上的一块斑纹，比喻只见到事物的一小部分，所见不全面或略有所得，不符合定义要点，当选。

72. 【解析】C。社会约定的定义要点是：（1）某个形式与其所代表的意义之间没有必然的联系；（2）由社会成员共同认定并遵守的。A、B、D三项中，某个形式与其所代表的意义之间是有某种



联系的，并不是由社会成员共同认定的，均排除。C项符合定义。

73. 【解析】A。体验式广告的定义要点是：“消费者亲身参与产品试用、感受产品质量”。A项中，消费者拿到的是纸巾，而广告推销的产品是商品房，因此不满足“亲身参与产品试用、感受产品质量”的要点，不属于体验式广告。其余三项均符合定义。A项当选。

74. 【解析】A。趋同进化的定义要点是：“不同生物物种”、“由于适应相似的环境”、“呈现出外形上的相似性”。B项的夫妻不属于“不同生物物种”，C项中的珊瑚、藤壶、海百合都属于无脊椎动物，且选项中没有体现它们生活环境的相似性，D项蚂蚁和金合欢不存在“外形上的相似性”，而A项中哺乳类的海豚和鱼类的鲨鱼，为了适应相似的环境——海洋，从而变得越来越相似了，符合定义要点，当选。

75. 【解析】C。精神赡养的定义要点是：（1）在家庭生活中；（2）子女理解、尊重、关心、体贴父母；（3）满足其精神生活方面的需要。A、B、D三项都符合定义要点。而C项的“小红花”乐园的孩子们并不是老人们的子女，不符合定义要点（1）和（2），当选。

76. 【解析】A。幻想性错觉的定义要点是：对于一个客观中立、并无任何暗示性意义的事物，往往试图从中寻找出某种特殊意义的心理现象。B项在云朵中发现动物形象，C项认为月亮上有桂树、兔子、嫦娥、吴刚，D项将天柱山周围的三座山峰想象成卧佛，都是赋予一个客观中立的事物以某种特殊意义，都符合定义要点。A项把高空的灯看成星星，并不是从客观事物中寻找特殊意义，而是视觉感受的错觉，不是一种心理现象，不属于幻想性错觉，当选。

77. 【解析】C。A项，小李和同事们是小长假出去爬山的，并不是双休日，不属于星期一综合症。B项，小王是学生，不满足“星期一上班”，不属于星期一综合症。D项，小许双休日处理的是工作，不满足“在双休日过分耗费精力处理工作之外的事情”，不属于星期一综合症。C项满足定义的各项要点。C项当选。

78. 【解析】B。A项，没有体现出“价格往往比同一区域其他同类商品高出一大截”。C项，房价飙升并不是消费者对品牌认知度较高导致的，而是消费者获得其他消息后造成的，不符合定义。D项同样没有体现“消费者对某品牌认知度较高”，不符合定义。B项当选。

79. 【解析】D。协同治理的定义要点是：（1）主体是政府部门；（2）方式是“与非政府的、非盈利的社会组织和普通公众合作开展”。A项中街道办是政府的派出机关，不符合要点（2）。B项的主体是某高校学生会，不符合要点（1）。C项的卫生局、环保局、城管局都属于政府部门，不符合要点（2）。D项符合定义要点，当选。

80. 【解析】B。O2O营销模式的定义要点是：“以互联网为前台，用线上营销带动线下消费的商业营销模式”，这种营销模式的主体是商家。B项中，小兰是在比价网站上发现促销信息，并不



是商家在网上提供的折扣信息，不满足定义的主体要件，当选。

81. 【解析】D。由文字资料最后一句话可知，2014年城镇居民人均消费支出增长比农村居民人均消费支出增长低  $12.0\% - 8.0\% = 4.0\%$ ，D项当选。

82. 【解析】B。由饼图数据和文字资料第一句可知，占比为  $\frac{3732}{20167}$ ，利用直除法得到计算结果的首位为1，B项符合。

83. 【解析】A。由资料可知，2014年城镇居民人均可支配收入28844元，比上年增长9.0%；农村居民人均可支配收入10489元，比上年增长11.2%。则2013年城镇居民人均可支配收入比农村

居民人均可支配收入多  $\frac{28844}{1+9.0\%} - \frac{10489}{1+11.2\%} > \frac{28844-10489}{1+10\%} = \frac{18355}{1.1} \approx 16686$  (元)。此外，不难得出2014年城镇居民人均可支配收入的增长量大于农村居民人均可支配收入的增长量，则2013年城镇居民人均可支配收入与农村居民人均可支配收入的差值必然小于2014年两者的差值，即小于18355。满足上述限定范围的只有A项。

84. 【解析】B。2013年全国居民人均可支配收入为  $\frac{20167}{1+10.1\%} \approx \frac{20167}{1.1} \approx 18^{***}$  (元)，直接选择B

项。验证：2013年全国居民人均消费支出为  $\frac{14491}{1+9.6\%} \approx \frac{14491}{1.1} \approx 13^{***}$  (元)，B项正确。

85. 【解析】C。由文字资料所给出的数据，运用十字交叉法可得：

全国居民人均可支配收入			
城镇居民人均可支配收入	28844	\	/
9678			
20167			
农村居民人均可支配收入	10489	/	\
8677			

则  $\frac{\text{城镇居民人数}}{\text{农村居民人数}} = \frac{9678}{8677}$ ，则城镇居民人数占全国居民人数的比重为  $\frac{9678}{9678+8677} = \frac{9678}{18355}$ ，利用直除法得到计算结果的首位为5，C项符合。

86. 【解析】A。2014年1~9月加拿大的入境游人数为  $27.6+20.9=48.5$  (万人)，英国的入境游人数为  $30.8+13.4=44.2$  (万人)，法国的入境游人数为  $24.8+13.0=37.8$  (万人)，俄罗斯的入境游人数为  $13.9+4.4=18.3$  (万人)。由多到少排序为：加拿大>英国>法国>俄罗斯，A项正确。

87. 【解析】C。2014年1~9月来自韩国的入境游人数比日本多



$$\frac{(191.3+116.4)-(160.5+38.7)}{160.5+38.7} = \frac{307.7-199.2}{199.2} = \frac{108.5}{199.2}, \text{ 略大于 } 50\%, \text{ C 项当选。}$$

88. 【解析】A。2014 年 1~9 月日本入境游女性人数占该国入境游人数的比重为

$$\frac{38.7}{160.5+38.7} = \frac{38.7}{199.2} < \frac{1}{5}, \text{ 法国入境游女性人数占该国入境游人数的比重为 } \frac{13.0}{24.8+13.0} = \frac{13.0}{37.8} > \frac{1}{5}, \text{ 英}$$

国入境游女性人数占该国入境游人数的比重为  $\frac{13.4}{30.8+13.4} = \frac{13.4}{44.2} > \frac{1}{5}$ ，加拿大入境游女性人数占该国

入境游人数的比重为  $\frac{20.9}{27.6+20.9} = \frac{20.9}{48.5} > \frac{1}{5}$ ，可知比重最小的是日本，A 项当选。

89. 【解析】C。由表格数据可知，来自德国的入境游客中，25~45 岁的游客人数为 19.8 万人，

15 岁以下游客人数为 2 万人，前者是后者的  $\frac{19.8}{2} = 9.9$ （倍），C 项当选。

90. 【解析】B。A 项，来自美国的入境游人数为  $98.3+55.7=154$ （万人），该项错误。

B 项，需要计算，先跳过。

C 项，俄罗斯 45~65 岁的游客人数为 6.9 万人，小于 25~45 岁的游客人数（8.8 万人），该项错误。

D 项，根据文字资料可得，来自日本的入境游人数  $160.5+38.7$  小于来自韩国的入境游人数  $191.3+116.4$ ，该项错误。

综上可知 B 项正确。下面来验证 B 项：来自澳大利亚的入境游人数占来自大洋洲入境游人数的比

重为  $\frac{29.5+18.8}{58.3} = \frac{48.3}{58.3} \approx \frac{50}{60} \approx 83.3\%$ 。由于是估算，存在一定误差，所以该项正确。

91. 【解析】B。由图可得 2014 年 9 月粗钢产量为  $7160-6348=812$ （万吨），8 月粗钢产量为  $6348-5584=764$ （万吨），则 9 月江苏的粗钢产量比上月增加了  $812-764=48$ （万吨）。B 项正确。

92. 【解析】A。2014 年 4 月江苏生铁产量为  $2314-1744=570$ （万吨），5 月产量为  $2905-2314=591$ （万吨），6 月产量为  $3526-2905=621$ （万吨），7 月产量为  $4111-3526=585$ （万吨），8 月产量为  $4672-4111=561$ （万吨），9 月产量为  $5263-4672=591$ （万吨）。则第二、三季度生铁月产量超过 600 万吨的月份个数为 1 个，A 项当选。

93. 【解析】B。由上题计算过程可知 2014 年 9 月生铁产量为 591 万吨，由资料可知 2014 年 9


月钢材产量为 1149 万吨，则钢材产量是生铁产量的  $\frac{1149}{591} \approx 2$ （倍），B 项与之最接近，当选。

94. 【解析】C。读图可知，1~5月粗钢产量同比增长率为8.2%，1~6月同比增长率为9.3%，则可知6月份同比增长率大于9.3%。同理可知7月份同比增长率大于9.5%，8月份同比增长率小于9.3%，9月份同比增长率等于9.3%，因此8月最低，C项当选。
95. 【解析】D。A项，2014年第三季度的江苏的生铁产量为 $5263-3526=1737$ （万吨），该项正确。B项，由文字资料可得2014年1~9月江苏钢材产量同比增速呈下降趋势，该项正确。C项，由文字资料和图形材料可得，粗钢产量的年内累计同比增速一直高于钢材和生铁，该项正确。D项，由文字资料“1~2月产量为1932万吨”可得，1月和2月中至少有一个月的产量低于1000万吨，该项说法错误，当选。
96. 【解析】B。根据文字资料第一段第一句可知，对居民社区宠物狗的叫声反感的市民占受访市民的比重为 $8.6\%+2.9\%=11.5\%$ ，B项正确。
97. 【解析】B。支持广场舞等活动的人数为 $1000\times(1-12.8\%-12.0\%)=752$ （人），B项正确。
98. 【解析】C。在题干的表格资料中，分别给出受访青年中选择两个原因的人数比例，但是64.7%和66.0%的数据，明显不能进行简单的加和。分析资料内容会发现是由于问及的市民可以进行多项选择，即各组数据都存在重叠。题干要求两个原因比例的最小值，可使用集合关系和容斥原理计算。两个原因同时选择的比例至少为 $64.7\%+66.0\%-1=30.7\%$ ，C项当选。
99. 【解析】A。根据柱状图中柱状的高低可以判断出市民反对广场舞等活动的主要原因是“噪音影响周围市民的生活和休息”，A项正确。
100. 【解析】D。A项，在支持的市民中，有16.3%的中年受访者认为广场舞等活动可以通过规范管理克服，并不是此次调查中的中年受访者的16.3%，该项错误。B、C两项在资料中均没有提及，均排除。D项，在反对广场舞等活动的非中心城区受访者中，选择“音乐没有愉悦感，难以忍受”的比例为21.7%，高于中心城区（20.8%）和新区（11.1%），该项正确，当选。



公考通

[www.chinaexam.org](http://www.chinaexam.org)



美好的事情即将发生...

something wonderful is about to happen